



Adı Soyadı :

Numarası :

Konu: İtme ve Çekme Kuvveti Görsel Etkinliği


Aşağıdaki görsellerde itme kuvveti uygulanıyorsa "itme", çekme kuvveti uygulanıyorsa "çekme" yazınız.



.....



.....



.....



.....



.....



.....



.....



.....




.....



.....



.....



.....




.....



.....



.....



.....