





Adı Soyadı : .....


Numarası : .....

Konu: Eşleştirme Etkinliği 2


Tavuk sayıları ile yumurta sayılarını karşılaştırınız. Sayısı daha az olan grubu söyleyiniz.




Kelebek sayıları ile çiçek sayılarını karşılaştırınız. Sayısı daha çok olan grubu işaretleyiniz.





Üzerinde daha çok elma bulunan ağacı işaretleyiniz.





Laleler ile gülleri eşleştiriniz. Sayısı az olan grubu işaretleyiniz.



Gruptaki kuşlar ile yuvalarını eşleştirelim. Nesne sayısı az olan grubu işaretleyelim.



Gruptaki tavşan ile havuçları eşleştirelim. Nesne sayısı az olan grubu işaretleyelim.



Aşağıdaki nesne sayılarını karşılaştırınız. Nesne sayıları eşit olan grupların başındaki kutucuklara "X" işareti koyarak eşleştiriniz.

