

Bir gün **Hoca** pazara giderken çocuklar etrafını sarmışlar. Hepsi birer düdük ismarlamış ama çocuklardan biri dışında para veren olmamış.

Hoca akşama doğru pazardan dönmüş. Yolunu bekleyen çocuklar hemen Hoca'nın etrafını sararak düdüklerini istemişler.

Nasrettin Hoca, cebinden bir düdük çıkarıp kendisine para veren çocuğa uzatmış. Ötekileri bağırmaya başlamışlar:

- Ya bizim düdükler nerede?

Hoca'nın cevabı kısa ve anlamlı olmuş:

- Parayı veren düdüğü çalar.

➤ İlk iki soruyu metne göre cevaplayınız.

1) Metnin **konusu** aşağıdakilerden hangisidir?

- A) Hoca'nın misafirperverliği
- B) Çocukların yardımseverliği
- C) Hayvanları korumak
- D) Paranın önemi

2) Aşağıdaki atasözlerinden hangisi metnin ana fikrine zıt bir atasözüdür?

- A) Emek olmadan yemek olmaz
- B) Lafla peynir gemisi yürümez
- C) Para peşin, kırmızı meşin
- D) Bedava sirke baldan tatlıdır

3)



Yukarıdaki gezegenlerden kaç tanesi **eş anlam** gezegendir?

- A) 5
- B) 4
- C) 3
- D) 2

4)

Dün hava .....

Yukarıdaki cümleyi aşağıdakilerden hangisi ile **devam** ettirirsek cümlemin sonuna **nokta** koymamız gerekir?

- A) açık mıydı hatırlamıyorum
- B) nasıldı acaba
- C) bulutlu muydu
- D) ne zaman karardı

5) Aşağıdaki cümlelerin hangisinde **virgül** kullanımında hata vardır?

- A) Bir varmış, bir yokmuş.
- B) Hayır, bu iş böyle gitmez.
- C) Hıçkıra, hıçkıra ağlıyordu.
- D) Pazardan elma, armut ve üzüm aldım.



Yukarıda çocukların, kullandığı yerlere örnek verdikleri **noktalama** işareti aşağıdakilerden hangisidir?

- A) Virgül B) Tırnak İşareti  
C) Kesme İşareti D) Üç Nokta

7)

Ne mutlu Türk'üm diyene	Ne olacak şimdi
Sus ya, konuşma artık	Öyle neşeli ki

Yukarıdaki cümlelerden sonuna **ünlem** işareti gelecekleri boyarsak ortaya nasıl bir **şekil** çıkar?

- A) 

■	□
□	■

 B) 

■	□
■	□
- C) 

■	■
□	□


 D) 

□	□
■	■



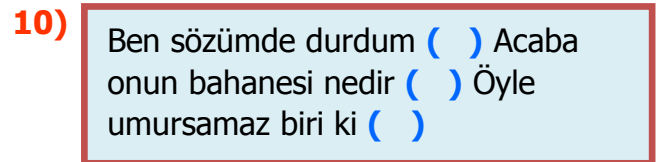
Her biri bir **şekil** ile eşleştirilen kelimelerin **sözlük sırasına** göre **doğru** dizilişi aşağıdakilerden hangisidir?

- A) 1-■ 2-▲ 3-● 4-☆  
B) 1-▲ 2-● 3-☆ 4-■  
C) 1-☆ 2-● 3-■ 4-▲  
D) 1-● 2-☆ 3-■ 4-▲



**Koyunların** üzerindeki kelimelerden kaç tanesi **yanlış** hecelenmiştir?

- A) 4 B) 5  
C) 2 D) 3



Yukarıdaki cümlelerde **parantez** içlerine hangi **noktalama** işareti **gelmeyecektir**?

- A) Nokta B) Soru İşareti  
C) Virgül D) Üç Nokta

11)



Aşağıdakilerden hangisi, yukarıdaki sayıların **okunuşlarından** biri değildir?

- A) Altmış iki bin otuz dört
- B) Altmış iki bin yüz dört
- C) Altmış iki bin dört
- D) Altmış iki bin üç yüz dört

12)




1. Filin sayısını **birler** bölüğüne, kaplanın sayısını **binler** bölüğüne yazalım.
2. Gergedanın sayısını **birler** bölüğüne, baykuşun sayısını **binler** bölüğüne yazalım.

Yukarıdaki **yönergelere** göre oluşan yeni sayılar aşağıdakilerden hangisidir?

	1	2
A)	1623	97085
B)	6231	85970
C)	623001	970085
D)	100623	9785

13)



Sevimli kurbağa, **en yakın yüzlüğe** yuvarlandığında **1000** olan yapraklara zıplamak istiyor. Buna göre kurbağa yukarıdaki **yapraklardan** kaç tanesine zıplamamalıdır?

- A) 3
- B) 4
- C) 5
- D) 6

14)

- Zeynep'in parası Serhat'ın parasından çok değildir.
- Hazel'in parası Serhat'ın parasından fazladır.
- Zeynep'in 4635 lirası vardır.

Yukarıdaki **ipuçlarına** göre, hangisi Hazel ve Serhat'ın para miktarları olamaz?

SERHAT	HAZEL
--------	-------

- A) 4636 ₺ - 4637 ₺
- B) 5222 ₺ - 5299 ₺
- C) 4634 ₺ - 4599 ₺
- D) 4711 ₺ - 4801 ₺



Yukarıdaki dizilimin kurallı bir sayı örüntüsü olması için **ne** yapmamız gerekir?

- A) 3. sayıya 2 eklememiz gerekir.  
 B) 2. sayıdan 1 çıkarmamız gerekir.  
 C) 4. sayıdan 2 çıkarmamız gerekir.  
 D) Son sayıya 1 eklememiz gerekir.

16)







Yukarıdaki **rakamlarla** oluşturulabilecek, rakamları farklı, üç basamaklı en büyük ve dört basamaklı en küçük sayıların **toplamı** kaçtır?

- A) 5320                      B) 2035  
 C) 5852                      D) 2567

17)

	2	▲	6	9		3	4	5	★
+	1	7	●	5	+	2	■	6	3
	4	6	1	4		5	5	2	0

Yukarıdaki işlemlere göre şekillerden oluşan dört basamaklı     sayısının en yakın onluğa yuvarlanması ile oluşan sayı kaçtır?

- A) 4078                      B) 4180  
 C) 4070                      D) 4080

18)



Yukarıdaki ürünlerin ikisini de almak için para biriktiren **Kübra**, toplam **5389** ₺ para biriktirmiştir. Buna göre Kübra'nın ne kadar daha paraya ihtiyacı vardır?

- A) 2688 ₺                      B) 2947 ₺  
 C) 4358 ₺                      D) 8077 ₺

19) Her yıl bir önceki yıldan **175** tane daha az ağaç diken **Veysel**, ilk yıl **3564** tane ağaç dikmiştir. Buna göre Veysel 3 yıl sonunda toplam kaç ağaç dikmiş olacak?

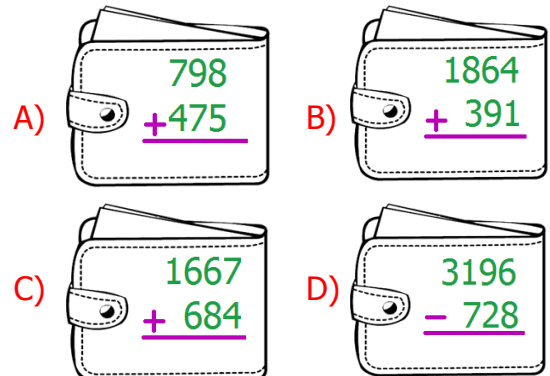
- A) 6953                      B) 7864  
 C) 10167                      D) 10692

20)



Babam cüzdanındaki parayı doğru tahmin edersem bana harçlık vereceğini söyledi. Bunun için bana dört adet işlem ve bir ipucu verdi.

**İpucu:** İşlemlerden birinin sonucu paranın **miktarıdır** ve bu sonuç en yakın yüzlüğe yuvarlanınca **2300** olmaktadır. Buna göre hangi **işlemin** sonucu paranın miktarıdır?





21) Mineraller doğal yollarla oluşan sıvı maddelerdir.	?
Bakır, uçak ve otomotiv sanayinde en fazla kullanılan madendir.	?
Altın, gümüş ve değerli taşların hepsi mineraldir.	?
Granit, zemin ve duvar yapımında kullanılır.	?

Yukarıdaki bilgilerden doğru olana **D**, yanlış olana **Y** yazarsak nasıl bir görüntü oluşur?

A) <table border="1"><tr><td>D</td></tr><tr><td>Y</td></tr><tr><td>D</td></tr><tr><td>D</td></tr></table>	D	Y	D	D	B) <table border="1"><tr><td>Y</td></tr><tr><td>D</td></tr><tr><td>D</td></tr><tr><td>D</td></tr></table>	Y	D	D	D	C) <table border="1"><tr><td>Y</td></tr><tr><td>Y</td></tr><tr><td>D</td></tr><tr><td>D</td></tr></table>	Y	Y	D	D	D) <table border="1"><tr><td>Y</td></tr><tr><td>Y</td></tr><tr><td>Y</td></tr><tr><td>D</td></tr></table>	Y	Y	Y	D
D																			
Y																			
D																			
D																			
Y																			
D																			
D																			
D																			
Y																			
Y																			
D																			
D																			
Y																			
Y																			
Y																			
D																			

22)



Yukarıdaki **ağaçta**, farklı zamanlarda oluşan durumların sebebi nedir?

- A) Dünya'nın Güneş etrafında dolanması  
 B) Ay'ın Dünya etrafında dolanması  
 C) Dünya'nın kendi etrafında dönmesi  
 D) Güneş'in kendi etrafında dönmesi

23)



Dünya'nın Güneş etrafında dolanması



Dünya'nın kendi etrafında dönmesi

Yukarıda olaylarla hayvanlar eşleştirilmiştir. Buna göre, bu **hayvanların** yerlerine neler gelmelidir?



- A) Mevsimler – Gece/Gündüz  
 B) Haftalar – Saatler  
 C) Yıllar – Sıcaklık  
 D) Gece/Gündüz – Mevsimler

24) Aşağıdaki sürelerden hangisi, Dünya'nın Güneş etrafında **1 tam dolanımıyla** oluşan sürelerden değildir?

- A) 12 ay  
 B) 1 yıl  
 C) 4 mevsim  
 D) 57 hafta

25)



Bol bol **ekmek** yiyen Emine, hangi içeriği fazlaca almaktadır?

- A) yağ  
 B) karbonhidrat  
 C) vitamin  
 D) protein





26)

Protein	Yağ	Karbonhidrat
Yumurta	Susam	Patates
1	2	3

**Besin içerikleriyle** eşleştirilen rakamların yerine aşağıdakilerden hangileri yazılabilir?

- A) Bal - Domates - Ceviz  
 B) Et - Ayçiçeği - Makarna  
 C) Kivi - Patlıcan - Nane  
 D) Nohut - Elma - Zeytin

27) Aşağıdaki **besinlerden** hangisi içeriği yönünden diğerlerinden farklıdır?

- A)  Muz  
 B)  Ayçiçeği  
 C)  Ceviz  
 D)  Tereyağı

28)



Paketlenmiş ya da dondurulmuş gıda alan birinin aşağıdakilerden hangisine **dikkat** etmesine gerek yoktur?

- A) Paketin üzerinde Türk Standartları Enstitüsü işaretinin olup olmasına  
 B) Paketin açık olup olmadığına  
 C) Ürünün ambalajının rengine ve şekline  
 D) Üretim ve son tüketim tarihlerine

29)



Kış mevsiminde, marketten **salatalık** alan Arif, aldığı salatalığın tadının, yazın anneannesinin bahçesinde yediği salatalık gibi güzel olmadığını görünce şaşırıldı. Buna göre aşağıdakilerden hangisi doğrudur?

- A) Salatalığı tuzlayıp yemeliydi.  
 B) Salatalığın tadı her mevsimde kötüdür.  
 C) Mevsime uygun meyve ve sebze almalı.  
 D) Alışveriş yaptığı marketi değiştirmeli.

30)



Aşağıdakilerden hangisi **bilinçsiz** bir tüketici davranışdır?

- A) Mevsimine uygun sebze ve meyve tüketir.  
 B) Paketlenmiş ürünlerin doğal ve taze olanını tercih eder.  
 C) Son tüketim tarihi geçmiş ürünleri kesinlikle satın almaz.  
 D) Paketi açık olsa da güvendiği markanın ürünlerini satın alır.

31)



Kimlik belgenizi  
görebilir miyim?

Polis, **kimlik** belgesine bakarak aşağıdaki sorulardan hangisini cevaplayamaz?

- A) Bu kişinin kardeşinin adı nedir?
- B) Bu kişi kaç yaşındadır?
- C) Bu kişi hangi tarihte doğmuştur?
- D) Bu kişinin annesinin adı nedir?

32)

	2010 yılında yürüdü.
	2014 yılında okula başladı.
	2008 yılında doğdu.
	2011'de konuşmaya başladı.
	2016'da gitar çalmaya başladı.

Yukarıda **Hülya'nın** hayatıyla alakalı bazı bilgiler verilmiştir.

Her biri bir çiçek ile eşleştirilen bilgilerin **kronolojik** sıralamasına göre **3. sırada** hangi çiçek bulunur?

- A)
- B)
- C)
- D)

33)



**Ahmet** 24 kilodur. **Hakan** ise 30 kilodur. Kendisinden zayıf olan Ahmet ile dalga geçen **Hakan'ı** nasıl uyarmalıyız?

- A) Düzenli ve temiz olmalısın.
- B) Çöpleri, çöp kutusuna atmalısın.
- C) Fiziksel farklılıklara saygılı olmalısın.
- D) Sağlıksız yiyecekler yememelisin.

34)



Salih, komşularının gece vakti çok ses yapmaları sebebiyle uyuyamamaktadır. Buna göre Salih'in komşuları hangi özelliğe **zıt bir davranış** göstermektedirler?

- A) Empati
- B) Öfke
- C) Nefret
- D) Saygısızlık

35) Aşağıdaki cümlelerden hangisi hoşgörü kavramına **örnek** bir ifadedir?

- A) Benimle aynı fikirde olmanız gerekir.
- B) Bize yapılan kötülüğü affetmemeliyiz.
- C) Başkalarının fikirlerine saygı duymam.
- D) Kimseye karşı kötülük düşünmemeliyiz.

36)



Büyüklerimizden **aile tarihimizi** öğrenmek istiyorsak aşağıdaki sorulardan hangisini sormamız yanlış olur?

- A) Hangi okulları bitirdiniz ve hangi meslekleri edindiniz?
- B) Hangi yıllarda ve nerelerde dünyaya geldiniz?
- C) Birbirinizi nasıl tanıdınız ve ne zaman evlendiniz?
- D) Torunlarınızdan hangisini daha çok seviyorsunuz?

- 37) **I.** Görüşme yeri ve zamanı belirlenir.  
**II.** Görüşme sırasında kullanılacak araç gereçler hazırlanır.  
**III.** Görüşme kayıtları düzenlenerek yazılı hale getirilir.  
**IV.** Görüşme yapılacak kişi belirlenir.

Yukarıda verilen **sözlü tarih** aşamalarından hangisi diğerlerinden daha önce gerçekleştirilir

- A) **I.**
- B) **IV.**
- C) **II.**
- D) **III.**

38) Aşağıdakilerden hangisi **milli** kültürümüzü yansıtan öğelerden değildir?

- A) Büyüklerin ellerini öpmek
- B) Misafire kahve ikram etmek
- C) Yılbaşında çam ağacı süslemek
- D) Hastaları ziyaret etmek

39)

Oyun, iki takım arasında bir top ve avuç içi büyüklüğündeki yassı kiremit parçalarıyla oynanır. Kiremit parçaları üst üste dizilir. Atış yapacak takımdan bir kişi, dört beş metre mesafeden topu kiremitlere doğru yuvarlar. Oyuncu bir kiremit bile olsa yıkmayı başardığı anda takım arkadaşlarıyla birlikte etrafa kaçar. Ebe olan takımın oyuncuları ise topla kendi aralarında paslaşarak kaçanları vurmaya çalışırlar. Bu sırada kaçan oyuncular bir yandan vurulmamaya dikkat ederken diğer yandan kiremitleri tekrar üst üste dizmek için fırsat kollarlar.

Yukarıda bir kısmı anlatılan **oyun** aşağıdakilerden hangisidir?

- A) birdirbir
- B) dalye
- C) aşık oyunu
- D) topaç çevirme

40)



Güven, zamanının büyük bir kısmını **bilgisayar** karşısında geçirmektedir. Bu sebepten dolayı epey kilo almıştır. Aşağıdakilerden hangisi bu durumun sebeplerinden değildir?

- A) Yüksek binaların artması ve bahçeli evlerin azalması
- B) Hızlı kentleşme ve teknolojinin gelişmesi
- C) Bilgisayarın, çocukların derslerine ve zekâlarına olumlu etkisi
- D) Çocukların güvenle oyun oynayacağı alanların bulunmaması



# CEVAP ANAHTARI

TÜRKÇE	MATEMATİK	FEN BİL.	SOSYAL BİL.
1) D	11) B	21) C	31) A
2) D	12) C	22) A	32) B
3) B	13) B	23) D	33) C
4) A	14) C	24) D	34) A
5) C	15) A	25) B	35) D
6) C	16) D	26) B	36) D
7) B	17) D	27) A	37) B
8) D	18) A	28) C	38) C
9) A	19) C	29) C	39) B
10) C	20) B	30) D	40) C