




Adı Soyadı : .....

Numarası : .....

Konu: Azlık - Çokluk (10'dan Az ve 10'dan Fazla) Etkinliği 2

Hangi ağaçta 10'dan fazla portakal vardır? (X) ile işaretleyiniz.


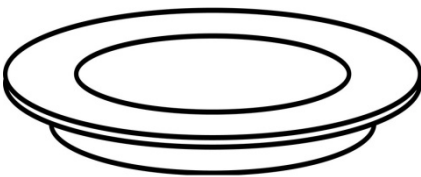


Hangi saksıda 10'dan az çiçek vardır? (X) ile işaretleyiniz.


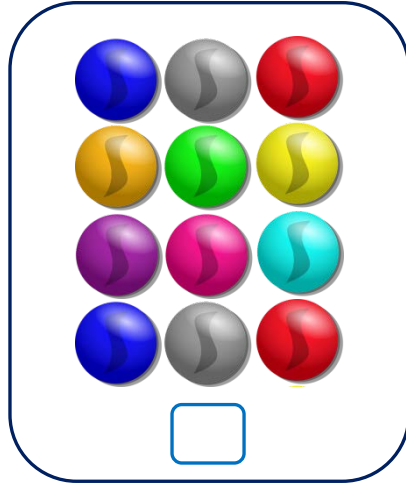
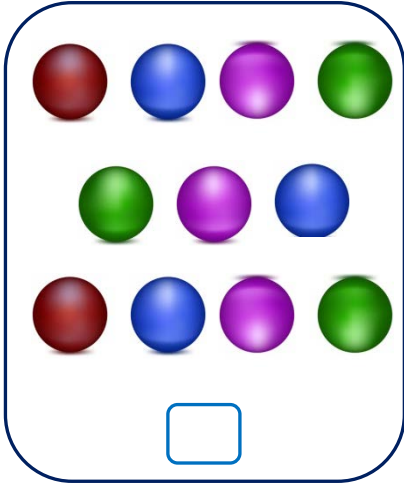


Vazoya tabaktaki elmalardan az çiçek çiziniz.


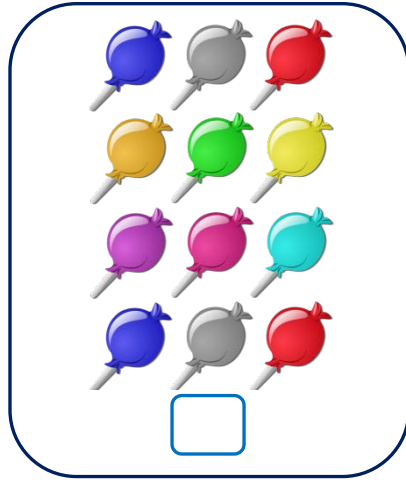
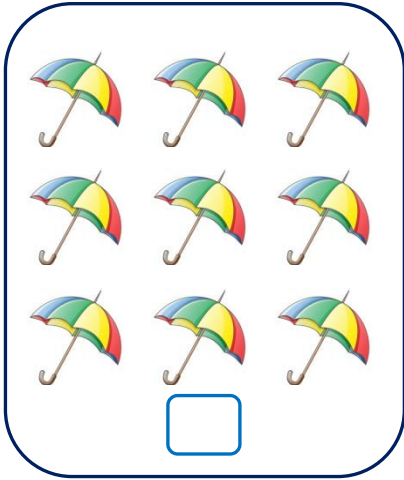
Tabağa elmalardan çok armut çiziniz.



Gruplardaki nesne sayıları 10'dan az olanları işaretleyiniz.



Gruplardaki nesne sayıları 10'dan fazla olanları işaretleyiniz.



Gruplardaki nesnelere örnekler gibi 10'ar ayırınız.

