

Soru işareti yerine hangi sayı yazılmalıdır?

- A) 20 B) 10 C) 30

2) Aşağıda verilen işlemlerden hangisi doğrudur?

- A) $40 - 20 = 30$
 B) $50 - 10 = 30$
 C) $40 - 10 = 30$

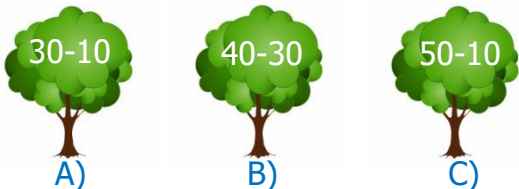


Aslanlar ile kaplanların yapmış olduğu futbol maçının sonucu yukarıda verilmiştir.

Kaplanlar maçı kaç farkla kazanmıştır?

- A) 30 B) 10 C) 20

4) Hangi işlemin sonucu en azdır?



5) $\begin{array}{r} 7 \text{ onluk } 0 \text{ birlik} \\ - 2 \text{ onluk } 0 \text{ birlik} \\ \hline \end{array}$

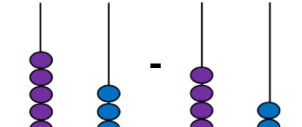
Yanda verilen işlemin yan yana yazılışı hangi seçenekte doğru verilmiştir?

- A) $72 - 20$ B) $27 - 70$ C) $70 - 20$

6) Çantanın fiyatı toptan kaç ₺ fazladır?



- A) 20 ₺
 B) 60 ₺
 C) 40 ₺

7)  Yanda verilen çıkarma işleminin sonucu kaçtır?

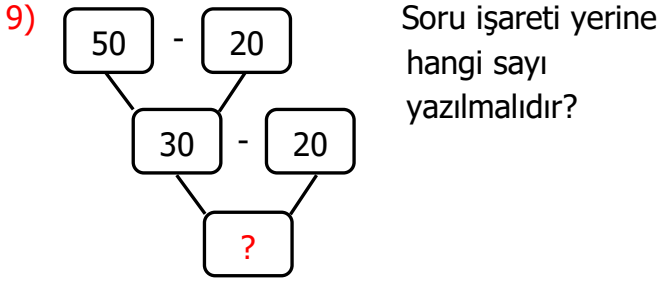
- A) 13 B) 11 C) 12

8) Bir kümeste 20 tavuk ve 10 civciv vardır.

Kümeadaki tavuklar civcivlerden ne kadar fazladır?



- A) 10 B) 20 C) 30



- A) 20 B) 10 C) 30

10) Aşağıdaki öğrencilerin hangisinin yapmış olduğu işlemin sonucu yanlıştır?

- A) $30 - 10 = 20$
 B) $40 - 10 = 30$
 C) $20 - 10 = 20$

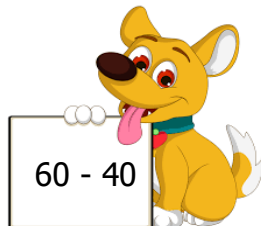
11) Annesi kızından kaç yaş büyüktür?

- A) 30
B) 40
C) 20

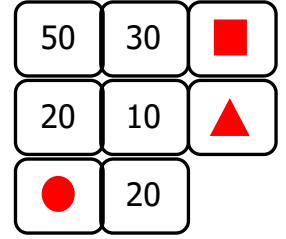


12) Yandaki işlemin sonucu kaçtır?

- A) 40
B) 30
C) 20



13) Yandaki şekilde zihinden çıkarma işlemi yaptığımızda $\blacksquare, \blacktriangle, \bullet$ yerine hangi sayılar yazılmalıdır?



- | | | |
|----------------|------------------|-----------|
| \blacksquare | \blacktriangle | \bullet |
| A) 20 | 10 | 30 |
| B) 20 | 30 | 10 |
| C) 10 | 20 | 30 |

14) 2 deste kalem, 1 düzine kalem den kaç fazladır?

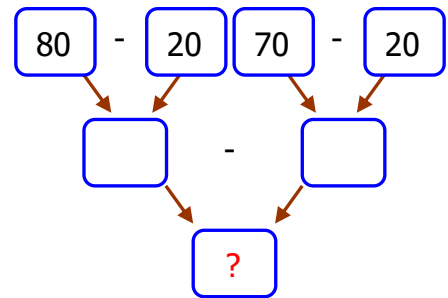
- A) 6 B) 10 C) 8



15) Aşağıdaki işlemlerden hangisinin sonucu en küçüktür?

- A) $40 - 20 = ?$
 B) $40 - 30 = ?$
 C) $50 - 30 = ?$

16)



Soru işareti yerine hangi sayı yazılmalıdır?

- A) 10 B) 40 C) 60