

Nasrettin Hoca, şehirler arası yolculuk yaparken, yol üstündeki köyde, bir köylüye konuk olmuş. Yatma zamanı gelince adam:

- "Hoca efendi, uykusuz mu yoksa susuz musun?" diye sormuş.

Adamın yemekten söz etmediğini gören Hoca hiç bozuntuya vermeden şöyle demiş:

- "Buraya gelirken, pınar başında bir güzel uyumuştum."

➤ İlk iki soruyu metne göre cevaplayınız.

1) Metnin **konusu** aşağıdakilerden hangisidir?

- A) Hoca'nın insanların halinden anlamaması
- B) Hoca'nın kurnazca cevap vermesi
- C) Bazı insanların paraya çok değer vermesi

2) Metnin **son** cümlesinde Hoca, "Buraya gelirken, pınar başında bir güzel uyumuştum." diyerek ne anlatmak istemiştir?

- A) Ev sahibine, su ve uyku ihtiyacı olmadığını söyleyerek, yemek ihtiyacını sormasını beklemiştir.
- B) Ev sahibine yemek ihtiyacı olmadığını söyleyerek, su ihtiyacını sormasını beklemiştir.
- C) Ev sahibine konuşma ihtiyacı olmadığını söyleyerek, uyku ihtiyacını sormasını beklemiştir.


3)



Yukarıdaki varlıkların isimlerini **alfabetik** sıraya göre sıralarsak 3. sırada hangi varlığın ismi olur?



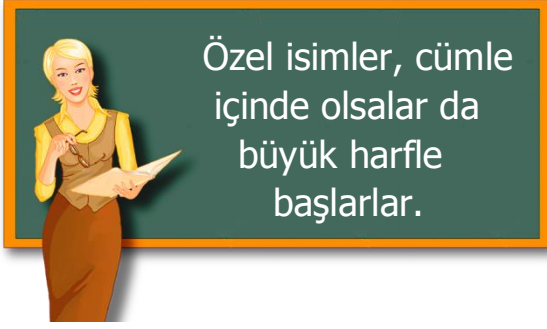
4)



**Özgür** ve **babası** yukarıdaki balıkları tutmuşlardır. Balıklardan kaç tanesinin üzerindeki kelime doğru yazılmıştır?

- A) 4 B) 3 C) 2

5)



Yukarıdaki **bilgiye** göre aşağıdaki kelimelerden hangisi cümle içinde küçük harfle başlar?

- A) İlçe B) Alman C) Jüpiter

6)



Karnı acıkan **ayı** bal yemek istiyor. Sadece **zıt anlamlı** kelimeleri içeren kavanozlarda bal vardır. Buna göre ayıcık kaç kavanoz bal iyebilecektir?

- A) 4 B) 2 C) 3

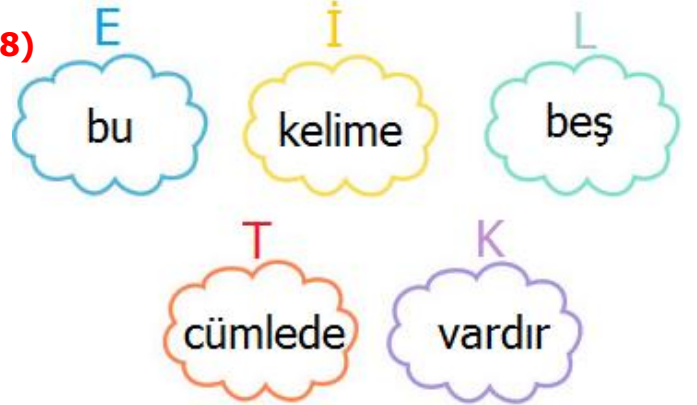
7)

Merve okuldan .....

Yukarıdaki cümleyi aşağıdakilerden hangisi ile **devam** ettirirsek cümlenin sonuna **soru işareti** koymamız gerekir?

- A) çıktı mı bilmiyorum  
B) ne almış olabilir  
C) nasıl ayrıldı anlamadım

8)



**Karışık** halde verilen ve her kelimesi bir **harf** ile eşleştirilen bulutlardan anamlı ve kurallı bir cümle oluşturursak, **harfler** hangi kelimeyi oluşturur?

- A) ETLİK B) TEKİL C) KİTLE

9)

▲	Okul çıkışı onu teselli ettim.
●	Derse 10 dakika geç kaldı.
★	Öğretmenden özür diledi.
■	Sınavı da çok kötü geçmişti.

Her biri bir şekilde eşleştirilen **olayların oluş sırasına** göre doğru sıralanışı aşağıdakilerden hangisidir?

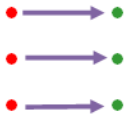
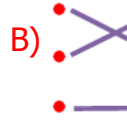
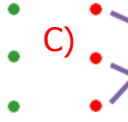
- A) 1-▲ 2-● 3-★ 4-■  
B) 1-★ 2-● 3-■ 4-▲  
C) 1-● 2-★ 3-■ 4-▲


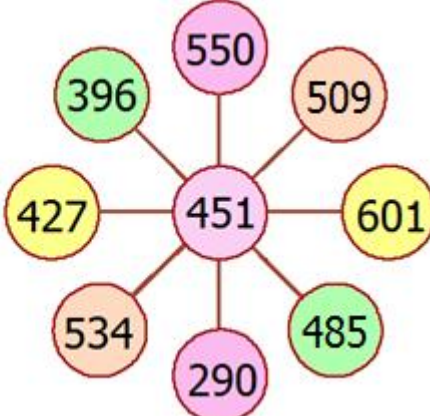
10) Aşağıdaki cümlelerin hangisinde **virgül** kullanımında hata vardır?

- A) Evet, bu gün de nihayet bitti.  
B) Yavaş, yavaş kendine geliyordu.  
C) Ayşe, Hakan ve Emel köye gittiler.

- 11) 1 onluk + 3 yüzlük + 4 birlik • • 304
- 3 yüzlük + 4 onluk • • 314
- 4 birlik + 3 yüzlük • • 340


Yukarıda **çözümlemiş** olarak verilen sayıların doğru eşleştirmesi aşağıdakilerden hangisidir?

- A)  B)  C) 




- 12)  

Zeynep, **en yakın yüzlüğe** yuvarlandığında **500** olan sayıları vurmamak istiyor. Buna göre Zeynep, yukarıdaki **hedefte** kaç tane sayıyı vurmamalıdır?

- A) 3 B) 4 C) 5

- 13) 




**Yumurtaların** üstündeki sayı örüntüsüne göre eksik olan yumurta aşağıdakilerden hangisidir?

- A)  B)  C) 

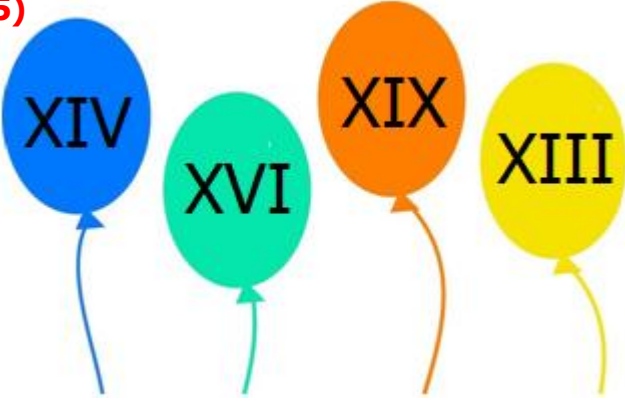
- 14) 

68	841	43
247	120	972
356	669	74

Yukarıdaki tabloda **çift olan sayıların** kutularını boyarsak ortaya nasıl bir görüntü çıkar?

- A)  B) 
- C) 

15)



**Romen rakamları** içeren balonların üzerinde aşağıdaki sayılardan hangisi yoktur?

- A) 14      B) 15      C) 19

16)


$$S \rightarrow 395 \quad R \rightarrow 356$$

$$H \rightarrow 371 \quad T \rightarrow 434$$

Yukarıda her **harf** bir **sayı** ile eşleştirilmiştir. Buna göre sonucu diğerlerinden fazla olan işlem aşağıdakilerden hangisidir?

- A) **H+R+T**      B) **S+T+H**      C) **R+S+T**

17)



Her gün bir önceki günden **46 eksik** poğaça satan Ali, ilk gün **210** poğaça satmıştır. Buna göre Ali, 3. günün sonunda toplam kaç poğaça satmış olur?

- A) 630      B) 374      C) 492

18)



Tablet ve bisiklet almak için para biriktiren **Betül'ün** kumbarasında **526** lira para birikmiştir. Her iki ürünü de almak için ne kadar daha para biriktirmesi gerekir?

- A) 328 ₺      B) 526 ₺      C) 854 ₺

19)

$$708 - 325 \rightarrow \text{★}$$

$$267 + 199 \rightarrow \text{●}$$

Yukarıdaki işlemlerin sonuçları şekillerle eşleştirilmiştir. Bu sonuçları **en yakın onluklarına** yuvarlarsak aralarındaki fark kaç olur?

- A) 90      B) 100      C) 110


20)

$$\begin{array}{r} 5 \blacksquare 3 \\ 19 \blacktriangle \\ + \bullet 78 \\ \hline 988 \end{array} \quad \begin{array}{l} \blacksquare = \\ \blacktriangle = \\ \bullet = \end{array}$$

Yukarıdaki işleme göre  $\blacksquare + \blacktriangle + \bullet$  işleminin sonucu kaçtır?

- A) 12      B) 11      C) 10

21)



Yaklaşan bir geminin önce dumanını, sonra bacasını ve en son da gövdesini görürüz. Bunun **sebebi** aşağıdakilerden hangisidir?

- A) Dünya'nın sularla kaplı olması
- B) Dünya'nın şeklinin küreye benzemesi
- C) Geminin çok ağır olması

22)

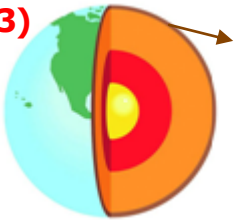


Bizim görüşümüze göre Dünya, dört filin sırtında taşınan yarım küre şeklindedir.

Yukarıda Dünya'nın **şekli** ile ilgili görüş öne süren kişi hangi uygarlığı temsil etmektedir?

- A) Eski Hintliler
- B) Eski Mısırlılar
- C) Eski Yunan Düşünürler

23)



**Yer kabuğu** ile ilgili aşağıda verilen bilgilerden hangisi doğrudur?

- A) Dış çekirdek ile kara katmanı arasında bulunur.
- B) İç çekirdeği saran katmandır.
- C) Dünyanın yüzeyini oluşturan ve canlıların yaşadığı katmandır.

24)

Dünya üzerinde yeşil, sarı ve kahverengi görünen kısımlardır.

İç çekirdeğin etrafını ince bir battaniye gibi sarar.

Kara katmanı ve su katmanı ile temas halindedir.

Bu katmanda yağmur, rüzgâr, sis gibi olaylar meydana gelir.

**Atmosfer** ile ilgili yukarıda verilen bilgilerden doğru olanlara **D**, yanlış olanlara **Y** yazarsak nasıl bir görüntü oluşur?

- A) 

D
Y
D
Y

 B) 

Y
D
Y
D

 C) 

Y
Y
D
D

25)

Kalp	Deri	Göz
Burun	Mide	Beyin
Kulak	Böbrek	Dil

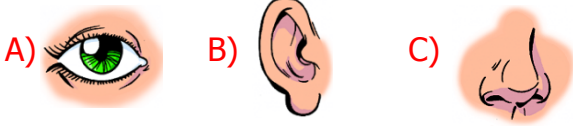
Yukarıdaki tabloda, **duyu organlarımızın** bulunduğu kutuları boyarsak ortaya nasıl bir görüntü çıkar?

- A) 


 B) 


 C) 


26) "Mutfaktan güzel kokular geliyordu. Hemen mutfağa gittim. Annem börek yapmıştı. Bir tanesini yemek için elime aldığımda, çok sıcak olduğu için elim yandı. Biraz soğuyunca bir tane yedim. Tadı müthişti." diyen bir çocuk hangi **duyu organını** kullanmamıştır?



27)



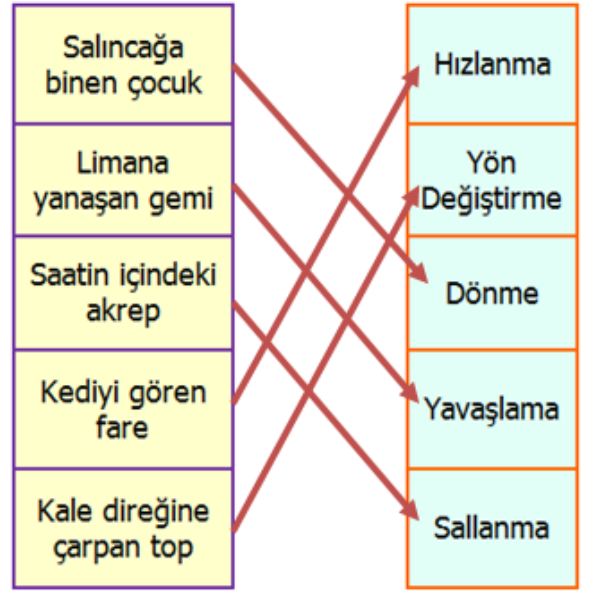
Gözlerinde **görme sorunu** ortaya çıkan Mete, doktora muayene olmaktadır. Buna göre, aşağıdakilerden hangisi Mete'nin gözlerindeki sorunun sebebi olabilir?

- A) Babaannesinin gözlüğünü takmaması  
B) Mikroplu elleriyle gözlerine ellememesi  
C) Karanlıkta telefonla oyun oynaması

28) Aşağıdaki cümlelerden hangisi **dönme hareketine** örnek olarak verilemez?

- A) Hareket halindeki bisikletin tekerleğinin yaptığı hareket  
B) Tahterevalliye binen iki arkadaşın yaptıkları hareket  
C) Tornavida ile vidalama yaparken vidanın yaptığı hareket

29)



Cümlelerle **hareketleri** eşleştiren **Hülya**, kaç tane hata yapmıştır?

- A) 3 B) 2 C) 1

30)



Şapka takma

1



Fermuarı açma

2

Yukarıda örnek olarak verilen iki olayda hangi **kuvvetler** uygulanmıştır?

- 1                      2  
A) Çekme - Çekme  
B) İtme - Çekme  
C) Çekme - İtme

31)



**Akif** boş zamanlarında şirler yazarken  
**Pınar** ise boş zamanlarında judo kursuna  
 gitmektedir.  
 Yukarıdaki kişiler ile ilgili aşağıdakilerden  
 hangisini söyleyemeyiz?

- A) Çocukların ilgi alanları aynı değildir.  
 B) Çocukların fiziksel özellikleri farklıdır.  
 C) İlgi alanı seçimlerinde hata yapmışlardır.

32)



Oyun oynarken sürekli arkadaşlarına kötü  
 davranan **Kubilay'ı**, arkadaşları nasıl  
 uyarmalıdır?

- A) Oyunlarda mızıkçılık yapmalısın.  
 B) Arkadaşlarına karşı saygılı olmalısın.  
 C) Oyunda hata yapmak kötüdür.

33)

Arkadaşlarımızın eşyalarını izinsiz kullanmak	Oyunda kazanan arkadaşlarımızı tebrik etmemek
Engelli arkadaşlarımıza yardımcı olmamak	Güzel davranışlara teşekkür etmemek

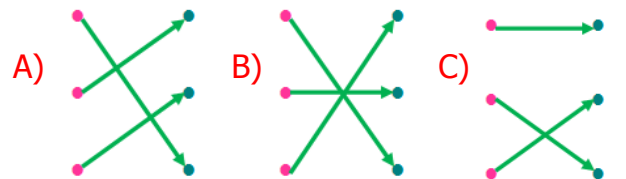
Yukarıdaki **davranışlardan** kaç tanesi arkadaşlarımızı üzecek davranışlardandır?

- A) 4 B) 3 C) 2

34)

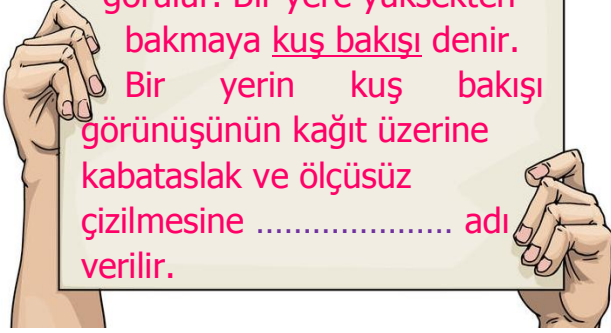
Arkadaşlarımla konuşmalarında nezaket ifadeleri kullanırım	● ●	güven
Arkadaşlarıma sorunlarını çözmelerinde yardımcı olurum.	● ●	duyarlılık
Arkadaşlarıma verdiğim sözü tutarım.	● ●	kibarlık

Yukarıdaki ifadelerle ilgili oldukları değerleri eşleştirecek nasıl bir görüntü oluşur?



35)

Yüksek bir yerden bakıldığında binaların yalnız çatıları, ağaçların üst kısımları görülür. Bir yere yüksekten bakmaya kuş bakışı denir. Bir yerin kuş bakışı görünüşünün kağıt üzerine kabataslak ve ölçsüz çizilmesine ..... adı verilir.



Yukarıdaki metinde **noktalı** yere aşağıdaki kelimelerden hangisi gelmelidir?

- A) yapıt B) kroki C) harita

36) **Okul** ile ilgili aşağıdaki ifadelerden hangisi doğrudur?

- A) Okul, okuma yazma öğrenmemizi ve yeni bilgiler öğrenmemizi sağlamaz.  
B) Okuldaki sosyal ve kültürel etkinlikler kendimize olan güvenimizi azaltır.  
C) Okulda vatan ve millet sevgisinin yanı sıra sevgi, saygı ve doğruluk öğrenilir.

37)



Gerek sınıf başkanını seçmek gerekse sınıf içinde çeşitli kararlar almak için **seçimler** yapıyoruz.

Yukarıdaki **durum** neyin kanıtıdır?

- A) Kararları öğretmenin aldığı  
B) Demokratik yolların benimsendiğinin  
C) Sınıfta baskı ve zorlama olduğunun

38)



Okulumuzda, **ihtiyaç sahibi** aileler için kermes düzenlendi. Anne ve babamızın evde hazırladığı yiyecek, içecek ve eşyaların satılmasıyla elde edilen paralarla fakir insanların ihtiyaçları karşılandı.

Yukarıdaki **olay** aşağıdakilerden hangisinin örneğidir?

- A) İsrاف ve Bilinçsiz Tüketıcılık  
B) Sorumsuzluk ve Kibir  
C) Sosyal Yardımlaşma

39) Aşağıdaki cümlelerden hangisi kaynakları **tasarruflu** kullanmaya örnek verilemez?

- A) Tasarruf ampullerini çıkarıp yerlerine fazla elektrik tüketen ampuller takmak  
B) Ellerimizi yıkarken suyu sonuna kadar açmamak  
C) Hava aydınlık ise gereksiz yanan ışığı kapatmak

40)

Kumaşları seçerler.  
Makas ile biçerler.  
Ölçüyü iyi alıp  
Elbiseyi dikerler.

Yukarıdaki **bilmecenin** cevabı olan meslek aşağıdakilerden hangisidir?

- A) terzi B) kuaför C) marangoz



# CEVAP ANAHTARI

TÜRKÇE	MATEMATİK	FEN BİL.	HAYAT BİL.
1) B	11) C	21) B	31) C
2) A	12) C	22) A	32) B
3) C	13) B	23) C	33) A
4) C	14) A	24) C	34) B
5) A	15) B	25) A	35) B
6) B	16) B	26) B	36) C
7) B	17) C	27) C	37) B
8) A	18) A	28) B	38) C
9) C	19) A	29) B	39) A
10) B	20) C	30) A	40) A