

Hayri bir gün yolda ağlayarak gidiyormuş ve bir kadın sormuş:

- Niye ağlıyorsun evladım?

Hayri:

- Elli liramı kaybettim.

Kadın, Hayri'ye elli lira vermiş ve Hayri daha da çok ağlamaya başlamış. Kadın sormuş:

- Şimdi niye ağlıyorsun evladım?

Hayri'nin cevabı şu olmuş:

- Elli liramı kaybetmeseydim, şimdi yüz liram olacaktı.

1) Aşağıdakilerden hangisi, metinde **cevabı** olan bir soru **değildir**?

- A) Hayri neden ağlıyormuş?
B) Hayri'ye kim para vermiş?
C) Hayri elli lira ile ne yapacaktı?

2)



Yukarıdaki varlıkların isimlerini **alfabetik** sıraya göre sıralarsak **3. sırada** hangi varlığın ismi olur?

- A)  B)  C) 




3)



Öğretmen öğrencilerden **zıt anlamlı** kelimelere örnek vermelerini istemiştir. Buna göre kaç öğrenci **doğru** cevap vermiştir?

- A) 3 B) 2 C) 1

4)

-  Pazardan ne aldı bilmiyorum?
 Kitabını okulda mı unuttun.
 Bana yardımcı olur musun?

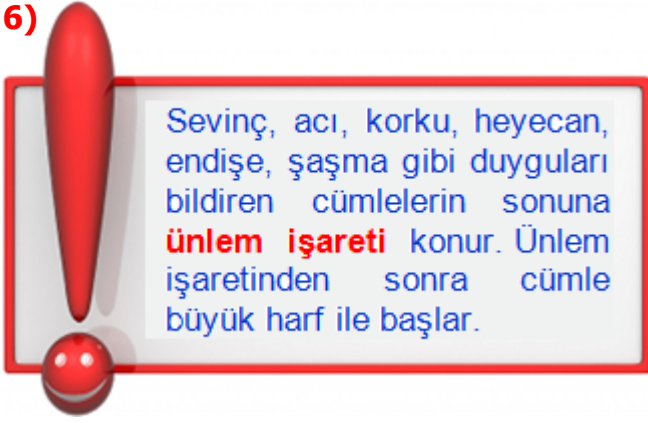
Her biri bir **şekil** ile eşleştirilen cümlelerden hangisinin sonundaki **noktalama işareti doğrudur**?

- A)  B)  C) 

5) Aşağıdaki cümlelerden hangisinde **yazım yanlış** yapılmamıştır?

- A) Dün sabahtan beri elektrik yok.
B) Bu soruyu herkes yanlış yaptı.
C) Evde yalnız başıma film izledim.

6)



Aşağıdaki **cümlelerin** hangisinde yukarıdaki açıklamaya uyulmamıştır?

- A) Seni görmek istemiyorum, anlasana!
- B) Eyvah! kapının anahtarı içeride kaldı!
- C) Anneciğim, seni çok seviyorum!

7)



Yukarıdaki araçları durduran **trafik polisi**, hece denetimi yapacaktır. Yanlış hecelenmiş kelimeye sahip araçlara **ceza** yazacaktır. Buna göre kaç araç ceza almayacaktır?

- A) 1
- B) 2
- C) 3

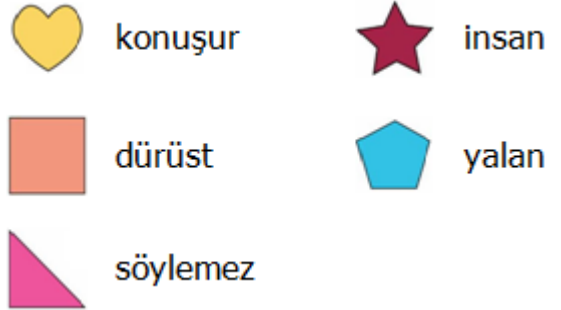
8)

Tek olan, diğer varlıklar içinde tam bir benzeri bulunmayan varlıklara verilen isimler "**özel**" isimlerdir. Özel isimlerin baş harfleri her zaman büyük yazılır.

Yukarıdaki **bilgiye** göre aşağıdaki kelimelerden hangisinin ilk harfi cümle içinde küçük yazılır?

- A) Ankara
- B) Türkler
- C) Bilgisayar

9)



Yukarıda her biri bir şekil ile eşleştirilmiş kelimelerle **anamlı** ve **kurallı** bir cümle oluşturulduğunda hangi kelime kullanılmaz?

- A) 
- B) 
- C) 

10)

uzak	sebeup	vatan
yurt	görev	neden
sonuç	ıarak	vazife

Tablodaki kelimeler **eş anlamlılarıyla** eşleştirildiğinde hangi kelime dışarıda kalır?

- A) sonuç
- B) ıarak
- C) neden

11)



Aşağıdaki **çözümlmelerden** hangisi, yukarıdaki sayılardan birine ait değildir?

- A) 1 birlik + 5 onluk
B) 6 onluk + 2 birlik
C) 5 birlik + 3 onluk


12)



Yukarıdaki yıldızlara, aynı özellikte kaç yıldız daha eklersek **2 deste** yıldız olur?

- A) 2 B) 4 C) 12

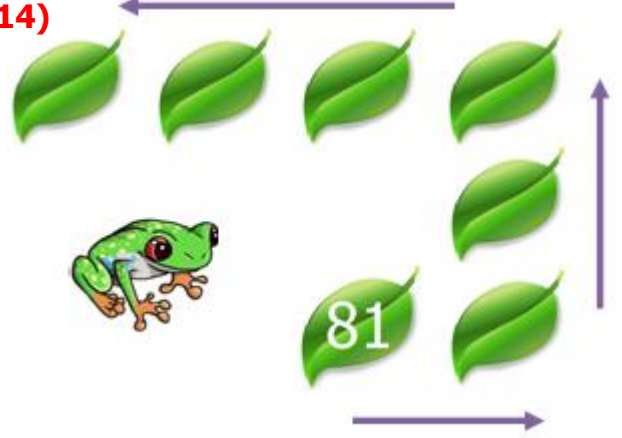
13)



Her biri bir şekil ile eşleştirilen sayıları **küçükten büyüğe** sıraladığımızda **3.** sırada hangi sayı olur?

- A) 37 B) 48 C) 65

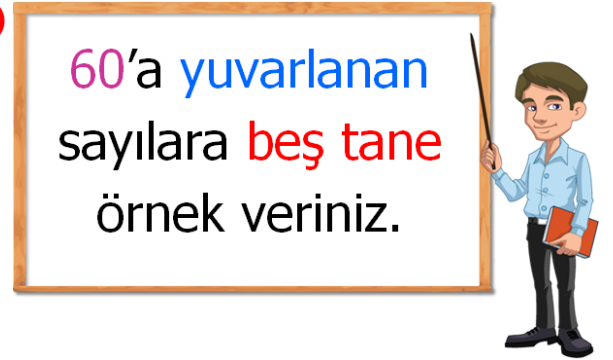
14)



Yukarıdaki **kurbağa**, **81**'den başlayarak altışar azalan örüntü içeren yaprakların üstünden atlayarak geçecektir. Buna göre **kurbağanın** üstünden geçeceği yapraklarda aşağıdaki sayılardan hangisi yoktur?

- A) 69 B) 64 C) 45

15)



En yakın onluğu 60 olan sayılara hangi öğrenci tamamen doğru örnek vermiştir?

- A) 56
64
49
58
61
- B) 62
58
65
56
61
- C) 57
63
55
61
59

16)








3 onluk	→	
4 birlik + 1 onluk	→	
2 onluk + 8 birlik	→	








Yukarıda her sayı bir çiçek ile eşleştirilmiştir.

Buna göre  +  +  kaçtır?

- A) 79 B) 45 C) 72

17)

→ Elmalar 82'den başlayarak **üçer** azalan örüntüdür.

→ Armutlar 19'dan başlayarak **beşer** artan örüntüdür.

Buna göre her iki örüntünün **son** sayıları arasındaki **fark** kaçtır?

- A) 15 B) 16 C) 17

18)

			
45 ₺	74 ₺	63 ₺	42 ₺

Yukarıda giyim ürünleri ve fiyatları verilmiştir. **150 ₺** parası olan **Burak**, hangi **üç ürünü** alabilir?

- A) pantolon + gömlek + kazak
B) kazak + yelek + gömlek
C) yelek + kazak + pantolon



Manav bugün **50 kg biber**, biberlerden **24 kg** az **patlıcan** ve **91 kg** domates satmıştır. Buna göre manav bugün **patlıcanlardan** kaç kg **fazla domates** satmıştır?

- A) 57 kg B) 62 kg C) 65 kg

20) **2** basamaklı **en büyük** sayıdan, **60'a** yuvarlanan **en küçük** sayıyı **çıkarsak** sonuç kaç olur?

- A) 39 B) 44 C) 49

21)



Yukarıdaki **çocuk** ile ilgili aşağıdaki ifadelerden hangisi yanlıştır?

- A) Engelli arkadaşlarımız bizim desteğimize ve yardımımıza ihtiyaç duyabilirler.
- B) Engelli insanlar çalışarak ve inanarak birçok konuda başarılı olabilirler.
- C) Bireysel özellikleri bizden farklı olan insanlarla arkadaşlık yapamayız.

22)



Derlerine çok çalışan, temiz ve düzenli bir öğrenci olan **Demet**, boş zamanlarında annesine yardım etmektedir. Buna göre Demet ile ilgili ne söyleyebiliriz?

- A) Hayalci – Sorumsuz
- B) Duyarlı – Planlı
- C) Karamsar – Umutsuz

23)

Hayat Bilgisi	Türkçe	Türkçe
Matematik	İngilizce	Müzik

Günün ders programı üstte olan **Kadir**, çantayı açtığına matematik defteri, Türkçe sözlüğü ve kalemının olmadığını görmüştür. Buna göre aşağıdaki bilgilerden hangisi doğrudur?

- A) Çantasını günlük ders programına göre kendi hazırlamamıştır.
- B) Akşam yatmadan önce çantasındaki eşyalarını kontrol etmiştir.
- C) Kadir ders programına dikkat eden düzenli bir öğrencidir.

24)



Merve ve **Melike** ikiz kardeşler. Merve en çok matematik dersini severken Melike ise Türkçe dersini sevmektedir. Merve satranç kursuna giderken Melike ise gitar kursuna gitmektedir. **İkiz kardeşler** ile ilgili aşağıdakilerden hangisi doğrudur?

- A) Melike ve Merve farklı şeylere ilgi duydukları için kardeş değillerdir.
- B) İnsanlar ikiz de olsa ilgi ve yetenekleri farklı olabilir.
- C) Merve ve Melike'nin birbirlerinin seçimlerine saygıları yoktur.

25) Öğretmenimiz şunları söyledi: "Hepiniz sınıfla ilgili konularda karar alma süreçlerine katılmalısınız. Görüşlerinizi söylemelisiniz. Ancak bunu yaparken uygun iletişim dili kullanmalısınız."

Yukarıdaki metinde **noktalı** yere hangi cümleyi yazarsak anlatılmak istenen konuya **zıt** bir cümle kullanmış oluruz?

- A) Farklı görüşlere saygılı olmalısınız.
- B) Birbirinizi saygıyla dinlemelisiniz.
- C) Öğretmenle aynı fikirde olmalısınız.

26)



Aşağıdakilerden hangisi yukarıdaki cümlenin **sebebi** olabilir?

- A) Kaybolduğumuzda evimizi tarif etmemize hiç gerek yoktur.
- B) Uzak çevremizi bilmeye daha çok ihtiyaç duyarız, yakın çevre gereksizdir.
- C) Yakın çevremizde ihtiyaçlarımızı gidereceğimiz yerlerin konumu bilmeliyiz.

27) Aşağıdaki cümlelerden hangisinde, okul kaynaklarının **bilinçli** kullanılması söz konusudur?

- A) Sıvı sabunu yerlere akıtmak
- B) Suyu gereğinden fazla açmamak
- C) Gereksiz yanan ampulleri kırmak

28)



Selim sürekli arkadaşlarına bağırarak, oyunlarda kurallara uymamaktadır. Buna göre arkadaşları onu **nasıl** uymalıdır?

- A) Sakin, saygılı ve adaletli olmalısın.
- B) Hata yapan kişileri sertçe uymalıdır.
- C) Senin gibi davranmayanlara küsmelisin.

29) İhtiyaçlarına öncelik veren ve isteklerini erteleterek para biriktiren **Ali'yi** ifade eden cümlelerden hangisi yanlıştır?

- A) İhtiyaçlarını çok önemli görmez.
- B) Tutumlu ve tasarruflu davranır.
- C) Gereksiz alışveriş yapmaz.

30)

Her istediğim şeyi almalıyım.	Geri dönüşüm çok önemlidir
Gereksiz yere suyu açmamalıyız.	Aile bütçesine zarar vermeliyiz.
Para kolay kazanılmıyor.	İsteklerimiz ihtiyaçlarımızdan önemlidir.

Yukarıdaki cümlelerden kaç tanesi **bilinçsiz** insan davranışlarına örnektir?

- A) 2
- B) 3
- C) 4

CEVAP ANAHTARI

TÜRKÇE

- 1) C
- 2) B
- 3) C
- 4) A
- 5) B
- 6) B
- 7) A
- 8) C
- 9) C
- 10) A

MATEMATİK

- 11) A
- 12) C
- 13) B
- 14) B
- 15) C
- 16) C
- 17) A
- 18) B
- 19) C
- 20) B

HAYAT BİL.

- 21) C
- 22) B
- 23) A
- 24) B
- 25) C
- 26) C
- 27) B
- 28) A
- 29) A
- 30) B