



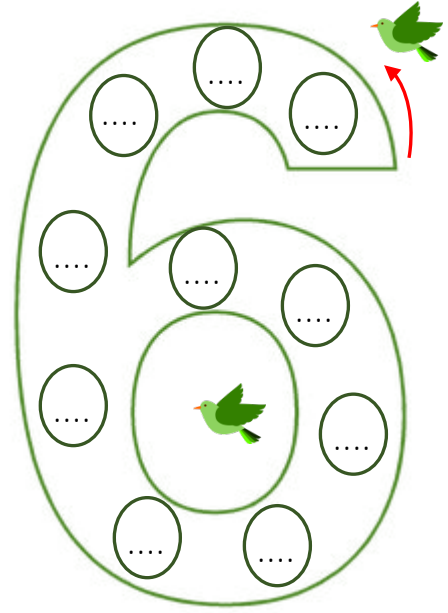
Adı Soyadı :

Numarası :

Konu: Ritmik Saymalar 2

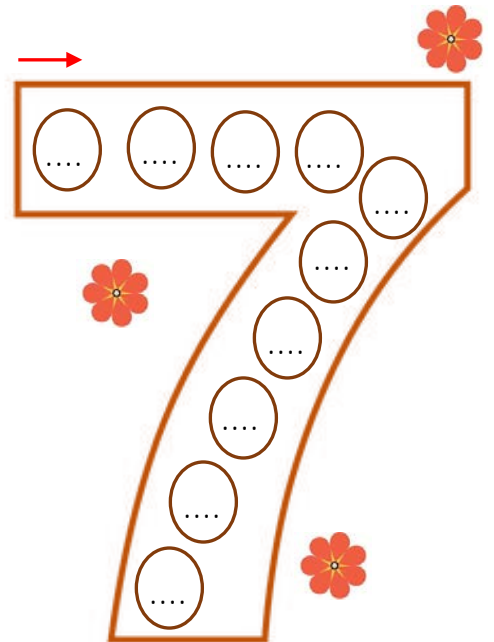
Aşağıdaki verilen tabloda 6'dan başlayarak 60'a kadar ritmik sayma yapalım. Söylediğimiz sayıları boyayarak, yandaki 6 rakamının içine yazalım.

1	2	3	4	5	6	7	8	9	10
11	12	13	14	15	16	17	18	19	20
21	22	23	24	25	26	27	28	29	30
31	32	33	34	35	36	37	38	39	40
41	42	43	44	45	46	47	48	49	50
51	52	53	54	55	56	57	58	59	60
61	62	63	64	65	66	67	68	69	70
71	72	73	74	75	76	77	78	79	80
81	82	83	84	85	86	87	88	89	90
91	92	93	94	95	96	97	98	99	100



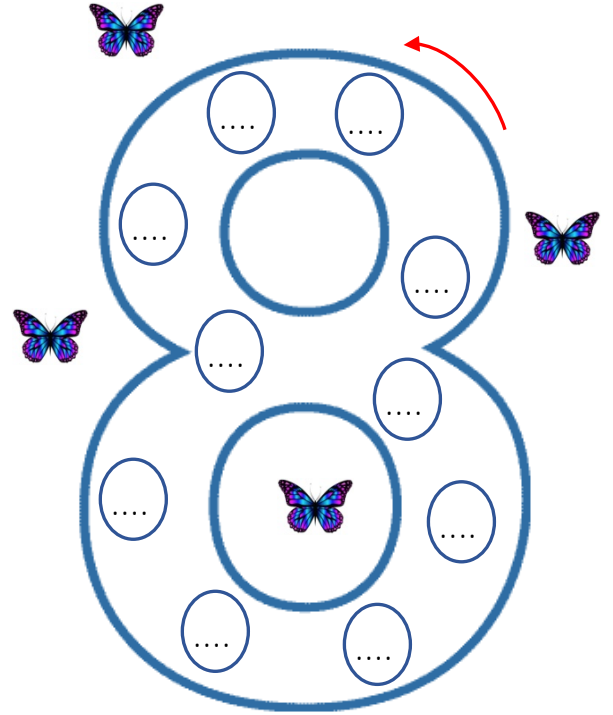
Aşağıdaki verilen tabloda 7'den başlayarak 70'e kadar ritmik sayma yapalım. Söylediğimiz sayıları boyayarak, yandaki 7 rakamının içine yazalım.

1	2	3	4	5	6	7	8	9	10
11	12	13	14	15	16	17	18	19	20
21	22	23	24	25	26	27	28	29	30
31	32	33	34	35	36	37	38	39	40
41	42	43	44	45	46	47	48	49	50
51	52	53	54	55	56	57	58	59	60
61	62	63	64	65	66	67	68	69	70
71	72	73	74	75	76	77	78	79	80
81	82	83	84	85	86	87	88	89	90
91	92	93	94	95	96	97	98	99	100



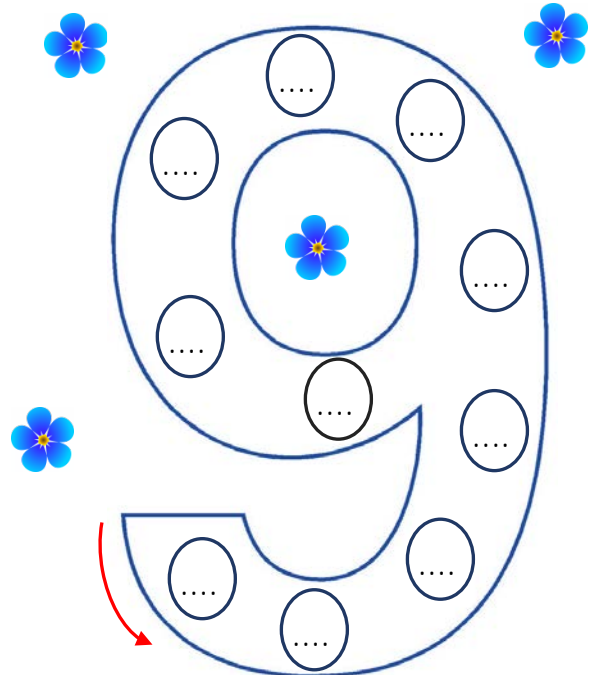
Aşağıdaki verilen tabloda 8'den başlayarak 80'e kadar ritmik sayma yapalım. Söylediğimiz sayıları boyayarak, yandaki 8 rakamının içine yazalım.

1	2	3	4	5	6	7	8	9	10
11	12	13	14	15	16	17	18	19	20
21	22	23	24	25	26	27	28	29	30
31	32	33	34	35	36	37	38	39	40
41	42	43	44	45	46	47	48	49	50
51	52	53	54	55	56	57	58	59	60
61	62	63	64	65	66	67	68	69	70
71	72	73	74	75	76	77	78	79	80
81	82	83	84	85	86	87	88	89	90
91	92	93	94	95	96	97	98	99	100



Aşağıdaki verilen tabloda 9'dan başlayarak 90'a kadar ritmik sayma yapalım. Söylediğimiz sayıları boyayarak, yandaki 9 rakamının içine yazalım.

1	2	3	4	5	6	7	8	9	10
11	12	13	14	15	16	17	18	19	20
21	22	23	24	25	26	27	28	29	30
31	32	33	34	35	36	37	38	39	40
41	42	43	44	45	46	47	48	49	50
51	52	53	54	55	56	57	58	59	60
61	62	63	64	65	66	67	68	69	70
71	72	73	74	75	76	77	78	79	80
81	82	83	84	85	86	87	88	89	90
91	92	93	94	95	96	97	98	99	100



6'şar ritmik sayma yapılırken aşağıdaki sayılardan hangisi söylenmez. Kutusunu işaretleyelim.

24	12	54	42	36	44	18
----	----	----	----	----	----	----

7'şer ritmik sayma yapılırken aşağıdaki sayılardan hangisi söylenmez. Kutusunu işaretleyelim.

42	14	63	43	56	21	49
----	----	----	----	----	----	----

8'er ritmik sayma yapılırken aşağıdaki sayılardan hangisi söylenmez. Kutusunu işaretleyelim.

64	70	32	56	40	32	72
----	----	----	----	----	----	----

9'ar ritmik sayma yapılırken aşağıdaki sayılardan hangisi söylenmez. Kutusunu işaretleyelim.

81	18	45	63	81	27	55
----	----	----	----	----	----	----

8'den başlayarak ileriye doğru sekizer ritmik sayarken 6. sırada hangi sayıyı söyleriz.

9'dan başlayarak ileriye doğru dokuzar ritmik sayarken 5. sırada hangi sayıyı söyleriz.

7'den başlayarak ileriye doğru yedişer ritmik sayarken 9. sırada hangi sayıyı söyleriz.

6'dan başlayarak ileriye doğru altışar ritmik sayarken 8. sırada hangi sayıyı söyleriz.

36'dan başlayarak 9'ar ritmik sayma yaptığımızda 63'ten önce hangi sayıyı söyleriz.

24'ten başlayarak 8'er ritmik sayma yaptığımızda 72'den önce hangi sayıyı söyleriz.

İleriye doğru birer ritmik sayarak kutuları tamamlayınız.

138	→
209	→
544	→
672	→
960	→

İleriye doğru onar ritmik sayarak kutuları tamamlayınız.

114	→
336	→
449	→
562	→
787	→

İleriye doğru yüzer ritmik sayarak kutuları tamamlayınız.

116	→
125	→
157	→
214	→