




Adı Soyadı :

Numarası :


Konu: Onluk ve Birlikleri Tanıyalım Etkinliği 5

Aşağıda onluk ve birlikleri verilmiş sayıları yazalım. Sayılar hangi görsele ait ise eşleştirelim.


1 onluk 5 birlik =




1 onluk 3 birlik =




1 onluk 9 birlik =



1 onluk 6 birlik =



2 onluk 0 birlik =

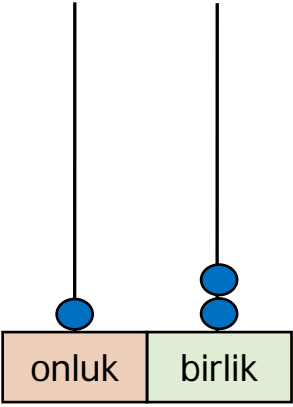


Sayıları abaküste örnekteki gibi göstereli ve noktalı yerlere yazalım.

12

1 onluk 2 birlik

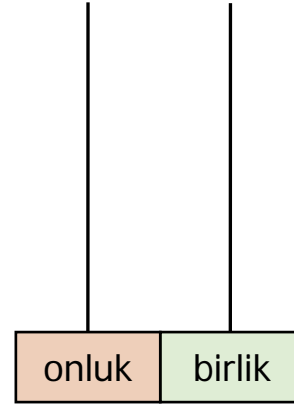
On iki



15

..... onluk birlik

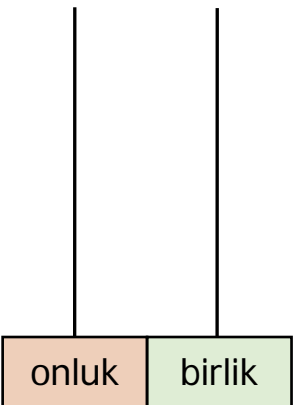
.....



18

..... onluk birlik

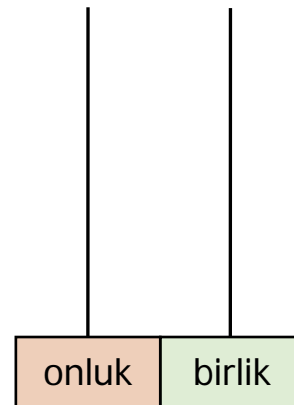
.....



17

..... onluk birlik

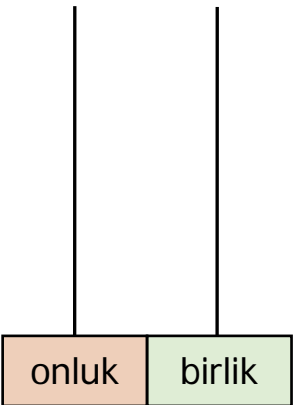
.....



14

..... onluk birlik

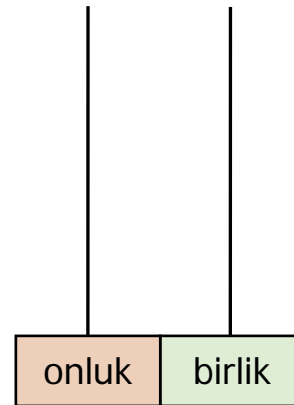
.....



11

..... onluk birlik

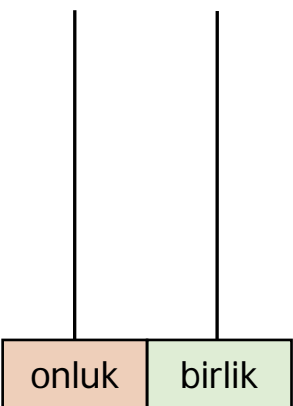
.....



19

..... onluk birlik

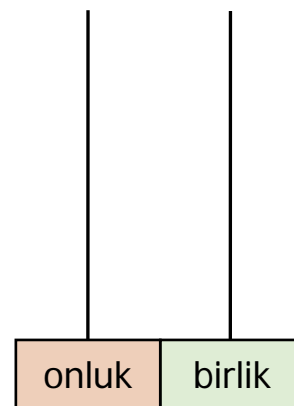
.....



16

..... onluk birlik

.....



Aşağıda verilen sayıların onluk ve birliklerini örnekteki gibi yazalım.

12 1 onluk 2 birlik

..... 1 onluk 4 birlik

..... 1 onluk 8 birlik

..... 1 onluk 6 birlik

..... 2 onluk 0 birlik

..... 1 onluk 3 birlik

..... 1 onluk 5 birlik

..... 1 onluk 7 birlik

..... 1 onluk 1 birlik

..... 1 onluk 9 birlik

Onluk ve birlikleri verilmiş olan sayıları örnekteki gibi yazalım.

1 onluk 5 birlik 15

1 onluk 1 birlik

1 onluk 3 birlik

1 onluk 6 birlik

1 onluk 4 birlik

2 onluk 0 birlik

1 onluk 7 birlik

1 onluk 9 birlik

1 onluk 2 birlik

1 onluk 8 birlik