

1) Aşağıdakilerden hangisi su kullanımında tasarruf sağlamaz?

- A) Diş fırçalarken suyu açık bırakmak.
- B) Akıtan muslukları tamir ettirmek.
- C) Suyu ihtiyacımız kadar kullanmak.

2) Aşağıda verilen bilgilerden hangisi yanlıştır?

- A) Boşa yanan lambalar söndürülmelidir.
- B) Odada birden çok lamba yanmalıdır.
- C) Boşa akan musluklar kapatılmalıdır.

3) Soğuk havalarda ısı kaybını önlemek için aşağıdakilerden hangisi yapılmalıdır?




- A) Kapı ve pencereler kapalı olmalıdır.
- B) Pencere açık, kapı kapalı olmalıdır.
- C) Kapı açık, pencere kapalı olmalıdır.

4) Buzdolabı kapağının sürekli açık kalması hangi faturanın daha fazla olmasına sebep olur?



- A) Doğalgaz
- B) Su
- C) Elektrik

5) Aşağıdaki öğrencilerden hangisi kaynakları tasarruflu kullanmaktadır?

- A)  Lambaları her zaman açık bırakırım.
- B)  Dişlerimi fırçalarken musluğu açık bırakırım.
- C)  Giysilerimi temiz ve düzenli kullanırım.

6) Yanda verilen görsel için aşağıdakilerden hangisi söylenebilir?

- A) su tasarrufu
- B) su israfı
- C) su kesintisi



7) Aşağıdaki atasözlerinden hangisi tasarrufla ilgili değildir?

- A) Damlaya damlaya göl olur.
- B) İşten artmaz, dişten artar.
- C) El elden üstündür.

8) Kaynakları tasarruflu kullanmamızın sebebi aşağıdakilerden hangisi olamaz?

- A) Kaynakların tükenmesini sağlamak.
- B) Aile bütçemize katkı sağlamak.
- C) İsrafi önlemek.

9) Aşağıdakilerden hangisi su tasarrufu ile ilgili bir çözüm değildir?

- A) Bozuk muslukları tamir etmek.
- B) Çamaşır ve bulaşık makinesini tam olarak doldurmadan çalıştırmak.
- C) İşimiz bitince muslukları kapatmak.

10) Aşağıdakilerden hangisi mutfağımızda tasarruf sağlar?

- A) Yiyebileceğimizden fazla yemek pişirmek.
- B) Gereksiz yiyeceklerden almak.
- C) Tüketebileceğimiz kadar yemek yapmak.

11) Hangi öğrenci eşyasını özenli ve dikkatli kullanmıştır?

- A) Hakan, okul ayakkabısı ile futbol oynuyor.
- B) Anıl, çantasını yerde sürükleyerek taşıyor.
- C) Yusuf, okuldan gelince kıyafetlerini dolabına asıyor.

12) Artan ekmekleri tatlı yapmak veya diğer yemeklerde kullanmak aşağıdakilerden hangisinde tasarruf sağlar?


- A) mutfak harcamalarında
- B) ısınma giderlerinde
- C) temizlik harcamalarında

13) Aşağıda verilenlerden hangisi yanlıştır?

- A) Kışın ev ortamında uygun kıyafetler giymeliyiz.
- B) Yiyebileceğimizden fazla yemek pişirmeliyiz.
- C) Boşa yanan lambaları kapatmalıyız.

14) Aşağıdakilerden hangisi tasarruf sağlar?

- A) Boş yere akan muslukları kapatmak
- B) Sürekli çamaşır ve bulaşık yıkamak
- C) Her zaman market alışverişi yapmak

15)  İzlemediğimiz zamanlarda televizyonu _____ .
Zeynep

Zeynep'in cümlesi hangisi ile tamamlanmalıdır?

- A) kapatmalıyız.
- B) açık tutmalıyız.
- C) sesini kısmalıyız.

16)

- ❖ Elektrik
- ❖ Su
- ❖ Doğalgaz
- ❖ Kömür

Yukarıdaki verilenlerden kaç tanesi evimizde kullandığımız kaynaklardandır?

- A) 2
- B) 3
- C) 4