



Adı Soyadı :

Numarası :

Konu: Toplama İşlemleri Genel Değerlendirme 2

1) Aşağıda toplam kaç tane yumurta vardır?



A) 12

B) 16

C) 13



$$6 + 4 = 10$$

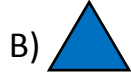


$$12 + 5 = 16$$



$$4 + 16 = 20$$

2) Yukarıdaki toplama işlemlerinden hangisi yanlıştır?



3) Aşağıdaki toplama işlemlerini yapalım. Sonucu en büyük olanı işaretleyelim.

A)
$$\begin{array}{r} 8 \\ + 7 \\ \hline \end{array}$$

B)
$$\begin{array}{r} 9 \\ + 6 \\ \hline \end{array}$$

C)
$$\begin{array}{r} 8 \\ + 8 \\ \hline \end{array}$$

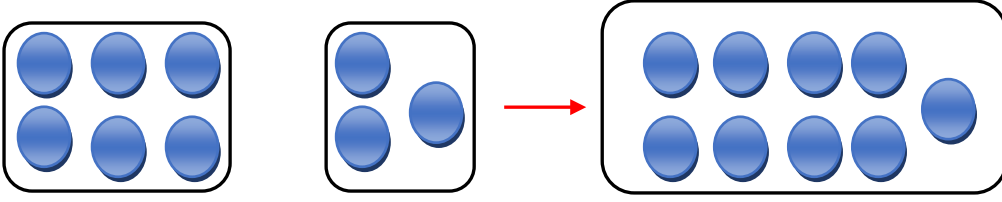
$12 + 8 =$	$11 + 8 =$	$10 + 10 =$
$7 + 12 =$	$4 + 16 =$	$9 + 11 =$

4) Yukarıdaki tablodaki işlemlerin kaç tanesinin toplamı 20'dir?

A) 4

B) 6

C) 5



5) Yukarıda modellenen işlem aşağıdakilerden hangisidir?

A) $3 + 6 = 9$

B) $5 + 3 = 8$

C) $6 + 3 = 9$

6) Aşağıdaki işlemlerden hangisinin sonucu doğrudur?

A) $15 + 5 = 19$

B) $4 + 16 = 20$

C) $13 + 6 = 18$

7) Aşağıdaki sayı ikililerinden hangisinin toplamı 15'dir?

A) $\begin{array}{|c|} \hline 8 \\ \hline \end{array} \begin{array}{|c|} \hline 6 \\ \hline \end{array}$

B) $\begin{array}{|c|} \hline 9 \\ \hline \end{array} \begin{array}{|c|} \hline 5 \\ \hline \end{array}$

C) $\begin{array}{|c|} \hline 7 \\ \hline \end{array} \begin{array}{|c|} \hline 8 \\ \hline \end{array}$

8) Aşağıdaki işlemleri yapalım. Sonucu en küçük olanı işaretleyelim.

A) $\begin{array}{r} 7 \\ + 4 \\ \hline \end{array}$

B) $\begin{array}{r} 8 \\ + 5 \\ \hline \end{array}$

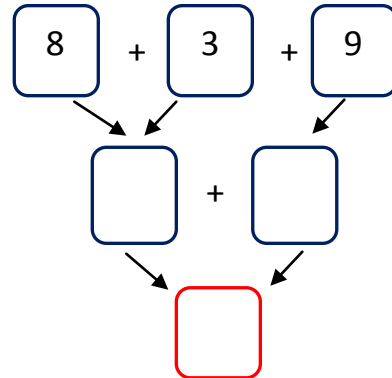
C) $\begin{array}{r} 5 \\ + 9 \\ \hline \end{array}$

9) Yandaki toplama işlemini sonucu hangisidir?

A) 18

B) 20

C) 19



10) Aşağıdaki işlemlerden hangisinin sonucu farklıdır?

A) $8 + 8 =$

B) $9 + 7 =$

C) $8 + 9 =$