

Günlerden bir gün, ormandaki tazılar bir tilkiyi kovalamaya başlamışlar. Tilki, ormanda odun toplayan bir adama yaklaşmış. Ondaki kendisini saklamasını istemiş. Adam da ona kendi kulübesini göstermiş. Tilki kulübeye saklanmış.

Biraz sonra avcılar gelmişler. Oduncuya, tilkiyi görüp görmediğini sormuşlar. Oduncu:

— “Görmedim.” demiş. Ama parmağıyla da kulübeyi göstermiş. Avcılar, adamın işaretini anlamamışlar. Oduncunun sözüne inanıp oradan uzaklaşmışlar. Tilki, onların gittiğini anlayınca kulübeden çıkmış. Oduncuya hiçbir şey demeden uzaklaşmaya başlamış. Oduncu bu duruma pek öfkelenmiş:

— “Nankör hayvan! Canını bana borçlusun. Bir teşekkür bile etmeyecek misin?” demiş. Tilki başını çevirerek:

— “Teşekkür mü? Davranışların da sözlerin gibi güzel olsaydı, teşekkür ederdim.” demiş. Sonra da oradan hızla uzaklaşmış.

➤ İlk soruyu metne göre cevaplayınız.

1) Aşağıdaki **cümlelerden** hangisi, metnin ana fikriyle alakasız bir cümle değildir?

- A) İzin almadan kimsenin eşyasına dokunmamalıyız.
- B) Birikim yapmalı, gereksiz harcamalardan uzak durmalıyız.
- C) Sözlerimiz ve davranışlarımız tutarlı değilse iyilikten söz edemeyiz.
- D) Ailemizle ilgili özel bilgileri tanımadığımız insanlara söylememeliyiz.

2)



Aşağıdaki çocuklardan hangisi, öğretmenin sorusuna tamamen doğru cevap vermiştir?

- A) ret - kabul
acemi - usta
eksik - tam
- B) dargın - küs
araç - vasıta
cimri - cömert
- C) bayat - taze
savaş - harp
aynı - farklı
- D) esir - tutsak
rüzgar - yel
yemek - aş

3) Büyük harflerle yapılan kısaltmalara getirilen eklerde kısaltmanın son harfinin okunuşu esas alınır.

Yukarıdaki bilgiye göre aşağıdaki kullanımlardan hangisi yanlıştır?

- A) TBMM’ni
- B) THY’de
- C) TL’nin
- D) TDK’den

4) Aşağıdaki cümlelerin hangisinde **-de** ekinin **kullanımı** ile ilgili hata yoktur?

- A) Ben de çok emeğiniz var.
- B) Doğum gününe sende gelir misin?
- C) Kazananların arasında Ali de var.
- D) Kırtasyeden çantada aldım.

- 5) Anahtarlarımız sadece **meceza** **anlamalı** kelime içeren **kilitleri** açmaktadır. Buna göre aşağıdaki **kilitlerden** hangisi **açılmaz**?

- A) Babam ağır konuştu.
B) Renkli çamaşırları yıkadım.
C) Keskin bir zekası var.
D) İnce işlerden anlamam.

- 6) Aşağıdaki cümlelerin hangisinde **büyük harf** kullanımıyla alakalı **hata** yapılmamıştır?

- A) Ayşe Teyze'm dün gece bizde kaldı.
B) Kazadan sonra dünyası karardı.
C) Bursa'nın Doğu'sunda yağış var.
D) Kaymakam Erol bey göreve başladı.

- 7) Yazıda satır başına alınan konuşmaları göstermek için **uzun çizgi** kullanılır. Buna **konuşma çizgisi** de denir.

Yukarıdaki **bilgiye** göre aşağıdaki cümlelerden hangisinin başına **konuşma çizgisi** gelmemelidir?

- A) Neden bana kızgınsın acaba?
B) Benim eşyalarımı izinsiz alma!
C) Senin eşyaların benden değerli mi?
D) Böylece, iki arkadaşın arası bozuldu.

- 8) Atatürk, 29 Ekim 1923'te Cumhu(2) riyeti ilan etti.
Koşu yarışmasında 2(4) oldum.
Eyvah (1) ütünün fişini çekmedim!
THY(3)de pilot olarak işe başladı.

Yukarıda her bir **parantez** içine farklı rakam yazılmıştır. Aşağıdaki cümlelerden hangisi **yanlış** değildir?

- A) 3 numaralı paranteze tırnak işareti gelir.
B) 2 numaralı paranteze uzun çizgi gelir.
C) 4 numaralı paranteze nokta gelir.
D) 1 numaralı paranteze ünlem gelir.

- 9) kaysı tırafik tıraş
aferim kirpik süpriz

Yukarıda yazımı **doğru** olan mantarlar **zehirsiz**, yazımı **yanlış** olan mantarlar ise **zehirlidir**. Buna göre kaç mantar zehirli değildir?

- A) 2 B) 1
C) 3 D) 4

- 10) Aşağıdaki atasözlerinden hangisinde "tutumluluk" anlamı yoktur?

- A) Ak akçe kara gün içindir.
B) Ateş düştüğü yeri yakar.
C) Damlaya damlaya göl olur.
D) Ayağını yorganına göre uzat.

11)



Yukarıda okunuşu verilen her bir sayı, bir şekille eşleştirilmiştir. Buna göre sayıların **büyükten küçüğe** doğru sıralanışı aşağıdakilerden hangisidir?

- A)
 B)
 C)
 D)

12)



743	724	705	686	665	648
-----	-----	-----	-----	-----	-----

Yukarıdaki dizilimin kurallı bir **örüntü** olmasını engelleyen hayvan hangisidir?

- A)
 B)
 C)
 D)

13)



Yukarıdaki **rakamları** kullanarak, dört basamaklı rakamları farklı **en küçük** sayı ile üç basamaklı rakamları farklı **en büyük** sayıyı toplarsak **sonuç** kaç olur?

- A) 2900
 B) 1100
 C) 3110
 D) 3900

14)



Yukarıda **okunuşu** verilen sayıyı en yakın yüzlüğe yuvarlayıp, elde ettiğimiz sayıdan 2985 çıkarırsak sonuç kaç olur?

- A) 4115
 B) 67115
 C) 4015
 D) 67015

15) Her ay bir önceki aydan **289** lira daha fazla para kazanan Serhat, ilk ay **3966** lira para almıştır. Buna göre Serhat **7.** ay kaç lira para kazanmıştır?

- A) 5989 ₺
 B) 5700 ₺
 C) 5411 ₺
 D) 5122 ₺

16)


3	8	6	4	
2	S	3	1	
+	3	0	9	R
<hr/>				
9	2	9	4	

3	H	2	0
2	7	T	5
<hr/>			
6	6	5	

Yukarıdaki toplama ve çıkarma işlemlerinde **verilmeyen** rakamların yerlerine yazılan harflerden oluşan **dört** basamaklı **SRHT** sayısını en yakın onluğa yuvarlarsak kaç buluruz?

- A) 3900 B) 3940
C) 3950 D) 3945

17)

124 x 25	<	
----------	---	---

Yukarıdaki **çiçek** yerine aşağıdakilerden hangisini yazabiliriz?

- A) 3098 B) 3099
C) 3100 D) 3101


18)



Bir satıcı tanesini **149** liraya aldığı montları **225** liraya satmaktadır. Buna göre bu satıcı **43** mont satışından kaç lira kar eder?

- A) 6 407 ₺ B) 3 268 ₺
C) 9 675 ₺ D) 16 082 ₺

19)



Yukarıda **tavşan** ve **leyleğin** ellerindeki posterlerde farklı sayılar yazmaktadır. Buna göre **tavşanın** elindeki sayının birler bölümündeki sayı ile **leyleğin** elindeki sayının binler bölümündeki sayıyı çarparsak **sonuç** kaç olur?

- A) 68992 B) 49000
C) 6750 D) 9504

20)

450 ÷ 25	=	16
600 ÷ 30	=	20
224 ÷ 16	=	19
720 ÷ 12	=	6
4000 ÷ 100	=	400

Yukarıdaki bölme işlemlerinin kaç tanesinin **sonucu** doğru değildir?

- A) 4 B) 3
C) 2 D) 1

21)

Yer kabuğunun kalınlığı, derin okyanus çukurlarında kalın , yüksek dağların bulunduğu yerde ise incedir .	
Kayaçların birbirinden farklı olmasını sağlayan ve yapılarını oluşturan maddelere maden adı verilir.	
Fosillerin birçoğu ya deniz hayvanlarına ya da suya yakın yerlerde yaşayan hayvanlara aittir.	
Bugün uçak ve otomobil sanayisinde, inşaat gibi alanlarda alüminyum kullanılmamaktadır.	

Yukarıda bilgilerden doğru olana **D**, yanlış olana **Y** yazarsak nasıl bir görüntü oluşur?

A) D	B) D	C) Y	D) Y
D	Y	D	Y
Y	Y	Y	D
D	D	D	Y

22)



Dünya'nın **Güneş** etrafındaki 1 tam dolanımı sonucu oluşan süreyi kaç çocuk **doğru** bilmıştır?

- A) 2 B) 1
C) 3 D) 4

23)

Peynir	Sucuk	Makarna
Ekmek	Fındık	Yumurta

Yukarıdaki tabloda bulunan **besinlerden** bitkisel olmayanları boyarsak ortaya nasıl bir görüntü çıkar?

A)	B)
C)	D)

24)

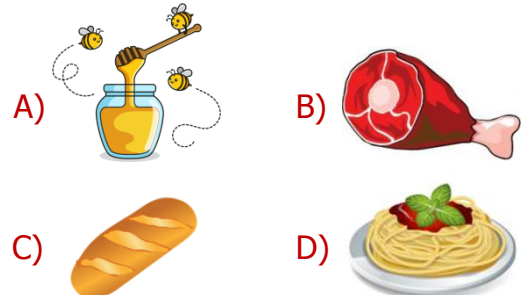


Canlılar besinlerle birlikte vücutları için gerekli olan yapıcı, onarıcı, düzenleyici ve enerji verici maddeleri alırlar.

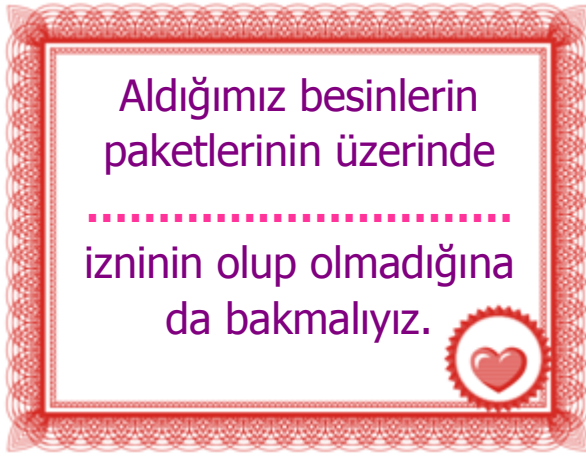
Yukarıdaki açıklamaya göre aşağıdaki besin içeriklerinden hangisi düzenleyici değildir?

- A) vitamin B) protein
C) mineraller D) su

25) Aşağıdaki **besinlerden** hangisi içeriği yönünden diğerlerinden farklıdır?



26)



Yukarıdaki cümlede **noktalı** yere aşağıdakilerden hangisi gelmelidir?

- A) Tarım ve Orman Bakanlığının
- B) Kültür ve Turizm Bakanlığının
- C) Sağlık Bakanlığının
- D) Milli Savunma Bakanlığının

27)

Onur	İpek	Eray	Hale
↓	↓	↓	↓
Makarna	Balık	Tavuk	Salata
Tavuk	Ekmek	Nohut	Pilav
Salata	Meyve	Köfte	Yoğurt

Yukarıdaki tabloda, adı yazılı **çocukların** akşam yemeğinde yediği yiyecekler verilmiştir.

Buna göre hangi çocuğun, diğerlerine göre dengeli beslenmeye çok dikkat ettiğini söyleyemeyiz?

- A) İpek
- B) Hale
- C) Onur
- D) Eray

28) **Sigara, içki ve uyuşturucu** maddelerin tüketimini en aza indirmek ve toplumu bilinçlendirmek için çalışan sivil toplum kuruluşumuz aşağıdakilerden hangisidir?

- A) YEŞILAY
- B) T.C. Sağlık Bakanlığı
- C) TÜRK KIZILAYI
1868
- D) TEMA

29)



Serhat ve arkadaşları **Yakan Top** oynamaktadırlar. Sinan bu oyunda çok başarılı olduğu için arkadaşları onu vurmakta zorlanmaktadırlar.

Oyunun **kuralları** göz önüne alındığında yukarıdaki oyunda aşağıdakilerden hangisinden bahsedemeyiz?

- A) Yön değiştirme hareketi
- B) İtme kuvveti
- C) Kalıcı şekil değişikliği
- D) Hızlanma hareketi

30) **Mıknatıs** ile ilgili aşağıdaki bilgilerden hangisi doğru değildir?

- A) Kullanım alanlarına göre farklı şekil ve büyüklükte yapılır.
- B) Mıknatısların farklı kutupları birbirine yaklaştırıldığında birbirini çeker.
- C) Mıknatıs kullanım alanlarına hızlı manyetik trenler örnek verilebilir.
- D) Mıknatısın kuzey, güney, doğu ve batı olmak üzere 4 kutbu vardır.

31)



Merve, arkadaşı Ayşe'nin çok üzgün olduğunu gördü ve onun yanına giderek üzüntüsünün sebebini öğrenmeye çalıştı. Ardından onu teselli etti ve arkadaşına yalnız olmadığını hissettirdi.

Yukarıdaki olaya göre **Merve** ile ilgili aşağıdakilerden hangisini söyleyemeyiz?

- A) Empati yeteneği gelişmiştir.
- B) Arkadaşlarına karşı duyarlıdır.
- C) Yardımsever olduğu söylenemez.
- D) Arkadaşlarına karşı saygılıdır.

32)



Yukarıdaki açıklamada **noktalı** yerlere aşağıdakilerden hangisi gelmelidir?

- A) sözlü tarih B) internet
- C) görsel kaynak D) atasözü

33)



Yukarıdaki **resimle** ilgili aşağıdaki bilgilerden hangisi doğrudur?

- A) Teknolojinin kültürümüze hiçbir olumsuz etkisi yoktur.
- B) Tablet ve bilgisayar çocukların birbiriyle olan paylaşımlarını etkilememiştir.
- C) Resimdeki çocuklar birbirleriyle son derece ilgilidirler.
- D) Eğer dikkat etmezsek teknoloji, hayatımızı olumsuz etkileyebilir.

34)



İki ebe karşılıklı durur ve birbirlerinin ellerini tutarlar. Tek sıra halinde dizilmiş diğer oyuncular ebelerin kollarının altından geçerler ve bir şarkı söylerler. Şarkı sonunda yakalanan oyuncu kendisine söylenen iki kelimedenden birini seçer.

Yukarıda bir kısmı anlatılan **oyun** aşağıdakilerden hangisidir?

- A) Yağ Satarım, Bal Satarım
- B) Birdirbir Oyunu
- C) Mendil Kapmaca
- D) Aç Kapıyı Bezirgân Başı

35)

Osmanlı Devleti **30 Ekim 1918'de** imzaladığı bu anlaşmayla bağımsızlığını kaybetti. İngiltere, Fransa ve İtalya bu anlaşmaya dayanarak topraklarımızı işgal ettiler.

Yukarıda, etkilerinden bahsedilen **anlaşma** aşağıdakilerden hangisidir?

- A) Ankara Antlaşması
- B) Mondros Ateşkes Antlaşması
- C) Mudanya Ateşkes Antlaşması
- D) Gümrü Barış Antlaşması

36) Kurtuluş Savaşı'nda **Doğu Cephesi**

Komutanlığı'na getirilen, Doğu Anadolu'ya giren Ermenileri başarılı bir taarruzla bugünkü doğu sınırimızın ötesine atan komutanımız kimdir?

- A) Yörük Ali Efe
- B) Kazım Karabekir
- C) İsmet İnönü
- D) Ali Saip Bey

37)



Top mermileri ıslanmasın ve kızı donmasın diye **kendini feda ederek şehit** olan kahraman Türk kadını kimdir?

- A) Şerife Bacı
- B) Nene Hatun
- C) Rahmiye Hanım
- D) Hatice Bacı

38)



"Anafartalar Kahramanı" olarak tanındı.



Samsun'a ayak basarak Kurtuluş Savaşı'nı başlattı



Trablusgarp Savaşı'na katıldı.



TBMM'den "Mareşal" rütbesini ve "Gazi" unvanını aldı.

Atatürk ile ilgili yukarıdaki olayları **kronolojik** sıraya koyarsak 3. sıraya hangi olayı yazarız?



39)



Güneşin **doğuş** yönüne arkasını dönen birinin sağ kolu hangi yönü gösterir?

- A) Güney
- B) Doğu
- C) Batı
- D) Kuzey

40)

Köprüler	Fabrikalar	Oyun Parkları
Denizler	Dağlar	Traktörler

Öğretmen, yukarıdaki tabloda bulunan **beşeri** unsurların boyanmasını istemiştir. Buna göre, öğrenciler kaç tane unsuru boyamamalıdır?

- A) 4
- B) 3
- C) 2
- D) 1

CEVAP ANAHTARI

TÜRKÇE	MATEMATİK	FEN BİL.	SOSYAL BİL.
1) C	11) B	21) D	31) C
2) D	12) D	22) C	32) A
3) A	13) A	23) C	33) D
4) C	14) B	24) B	34) D
5) B	15) B	25) B	35) B
6) B	16) C	26) A	36) B
7) D	17) D	27) D	37) A
8) C	18) B	28) A	38) C
9) A	19) D	29) C	39) D
10) B	20) A	30) D	40) C