

1) Hangi trafik levhasının kenar ve köşesi yoktur?



A)



B)



C)

2)
 ❖ Top
 ❖ Buzdolabı
 ❖ Güneş
 ❖ Tekerlek
 ❖ Kibrit kutusu
 ❖ Evin çatısı

Yukarıdakilerin kaç tanesinde kenar ve köşe bulunmaz?

A) 3

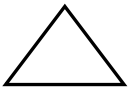
B) 5

C) 4

3)

4 kenarım vardır. Bütün kenarlarım birbirine eşittir.

Yukarıda kendisini tanıtan geometrik şekil aşağıdakilerden hangisidir?



A)



B)



C)

4) Yanda verilen şekilde aşağıdakilerden hangisi yoktur?



A)



B)



C)

5) Yanda verilen şekilde kaç tane üçgen bulunmaktadır?

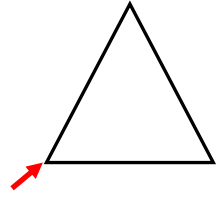


A) 5

B) 6

C) 4

6) Yandaki şekilde ok ile gösterilen yere ne ad verilir?



A) kenar

B) köşe

C) yüz


7) Dikdörtgen şeklindeki bahçemizin her köşesine ağaç dikmek istiyoruz. Bahçeye kaç tane ağaç dikmemiz gerekir?

A) 4

B) 2

C) 3

8)




Yukarıdaki şekilde kaç tane dikdörtgen vardır?



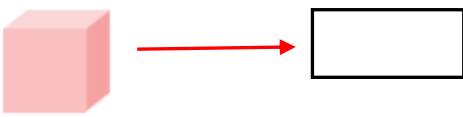
A) 5


B) 3

C) 6

- 9)  Yanda verilen görselde en az sayıda olan geometrik şekil hangisidir?
- A) kare
B) üçgen
C) daire

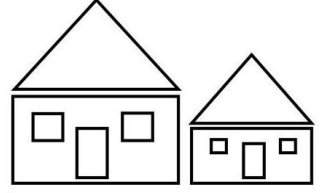
- 10) Aşağıdaki şekillerden hangisinin yüzü yanlış eşleştirilmiştir?

- A) 
- B) 
- C) 

- 11)  Kare=kırmızı
Üçgen= mavi
Dikdörtgen=sarı
Yandaki ev resmi yukarıda verilen renklerde boyandığı zaman en az boya hangi şekil için kullanılmış olur?

- A) dikdörtgen B) üçgen C) kare


- 12) Yanda verilen görselde hangi geometrik şekil yoktur?



- A) daire B) üçgen C) kare

- 13) Aşağıdaki bilgilerden hangisi yanlıştır?

- A) Üçgenin 3 kenarı ve 3 köşesi vardır.
B) Karenin 4 kenarı ve 4 köşesi vardır.
C) Dairenin 1 kenarı ve 4 köşesi vardır.

- 14)  Yanda verilen görsele göre hangisi yanlıştır?

- A) Görsele 6 tane üçgen vardır.
B) Görsele 5 tane kare vardır.
C) Görsele 3 tane dikdörtgen vardır.

- 15) Aşağıdaki nesnelere hangisi silindire benzemektedir?



- A) B) C)