

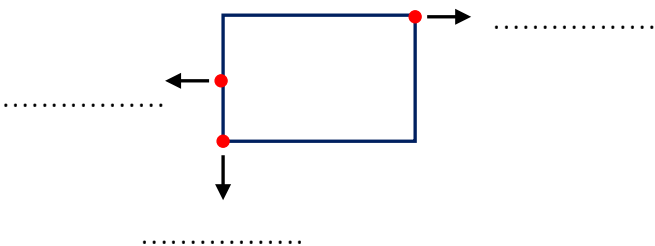

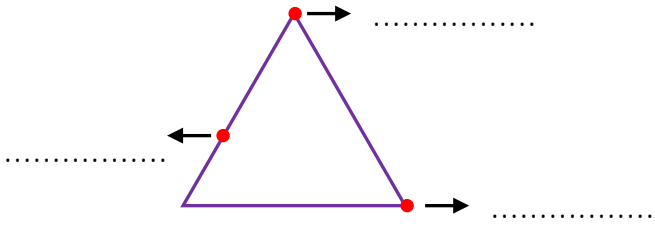
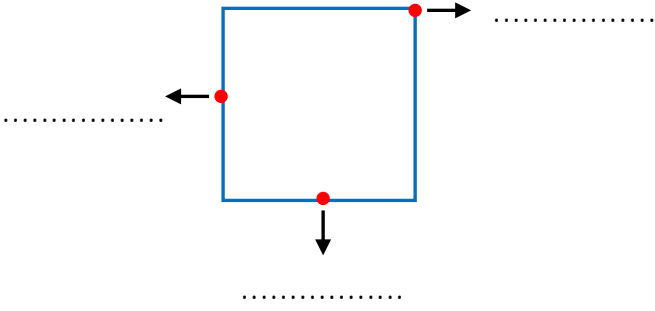


Adı Soyadı : .....


Numarası : .....

## Konu: Geometrik Şekilleri Tanıyalım Etkinliği 4

Aşağıdaki geometrik şekillerin adlarını kutulara, oklarla gösterilen bölümlerin adlarını noktalı yerlere yazalım.

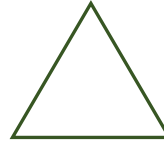


Geometrik şekillerin isimlerini altlarına yazarak, noktalı yerleri geometrik şekillerin özelliklerine göre yazalım.



..... köşesi ve  
..... kenarı vardır.

.....




..... köşesi ve  
..... kenarı vardır.

.....



..... köşesi ve  
..... kenarı vardır.


.....




..... köşesi ve  
..... kenarı vardır.

.....

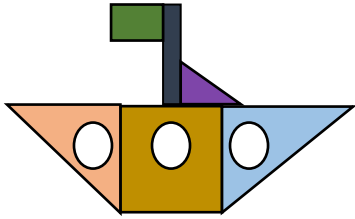
Aşağıdaki yapılarda hangi geometrik şekiller kaçar tane kullanılmıştır? Yan taraftaki noktalı yerlere yazalım.



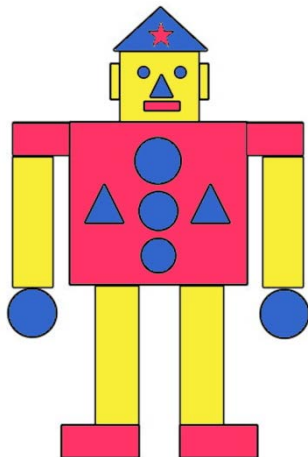
- ..... kare
- ..... üçgen
- ..... dikdörtgen
- ..... çember



- ..... kare
- ..... üçgen
- ..... dikdörtgen
- ..... çember



- ..... kare
- ..... üçgen
- ..... dikdörtgen
- ..... çember



- ..... kare
- ..... üçgen
- ..... dikdörtgen
- ..... daire

Aşağıdaki yapıları noktalı yerlere yazalım.

