

Maddelerle Çalışırken Tedbirli Olmalıyız

1) Hangisinde uyarı sembolleri bulunması gerekmez?

- A) Kitap ve defterlerin kapaklarında
- B) Temizlik amacıyla kullandığımız deterjan ve çamaşır suları ambalajında
- C) Asit ve yakıcı madde içeren kapların üzerinde

2) Aşağıdaki maddelerden hangisini kullanırken güvenlik tedbiri almalıyız?

- A)  Parfüm
- B)  Kolonya
- C)  Çamaşır suyu

3) Benzer görünümüne sahip maddeleri karıştırmak için hangisini yapmak doğru değildir?

- A) İlaçları kapalı bir dolapta saklamalıyız.
- B) Temizlik malzemelerini sadece yetişkinlerin ulaşabileceği yerlerde tutmalıyız.
- C) Çamaşır suyu ve içme suyu aynı dolapta saklanmalıdır.

4)



Çevre için zararlı madde

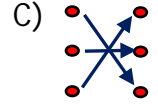
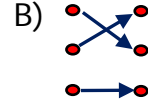
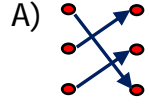


Zehirli madde



Aşındırıcı özelliğe sahip madde

Yukarıdaki işaret ve anlamları eşleştirildiğinde hangi şekil ortaya çıkar?



5)

Tüp, doğal gaz gibi maddeleri; yanan soba gibi sıcak maddelere sağlığımız için zararlıdır.

Yukarıdaki ifadeyi doğru tamamlayan sözcükler hangi seçenekte verilmiştir?

- A) dokunmak - kesici
- B) koklamak - dokunmak
- C) kesici - içmek

6) • ilaç • çamaşır suyu • şurup
• gazoz • kolonya • tiner

Yukarıdaki maddelerden kaç tanesini tadına bakmak tehlikelidir?

- A) 5
- B) 4
- C) 3

7)



Yukarıda verilen sembolün ifade ettiği anlam hangi seçenekte verilmiştir?

- A) Isı kaynaklarıyla çalışırken gerekli tedbirlerin alınması
- B) Kırılacak cam malzemelerin olması
- C) Canlı vücudunu tahriş edici maddenin bulunması

8) Bireysel ve gruplar halinde çalışırken almamız gereken güvenlik önlemlerden biri değildir?

- A) Bir kaza olduğunda öğretmenimize haber vermeliyiz.
- B) Kırılmış veya çatlamış cam malzemeleri kullanmalıyız.
- C) Her deneyden sonra çalıştığımız ortamı toplayıp temizlemeliyiz.

9)



Maddeyi kullanmadan önce maddenin üzerindeki etiketi okumalıyız.



Etrafa dökülen madde varsa öğretmenimizi çağırmadan temizlememeliyiz.



Eğlence amacıyla maddeleri birbirine karıştırmalıyız.

Yukarıdaki ifadelerden hangileri doğrudur?

- A)  
- B)  
- C)  

10)



Laboratuvarda deney yaparken yukarıdaki malzemelerden hangilerini kullanmalıyız?

- A) I, II ve III
- B) I, II, ve IV
- C) I, II, III ve IV

11)



Ayşe teyze, tuz ruhu ile temizlik yapacak.

Ayşe teyze, gerekli tedbirleri almazsa hangi duyu organları zarar görebilir?

- A) dokunma - koklama
- B) koklama - tatma
- C) tatma - duyma

12) Aşağıdaki bilgilerden hangisi yanlıştır?

- A) Bazı maddeleri tatmak, koklamak ve onlara dokunmak sağlığımıza zarar verebilir.
- B) Kaynak yapan işçiler, işlerini yaparken koruyucu gözlük takmalıdır.
- C) Maddelerin ne olduğunu anlamak için mutlaka tatlarına bakılmalıdır.

CEVAP ANAHTARI

- | | |
|-------|-------|
| 1) A | 11) A |
| 2) C | 12) C |
| 3) C | 13) |
| 4) A | 14) |
| 5) B | 15) |
| 6) A | 16) |
| 7) C | 17) |
| 8) B | 18) |
| 9) A | 19) |
| 10) C | 20) |