

Bir **kurt**, sarp bir kayanın kenarında otlayan bir **keçi** gördü. Hemen kayanın dibine gitti. Gayet nazik bir sesle şöyle dedi:
– Merhaba sevgili arkadaş! Başınızın dönmesinden ve kayadan aşağı düşmekten korkuyor musunuz?

Keçi cevap vermedi, otlamaya devam etti. **Kurt** yine seslendi:
– Orası rüzgârlı değil mi? Baksanıza fırtına çıksa, sığınacak yeriniz yok.

Keçi yine sesini çıkarmadı. **Kurt** devam etti:

– Hem bakın buradaki otlar daha bol ve daha lezzetli.

Keçi nihayet konuştu:


– **Kurt** arkadaş! Sizi böylesine nazik yapan şeyin benim yediklerimden ziyade, sizin yemek istediğiniz şey olmadığına emin misiniz?

➤ İlk soruyu metne göre cevaplayınız.

1) **Metinden** çıkaracağımız **ders** aşağıdakilerden hangisidir?

- A) Bazı konularda inatlaşmak, bizi kötü bir durumla karşı karşıya bırakabilir.
- B) Gereksiz alışveriş yapmamalı, kaynakları tasarruflu kullanmalıyız.
- C) Kendi çıkarı için yalan söyleyen kişilere karşı uyanık olmalıyız.

2)



Aşağıdaki şıklardan hangisinde, **yukarıdaki** insanların gösterdikleri kelimelerden tümünün **eş** anlamlıları doğru verilmiştir?

- A) öğrenci – şişman – gerçek – yargıç
- B) öğrenci – cılız – rüya – yargıç
- C) öğretmen – ince – kalk – köle

3)



Yukarıda her biri bir meyve ile eşleştirilen kelimelerden hangileri satır sonunda yanlış ayrılmıştır?

- A) çilek – armut
- B) elma – çilek
- C) üzüm – muz

4)



Arabamız, yukarıdaki kelimeler sözlük sırasına göre sıralandığında **3. kelimenin** olduğu garajdır. Buna göre arabamızın garajında hangi **kelime** yazıyor?

- A) perişan B) pergel
C) perşembe


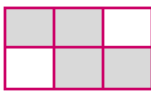

5) Aşağıdaki cümlelerin hangisinin sonuna farklı bir noktalama işareti gelmelidir?

- A) Özlem ne yaptığının farkında değil
B) Haylaz mı haylaz bir çocuğu var
C) Biraz sessiz olabilir misiniz

6)

Ceket	Kalp	Almanlar
Samsun	Lahmacun	Turuncu

Yukarıdaki kelimelerden, **özel isim** olmayan kelimeleri boyarsak ortaya nasıl bir görüntü çıkar?

- A)  B) 
C) 

7) Aşağıdaki cümlelerdeki olayları oluş sırasına göre sıralarsak 2. sırada hangi cümle olur?

- A) Neyse ki öğretmenim bir şey demedi.
B) Bu yüzden erken kalkamadım.
C) Akşam çok geç yattım.

8)



Yukarıdaki kelimelerden kaç tanesi **çoğul** isim değildir?

- A) 4 B) 3 C) 2

9)



Çocukların **görevlerinden** bahsettikleri noktalama işareti aşağıdakilerden hangisidir?


- A) Virgül B) Ünlem İşareti
C) Nokta

10) Aşağıdaki şıklardan hangisindeki kelimelerin tümü doğru yazılmıştır?

- A) asfalt – hoparlör – sarımsak – maydanoz
B) herkez – tıraş – sürpriz – raslantı
C) şoför – eşofman – mehlem - dinazor

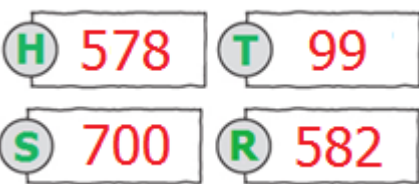
- 11)  Demet, fiyatı en yakın **onluğa** yuvarlandığı zaman 500 lira olan mama sandalyesini almaya karar veriyor. Buna göre mama sandalyesinin fiyatı **en çok** kaç lira olabilir?

A) 499 ₺ B) 504 ₺ C) 509 ₺

- 12) 


Yukarıdaki rakamları kullanarak yazılabilecek **rakamları farklı**, üç basamaklı **en büyük** sayı ile **rakamları farklı** üç basamaklı **en küçük** sayının farkı kaçtır?

A) 977 B) 782 C) 962

- 13) 

Yukarıda her biri bir **harf** ile eşleştirilen sayıların **büyükten küçüğe** dizilişi aşağıdakilerden hangisidir?

A) R – H – T – S B) S – R – H – T
C) T – H – S – R

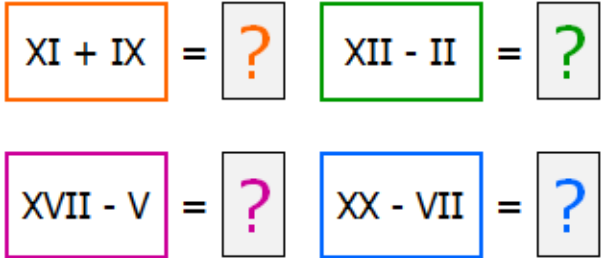
- 14) 

Kemal Bey ve **komşusu**, tavukların karışmaması için kendi aralarında şöyle bir **önlem** almışlardır:

- Kemal Bey'in tavukları çift sayılı,
- Komşusunun tavukları tek sayılı olacaktır.

Buna göre yukarıdaki tavuklardan kaç tanesi komşusunun **değildir**?

A) 3 B) 4 C) 5

- 15) 

Aşağıdaki **sayılardan** hangisi yukarıdaki işlemlerden birinin sonucu **değildir**?

A) 12 B) 13 C) 14



Yukarıda **okunuşu** verilen sayıyı en yakın yüzlüğüne yuvarlayıp, elde ettiğimiz sayıya iki basamaklı en **büyük** sayıyı eklersek sonuç kaç olur?

- A) 599 B) 549 C) 499

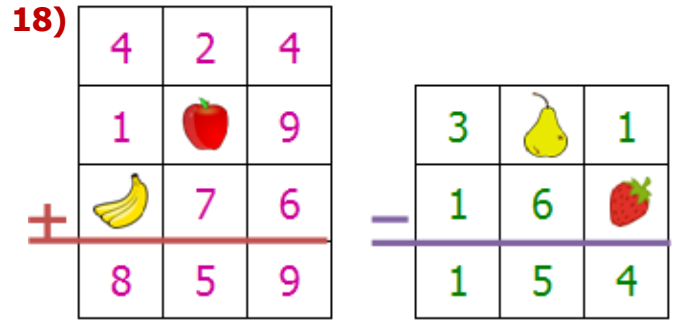
17)

Samsun - Sinop	158 km
Samsun - Amasya	124 km
Tokat - Samsun	226 km

- Samsun'dan yola çıkan **Arda** önce Amasya'ya gitmiş, daha sonra tekrar Samsun'a geri dönmüş ve ardından Samsun'dan Sinop'a gitmiş ve orada kalmıştır.
- Tokat'tan yola çıkan **Semih** Samsun'a gitmiştir. Ardından Samsun'dan, Amasya'ya gitmiş ve Amasya'dan da Samsun'a geri dönüp orada kalmıştır.

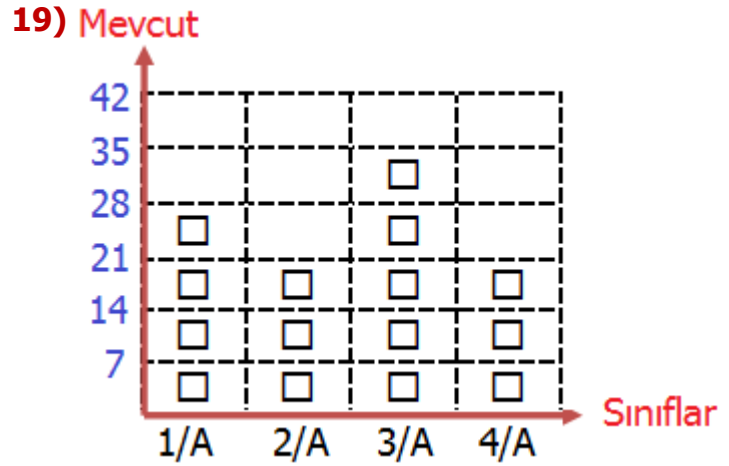
Buna göre **Semih** ile **Arda'nın** kat ettikleri mesafelerin farkı nedir?

- A) 68 km B) 124 km C) 384 km



Yukarıdaki toplama ve çıkarma işlemlerinde **verilmeyen** rakamların yerlerine meyveler konulmuştur. Meyvelerin alacağı değerlerin toplamı kaçtır?

- A) 15 B) 16 C) 17



Not: Her şekil 7 öğrenciyi gösterir. Yukarıdaki **tabloya** göre aşağıdaki bilgilerden hangisi doğru değildir?

- A) 2/A ve 4/A mevcutları eşittir.
 B) 1/A ve 2/A mevcut farkı 7'dir.
 C) 4/A ve 3/A mevcut farkı 15'dir.



Yukarıdaki örüntüde verilmeyen sayının **7 katı** aşağıdakilerden hangisidir?

- A) 70 B) 63 C) 56

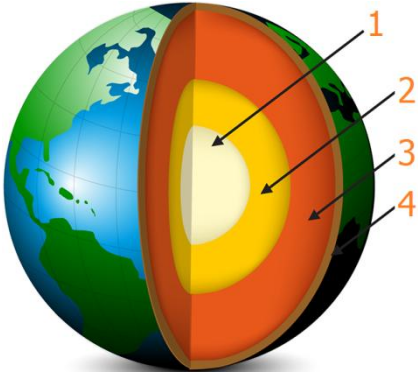
21)



Aşağıdaki şıklardan hangisi, **Dünya'nın küreye benzediğini** kanıtlayan bir örnek değildir?

- A) Güneş ışınları tüm ülkelere eşit olarak ulaşır ve tüm ülkelerde aynı anda gece ve gündüz yaşanır.
- B) Gökyüzünde uçan bir uçak hep aynı yöne gittiğinde tekrar başladığı yere ulaşır.
- C) Kıyıda denize açılan gemiler izlendiğinde önce gövdesi, sonra bacası kaybolur.

22)



İç çekirdeği saran katmandır.
Sıcaklığı iç çekirdekten daha azdır.

Yukarıda özelliği verilen tabakanın numarası ve **ismi** hangi şıkta doğru verilmiştir?

- A) 3 – Dış çekirdek
- B) 3 – İç çekirdek
- C) 2 – Dış çekirdek

23)

Su, Dünya'nın etrafını ince bir battaniye gibi sararak bir katman oluşturur.

Taş, toprak ve kaya gibi maddeler Dünya'nın kara katmanını oluşturur.

Uzaydan bakıldığında Dünya mavi görünür. Bunun sebebi Dünya'nın üçte ikisinin atmosferle kaplı olmasıdır.

Dünya üzerinde yeşil, sarı ve kahverengi görünen kısımlar karaları göstermektedir

Yukarıda **katmanlarla** alakalı bilgilerden doğru olana **D**, yanlış olana **Y** yazarsak nasıl bir görüntü oluşur?

A)	Y	B)	D	C)	D
	D		Y		D
	Y		Y		Y
	D		D		Y

24)



Neşe kendine çay doldurdu. Odasına giderken ayağı takıldı ve fincan yere düşüp kırıldı. Parçaları toplamak isterken kırık parçalar parmağını biraz kesti. Acıdan dolayı ağlamaya başladı. Sesleri duyan annesi mutfağa koştu.

Yukarıdaki olayda hangi **duyu** organından bahsedilmemiştir?

- A) Kulak B) Burun C) Deri

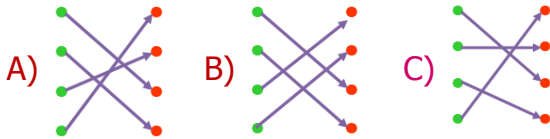
- 25) I. Uzun süre bilgisayar ve televizyon karşısında durmamak.
 II. Başkasına ait gözlüğü kullanmak.
 III. Güneş'e çıplak gözle bakmamak.
 IV. Karanlık bir ortamda cep telefonuyla oynamaktan kaçınmamak.

Yukarıdaki cümlelerden hangileri **göz sağlığımızı** korumak için dikkat etmemiz gereken önlemlerden değildir?

- A) I - II B) II - IV
 C) I - III

Salıncaktaki çocuk	●	●	Dönme
Viraja giren araba	●	●	Yön Değiştirme
Kediyi gören fare	●	●	Sallanma
Saatın yelkovanı	●	●	Hızlanma

Belirtilen varlıkları ve hareketleri eşleştirirsek nasıl bir **görüntü** oluşur?



Salıncakta birini sallamak	Uçurtmanın ipini tutmak
Prizden fişi çıkarmak	Matkapla delik delmek

Yukarıdaki cümlelerden kaç tanesi **çekme** kuvvetine örnek olarak verilebilir?

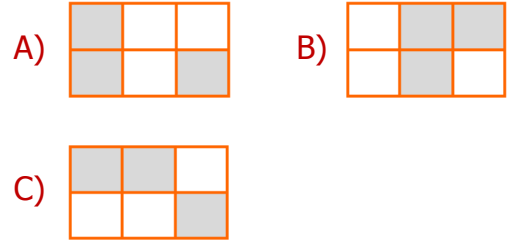
- A) 3 B) 1 C) 2

28) Aşağıdaki hareketlerden hangisi **tehlikeli** bir durum oluşturmaz?

- A) Koşan bir insanı itmek
 B) Vantilatöre dokunmamak
 C) Yayalara kırmızı yanarken yola atlamak

Cam	Sünger	Hamur
Demir	Pamuk	Tahta

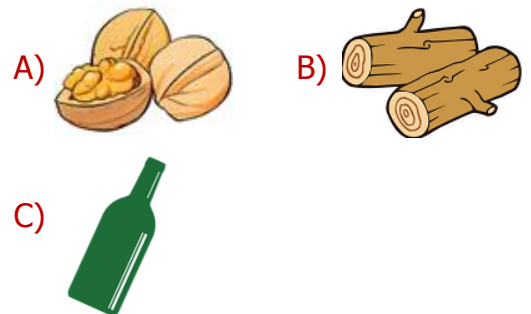
Serhat, yukarıdaki nesnelere **yumuşak** olmayanların kutucuklarını boyamak istiyor. Ortaya nasıl bir görüntü çıkar?



30)



Aşağıdaki **nesnelere** hangisi yukarıdaki özelliklere tümüyle uymaz?



31)



Samet, Arzu ve Metin sınıflarına yeni gelen **Ali** ile ten rengi sebebiyle dalga geçmektedirler. Arkadaşları ile **dalga** geçen bu üç arkadaş nasıl uyarmalıyız?

- A) Tüm öğrenciler aynı ders başarısını göstermeyebilirler.
- B) Arkadaş seçiminde zengin-fakir ayrımı yapmak kötü bir davranıştır.
- C) İnsanların dış görünüşlerine ve farklılıklara karşı saygılı olmalıyız.

32)

Birbirimize bazen güvenmeyiz.	Kimsenin sorunu beni ilgilendirmez
Kimseye kibar davranmak zorunda değilim.	Arkadaşlarıma saygısız davranmam.

Yukarıdaki **davranışlardan** kaç tanesi arkadaşlık ilişkisinin **güçlü** olmasını sağlayan davranışlardan değildir?

- A) 4
- B) 3
- C) 2

33)



Öğretmen, öğrencilerden grup oluşturarak pano hazırlamalarını istedi. Aslı, İpek, Mert ve Ali grup oluşturarak işbirliği ile güzel bir pano hazırladılar.

Yukarıdaki **metne** göre aşağıdakilerden hangisi grup çalışmasının faydalarındandır?

- A) Sorumluluk bilincinin gelişmesine zarar verir.
- B) Öğrenciler arasındaki arkadaşlık bağı zayıflar.
- C) Öğrencileri, paylaşma ve dayanışmaya teşvik eder.

34)



Melike Öğretmen, öğrencilere pikniğe nereye gitmek istediklerini sordu. Öğrenciler fikirlerini ve isteklerini nezaket kurallarına uyarak söylediler. Hep birlikte karar verdiler.

Yukarıdaki olay neyin **kanıtı** değildir?

- A) Karşılıklı saygıya özlem duyulduğunun
- B) Demokratik yolların benimsendiğinin
- C) Fikirlere saygı duyulduğunun

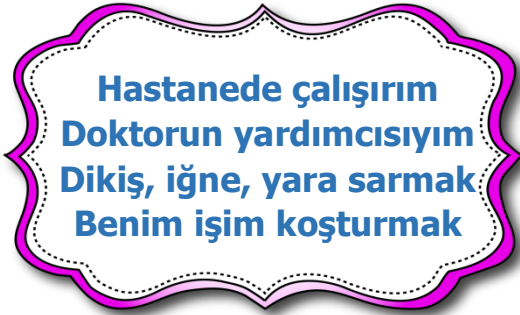
35)

1	Yaz mevsiminde kombi ile evi ısıtmak
2	Diş fırçalarken suyu kapalı tutmamak
3	Gündüz ışığı açmamaya dikkat etmek
4	Gereksiz de olsa elektrik kullanmak
5	Duştan önce suyu boşa akıtmamak

Yukarıdaki cümlelerden kaç tanesi **bilinçsiz** kaynak kullanımına örnek verilebilir?

- A) 4 B) 3 C) 2

36)



Yukarıdaki **bilmecenin** cevabı olan meslek aşağıdakilerden hangisidir?

- A) Hemşire B) Doktor C) Eczacı

37)



Oyuncakların zaman içinde değişmesinin **sebebi** nedir?

- A) Eskiden çocuklar oyun oynamaya pek vakit bulamıyorlardı.
B) Eskiden çocuklar oyuncak sevmiyordu.
C) Teknolojinin gelişimi oyuncakları da değiştirmiştir.

38)



Berat, **komşularının** gece vakti çok ses yapmaları sebebiyle uyuyamamaktadır. Buna göre yukarıdaki durumla alakalı aşağıdakilerden hangisini söyleyemeyiz?

- A) Berat'ın düşüncesiz komşuları vardır.
B) Komşuluk ilişkileri çok iyi değildir.
C) Komşuları, Berat'ın iyiliğini düşünüyor.

39) Günlük hayatta, evimizde çeşitli alet ve teknolojik ürünler kullanırız.

Aşağıdakilerden hangisi bu **ürünlerin** faydalarından biri değildir?

- A) Bu aletler sayesinde, işleri yaparken daha az yoruluruz.
B) Bu aletler komşu ve akrabalarımızın bizi ziyaret etmesini sağlar.
C) İşlerin kısa sürede ve kolayca yapılmasını sağlarlar.

40)



Elektrik faturası çok yüksek gelen Merve şaşırmıştır. Aile bütçesine yük binmesi onun biraz canını sıkmıştır. Merve tasarruf tedbirleri almaya karar vermiştir.

Aşağıdakilerden hangisi **Merve'nin** alabileceği önlemlerden biridir?

- A) Kullanılmayan elektronik aletin fişini prizden çekebilir.
B) Tasarruf ampullerini çıkararak eski tarz ampuller takabilir.
C) Bir makinenin yıkayabileceği bulaşığı, ikiye bölüp iki makinede yıkayabilir.

CEVAP ANAHTARI

TÜRKÇE	MATEMATİK	FEN BİL.	HAYAT BİL.
1) C	11) B	21) A	31) C
2) B	12) B	22) C	32) B
3) B	13) B	23) A	33) C
4) A	14) A	24) B	34) A
5) C	15) C	25) B	35) B
6) B	16) C	26) C	36) A
7) B	17) A	27) C	37) C
8) A	18) B	28) B	38) C
9) C	19) C	29) A	39) B
10) A	20) A	30) C	40) A