


4. Sınıf



4  
S  
N  
İ  
F

EVDE  
DENE!

4  
S  
N  
İ  
F

4. Sınıf

Ad: .....

Soyad: .....

D: .....

Y: .....




Ali Can Fidan



1. Aşağıdaki cümlelerin hangisinde "mi" ekinin yazımı ile ilgili yanlışlık yapılmıştır?

- A) Sabah buraya geldi mi?
- B) Tatlı mı tatlı bir çocuktuk.
- C) Bugün yanıma uğrarmısın?
- D) Beni gördü mü yerinde duramaz.

2. "Kış mevsimi sebzelerine şunları örnek verebiliriz ( ) Karnabahar ( ) havuç ( ) pırasa ve lahana ( )" 

Yukarıdaki cümlede parantez içlerine sırasıyla hangi noktalama işaretleri getirilmelidir?

- A) (: ( ) ( ) ( . )
- B) ( ) ( ) ( ) ( . )
- C) (; ( ) ( ) ( ? )
- D) (: ) ( : ) ( ) ( ! )

3. 

Ali, parasını hiçbir zaman bilinçli harcamaz. Eline geçen her parayı savurgan bir şekilde kullanır. Kardeşi Elif ise tutumludur. Gerektiği kadar para harcar, kalanını ise kumbarasında biriktirir. Bir gün Ali çok istediği kalemi almak için kırtasiyeye gider fakat tüm parasını harcadığından dolayı kalemi alamaz. Elif, aynı kalemi almak için biriktirdiği parayı kullanır ve kalemi alır.

Yukarıdaki metinde geçen olayı en iyi ifade eden atasözü aşağıdakilerden hangisidir?

- A) Üzüm üzüme baka baka kararır.
- B) Bir elin nesi var iki elin sesi var.
- C) Güneş balçıkla sıvanmaz.
- D) Sakla samanı gelir zamanı.

4.

	*doktor	
*ırac	*fikir	*kara
*hekim	*siyah	*düşünce
*uzak		*derin

Verilen tabloda yer alan kelimeler eş anlamlılarıyla eşleştirildiğinde bir kelime yalnız kalacaktır. Bu kelimenin zıt anlamlısı aşağıdaki cümlelerden hangisinde bulunmaktadır?

- A) Buranın yakınında oturuyorum.
- B) Denizin sığ yerlerinde yüzdük.
- C) Bahçede bir kuyu açacağız.
- D) Hava yavaş yavaş ısınıyor.

5.



Kırkpınar Yağlı Güreşleri, her yıl Temmuz ayında Edirne'de düzenlenmektedir. Türkiye'nin dört bir yanından gelen başarılı güreşçiler baş pehlivan olabilmek için mücadele eder. Baş pehlivan olan kişiye 51 bin ₺ ödül verilir.

Aşağıda verilen sorulardan hangisinin cevabı bu metinde yoktur?

- A) Kırkpınar Yağlı Güreşleri nerede yapılmaktadır?
- B) Bu yıl kim şampiyon olmuştur?
- C) Bu güreşler hangi ayda yapılmaktadır?
- D) Baş pehlivana ne kadar para ödülü verilmektedir?

6.



Aşağıdaki cümlelerden hangisinde spor ile ilgili terim anlamlı bir kelime bulunmamaktadır?

- A) Oyuncular sahneye çıkıp izleyicileri selamladı.
- B) Korner vuruşunu Ahmet yaptı.
- C) Çok uzaktan bir basket attı.
- D) Hakem düdüğü çalınca oyun durdu.

7.



TÜRK HAVA YOLLARI



TÜRK DİL KURUMU



T.C. MİLLÎ EĞİTİM BAKANLIĞI

Yukarıda üç farklı kurum ismi verilmiştir. Aşağıdaki cümlelerden hangisinde kurum adlarının kısaltmaları ile ilgili yazım yanlışı yapılmıştır?

- A) Amcam THY'de çalışıyor.
- B) Okulumuz MEB'e bağlıdır.
- C) O kelimenin anlamına TDK'nin sitesinden bak.
- D) Bilet almak için THY'na gideceğiz.

8.

Aşağıdaki cümlelerden hangisinde "-de"nin yazımı ile ilgili yanlışlık vardır?

- A) Bahçede köpeğiyle oynuyordu.
- B) Sizi bugün park ta gördüm.
- C) Sen de bizimle gelsene.
- D) Onun da böyle bir kalemi var.

9.

Verilen cümlelerin hangisindeki deyim "önemsiz bir olayı çok abartmak" anlamında kullanılmıştır?

- A) Hemen her olayda pireyi deve yapıyorsun.
- B) Geç kaldığımı duyunca küplere bindi.
- C) Dediğin şeyler kafama takıldı.
- D) Öğretmenin söylediklerine kulak kabarttı.

10.

Aşağıdaki cümlelerden hangisinde hayal ürünü unsurlar bulunmaktadır?

- A) Bulutlar göğü kaplamıştı.
- B) Kuş sesleri uzaktan bile duyuluyordu.
- C) Yolun kenarındaki ağaca yaslandım.
- D) Ağaç birden öksürmeye başladı.

11.



1. anlam



2. anlam

Yukarıda eş sesli bir kelimenin iki farklı anlamının görselleri verilmiştir. Buna göre, aşağıdaki cümlelerden hangisinde bu kelime 2. anlamıyla kullanılmamıştır?

- A) Hazineyi bulmak için işaretli yeri kazdılar.
- B) Bahçedeki kazı köpek kovaladı.
- C) Kazdığı yerden su çıktı.
- D) Sen yorulunca kazmaya ben devam ederim.



Ramazan geldi mi arkadaşım Murat ve babası, sahur zamanı davul çalmaya çıkardı. Gece biz en derin uykudayken onlar sokak sokak gezerek davul çalıp mani okurlardı. Bizim sokaktan geçecekleri zaman cama çıkar ve Murat’a selam verirdim. Dedem de onun babasına Ramazan geleneklerinden biri olan bahşişi verirdi. Bahşiş, bir iş karşılığı o işi yapan kişiye verilen belli bir miktarı olmayan paradır bu arada. Bir gece davulun önceki geceler gibi çalınmadığını duyduk. Cama çıkınca Murat ve kardeşinin çaldığını gördük. Neden babasının orada olmadığını sorduğumuzda ise rahatsızlandığını, bu sebeple kardeşi ile kendisinin çıktığını söyledi. Geçmiş olsun dileklerimizle onları uğurladık.

(12., 13., 14. ve 15. soruları yukarıdaki metne göre cevaplayınız.)

12. Murat ve babası ne zaman davul çalmaya gidermiş?

- A) Düğün olduğunda
- B) Ramazan’da sahur vakitlerinde
- C) Kurban Bayramı'nda
- D) Asker uğurlama töreninde

13. Metinde anlatılan “bahşiş” kelimesinin anlamı aşağıdakilerden hangisidir?

- A) Bir işi yapana verilen, belli miktarı olmayan para
- B) Ay sonunda çalışanlara ödenen para
- C) Düğünlerde damada ve geline takılan para
- D) Bakkaldan alınan ürün için ödenen para

14. Aşağıdakilerden hangisi yukarıda verilen metne başlık olarak kullanılamaz?

- A) SAHUR GECELERİ
- B) ARKADAŞIM MURAT
- C) BAYRAM SEVİNCİ
- D) DAVUL SESİ

15. Bir gece babasının yerine Murat ve kardeşi davul çalmaya çıkmış. Bunun sebebi aşağıdakilerden hangisidir?

- A) Murat hasta olduğu için
- B) Kardeşine davul çalmayı öğretmek için
- C) Babası rahatsız olduğu için
- D) Kardeşi çok istediği için



1.



Pazartesi → 11002 adım  
Salı → 10876 adım  
Çarşamba → 10909 adım

Ebru Hanım, her sabah koşuya çıkıyor. Yukarıda arka arkaya çıktığı üç gündeki adım sayıları verilmiştir. Bu bilgiye göre pazartesi günü ile çarşamba günü arasındaki adım farkı kaçtır?

- A) 930  
B) 126  
C) 93  
D) 99

2.

+	150	★
250	400	430
480	▲	660

Yukarıda bir toplama işlemi tablosu verilmiştir. Bu bilgilere göre "★ + ▲" işleminin sonucu aşağıdakilerden hangisidir?

- A) 630  
B) 810  
C) 730  
D) 910

3.



Özge ve Özlem ikiz kardeşlerdir. Doğum yılları ise 2007'dir.

Bu bilgilere göre bu iki kardeşin yaşlarının toplamı 2035 yılında kaç olacaktır?

- A) 28  
B) 56  
C) 58  
D) 70

4.



Yukarıdaki kamyonun boş ağırlığı 4327 kg ve kolilerin ağırlığı 2274 kg'dır. Buna göre kamyonun koliler varken toplam ağırlık kaç kg eder?

- A) 6060 kg  
B) 6001 kg  
C) 6591 kg  
D) 6601 kg

5.

- I. 453107  
II. 278900  
III. 557165  
IV. 313768

Yukarıda verilen sayılardan hangisinde bulunan 7 rakamının basamak değeri en büyüktür?

- A) I.  
B) II.  
C) III.  
D) IV.



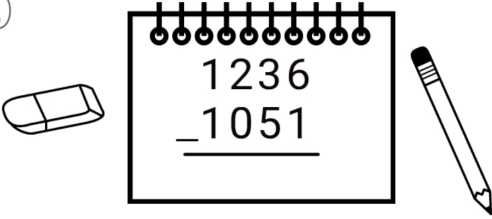
11.

1. adım  $\rightarrow 2000 + 2000 = 4000$
2. adım  $\rightarrow 500 + 300 = 800$
3. adım  $\rightarrow 4000 + 800 = 4800$

Yukarıda iki doğal sayının zihinden toplama işleminin adımları gösterilmiştir. Buna göre toplanan sayılar hangi şıkta doğru verilmiştir?

- A)  $2500 + 2300$                       B)  $2200 + 2100$   
 C)  $4000 + 8000$                       D)  $2400 + 2400$

12.



Yukarıdaki çıkarma işleminde eksilen sayının yüzler basamağındaki rakam 2 artırılıp çıkan sayının onlar basamağındaki rakam 3 azaltılınca yeni sonuç kaç olacaktır?

- A) 185                                      B) 385  
 C) 234                                      D) 415

13.

Aşağıda verilen çarpma işlemlerinden hangisinin sonucu diğerlerinden daha büyüktür?

- A)  $32 \times 9$   
 B)  $24 \times 10$   
 C)  $19 \times 8$   
 D)  $36 \times 7$

14.



TEMA Vakfı, 2019 yılında 134226 fidan ve 2020 yılında 177868 fidan dikildiğini duyurmuştur. TEMA'nın 2021 yılındaki hedefi ise 2020'de dikilen fidan sayısının 3000 fazlası kadar dikmektir. Bu bilgilere göre TEMA'nın 2021'de dikiyeceği fidan sayısı 2019'da diktiği fidan sayısından kaç fazla olacaktır?

- A) 43460  
 B) 44360  
 C) 46642  
 D) 44602

15.

Merhaba arkadaşlar! Matematik testinin bu son sorusu eğlenceli bir soru olsun diye düşündüm.



Şimdi beni dikkatle dinleyin: Benim iki tane sayım var. Sayılarım dört basamaklı doğal sayılardır. Biri "AAAA" ve diğeri de "BBBB"dir.



Bu iki sayının toplamı ise "8888"dir. Sakın kafanız karışmasın! Aslında çok kolay bir soru soracağım birazdan sizlere.



Yukarıda verilen bilgilere göre "AAAA" ve "BBBB" doğal sayıları aşağıdakilerden hangileri olamaz?

- A) 1111 ve 7777  
 B) 2222 ve 6666  
 C) 3333 ve 5555  
 D) 4444 ve 5555



1. Radyasyonu en az geçiren madendir.  
Akü yapımında kullanılır.



Otomotiv ve inşaatlarda kullanılır.

Kuyumculukta kullanılır.



Yukarıda üç tane madenin özellikleri verilmiştir.  
Bu özellikler aşağıdaki şıklarla eşleştirildiğinde  
hangi şıktaki maden boşta kalacaktır?

- A) Altın B) Demir  
C) Kurşun D) Bakır

2.



Dede, şu an  
İstanbul'da öğle  
vakti. Peki neden  
Amerika'da gece  
yaşanıyor?

Dedesini, Serhat'ın sorduğu soruya aşağıdaki  
cevaplardan hangisini vermelidir?

- A) Dünya kendi etrafında döndüğü için gece ve  
gündüz oluşur.  
B) Dünya Güneş'in etrafında dolandığı için gece  
ve gündüz oluşur.  
C) Dünya hızlı döndüğü için günler oluşur.  
D) Güneş öğle vakti tepede olduğu için gece ve  
gündüz yaşanır.

3.



Yukarıda bir besin grubuna ait olan yiyecek  
ve içecekler görülmektedir. Soru işareti yerine  
yazılması gereken besin grubu adı aşağıdakilerden  
hangisidir?

- A) KARBONHİDRAT B) VİTAMİN  
C) PROTEİN D) YAĞ

4. Sağlıklı ve dengeli beslenen biri için  
aşağıdakilerden hangisi söylenemez?



- A) Hastalıklara karşı dirençli bir vücudu vardır.  
B) Her besin türünden yeteri kadar yemektedir.  
C) Büyüme ve gelişimi zamanında gerçekleşir.  
D) Obeziteye yakalanma riski yüksektir.

5.



Merhaba, benim adım Hasan.  
Çalıştığım maden ocağında  
çıkardığımız madene ..... denir.  
Bu maden birçok alanda  
kullanılmaktadır. Dünyada en  
çok Türkiye'de çıkarıldığını da  
söyleyelim unutmadan.  
Dezenfektan yapımında,  
deterjanlarda, uzay ve uçak  
teknolojisinde de kullanılır.

Madenci Hasan'ın anlattığı maden aşağıdakilerden  
hangisidir?

- A) bakır B) kömür C) bor D) gümüş



6.

Merhaba ben Dr. Defne. Dün hastaneye gelen iki çocuk hastamın şikayetleri şöyleydi:



Vücut direncim düşük olduğu için grip oldum.



Ömer



Kübra

Boyum yaşıma göre hala çok kısa. Dişlerim de bazen çok ağrıyor ve sızlıyor.

Bu bilgilere göre doktorun çocuklara önermesi gereken besin türleri hangi şıkta doğru verilmiştir?

- A) Ömer'e karbonhidrat, Kübra'ya vitamin
- B) Ömer'e vitamin, Kübra'ya yağ
- C) Ömer'e vitamin, Kübra'ya protein
- D) Ömer'e mineral, Kübra'ya karbonhidrat

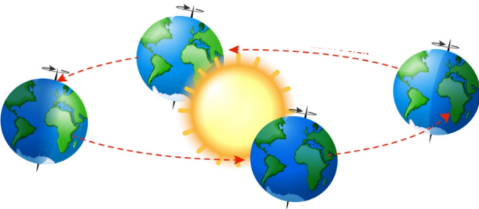
7.



Su ile ilgili aşağıda verilen bilgilerden hangisi yanlış bir bilgidir?

- A) Vücudumuzun dörtte üçü sudur.
- B) Vücuttaki zararlı maddeler su ile atılır.
- C) Günde en az iki-üç litre su içmek gerekir.
- D) Suyun yapıcı ve onarıcı özelliği vardır.

8.



Yukarıda verilen modelleme ile aşağıdakilerden hangisi anlatılmak istenmiştir?

- A) Dünya'nın yıllık hareketi
- B) Dünya'nın günlük hareketi
- C) Dünya'nın aylık hareketi
- D) Dünya'nın haftalık hareketi

9.

4/B sınıfı, sigaranın zararlarına dikkat çekmek için bir afiş hazırlayacaktır.



Buna göre, noktalı yere aşağıdakilerden hangisini yazmaları doğru olmaz?

- A) AKCİĞERİNİ YAŞAT!
- B) OBEZİTEYİ ÖNLE!
- C) BAĞIMLILIKTAN KURTUL!
- D) DUMANSIZ YAŞA!

10.

Karbonhidratlar, ikinci sıradaki enerji vericilerdir.	★★★★★
Ceviz, badem ve mısır yağ içeren besinlerdir.	★★★
Gıdaların son tüketim tarihine ve TSE damgasına dikkat etmek gerekmez.	★★
Taze besinlerde dondurulmuş besinlere göre daha fazla vitamin bulunur.	★★★★★
Diyetisyen, besin uzmanı da denen beslenme ile ilgili tavsiyede bulunan bilgili ve yetkili kişidir.	★★★

Tabloda verilen bilgiler doğru ise yandaki yıldızlar bizim olacak. Eğer bilgi yanlışsa yıldızları almayacağız. Öyleyse bilgilerin doğruluğu ve yanlışlığına bakarak toplam kaç tane yıldız toplamamız gerekir?

- A) 16
- B) 13
- C) 15
- D) 17



1. \*Soyadı \*Anne adı  
\*T.C. kimlik no \*Geçerlilik tarihi  
\*Doğum tarihi \*Fotoğraf  
\*Çip \*İmza

Yeni kimlik belgemizdeki bu bilgilerden kaç tanesi ön yüzde bulunmamaktadır?

- A) 4 B) 3 C) 2 D) 6

2.



SümeYYe Boyacı, dünyaya geldiğinde doğuştan kolları yoktu. Buna rağmen hayata küsmedi ve yüzmeye merak saldı. Bu alanda 2018'de altın ve gümüş gibi birçok madalya kazandı. Ülkemizin gururu olan SümeYYe, tüm olumsuzluklara rağmen insanın hayata tutunması gerektiğini herkese göstermiş oldu.

Verilen metne göre aşağıdakilerden hangisi söylenemez?

- A) Her insan eşit koşullarda dünyaya gelmez.  
B) SümeYYe zorluklar karşısında güçlü duran biridir.  
C) İnsanların fiziksel özellikleri farklılık gösterebilir.  
D) SümeYYe, futbol alanında başarılı bir sporcudur.

3. Aşağıdakilerden hangisi, Millî Mücadele dönemindeki Doğu Cephesi ile ilgili yanlış bir bilgidir?

- A) Bu cephede Fransızlar ile savaştık.  
B) Bu cephenin komutanı Kazım Karabekir'di.  
C) Kars ilimiz düşman işgalinden kurtarıldı.  
D) Bu cephedeki savaş sonunda Gümrü Antlaşması imzalandı.

4.



Mert'in kaykay ile yaptığı harika gösteriyi çok beğendik.

Onur, futbol maçlarını izlemeyi ve futbolcuların hayatlarını araştırmayı sever.



Boya kalemleri biten Selen'in en kısa zamanda yenilerini alması gerekiyor.

Yukarıdaki bilgilere göre hangi cümlede ihtiyaçtan, yetenekten ve ilgiden bahsedildiği aşağıdaki şıklardan hangisinde doğru verilmiştir?

<u>İHTİYAÇ</u>	<u>YETENEK</u>	<u>İLGİ</u>
A) Onur	Mert	Selen
B) Selen	Mert	Onur
C) Mert	Onur	Selen
D) Onur	Selen	Mert

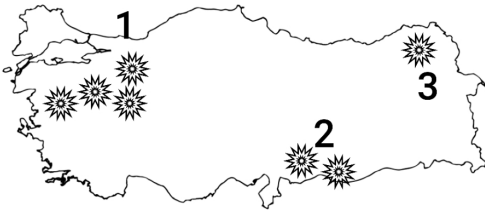
5.



Doğum yılları verilen bu dört kişiden hangisinin yeni kimlik belgesinde fotoğraf olması zorunludur?

- A) Burcu B) Arda  
C) Musa D) Yağmur

6.



Yukarıdaki haritada, Milli Mücadele'deki cephelerimiz gösterilmiştir. Buna göre numaraların yerine gelmesi gereken cephe isimleri hangi şıkta doğru verilmiştir?

- |          | 1     | 2     | 3 |
|----------|-------|-------|---|
| A) Doğu  | Batı  | Kuzey |   |
| B) Batı  | Güney | Doğu  |   |
| C) Kuzey | Doğu  | Batı  |   |
| D) Güney | Kuzey | Doğu  |   |

7.

- İzmir'i işgal eden Yunanlılar'a ilk kurşunu sıkan gazeteci
- Antep şehrinin savunmasında önemli görevler üstlenen vatansever
- Cepheye taşıdığı bombalar ıslanmasın diye battaniye ile örtüp kendisi soğuktan donan kahraman kadın şehidimiz

Yukarıda verilen bilgiler şıklarla eşleştirildiğinde hangisi dışta kalacaktır?

- |                 |               |
|-----------------|---------------|
| A) Şerife Bacı  | B) Şahin Bey  |
| C) Hasan Tahsin | D) Sütçü İmam |

8.

Aşağıda verilenlerden hangisi aile tarihi araştırması yaparken yararlanabileceğimiz şeylerden biri olamaz?

- A) Kendi günlüğümüz
- B) Eski fotoğraflar
- C) Eski mektuplar
- D) Çeyiz sandığı



9.



İtilaf Devletleri'nin ..... Ateşkes Antlaşması'ndan sonra ülkemizi işgal etmesi üzerine Mustafa Kemal, ..... günü .....'a çıkarak Milli Mücadele'yi başlatmış oldu.

Metindeki boşluklara sırasıyla hangi şıktaki bilgiler yazılmalıdır?

- A) Mudanya, 23 Nisan 1920, Ankara
- B) Gümrü, 29 Ekim 1923, İstanbul
- C) Mondros, 19 Mayıs 1919, Samsun
- D) Trablusgarp, 30 Ağustos, Samsun

10.



Yukarıdaki turistik afiş ile ilgili verilen bilgilerden hangisi yanlıştır?

- A) Mimarî esere yer verilmiştir.
- B) Cirit oyununa yer verilmiştir.
- C) Semazen gösterisine yer verilmiştir.
- D) Türk mutfağına ait yiyeceklere yer verilmiştir.



Güzel ülkemizin geleceğini inşa edecek olan çocuklar, atalarımızın kahramanca savaşarak düşmanı yenip kovduğu bu kutsal topraklar size emanet. Çok çalışın, her zaman ülkenizi sevin, bilimden ve üretimden yana olun. Türkiye sizlere emanet!

