

Bir karga, sıcak bir yaz gününde yemek aramaya çıktı. Ne bulduysa yemeye başladı. Bir zaman sonra susadığını hissetti ve hemen su aramaya başladı. Oradan oraya uçtu ama bir damla su bulamadı. Susuzluktan bitkin ve yorgun düştü. Ama pes etmedi, su aramaya devam etti.

Sonunda bir çiftliğin bahçesinde, bir sürahi gördü. Sürahinin içinde kargaya yetecek kadar su vardı.

Karga suyu içmek istedi, ancak sürahinin ağzı dar olduğu için suya ulaşamadı. Sürahiyi devirmeye çalıştı ama çok ağırdı. Bir süre düşündü. Sonra, etrafına baktı ve çevredeki küçük taşları gördü.

Gagasıyla topladığı taşları getirip birer birer sürahinin içine attı. Böylece su seviyesi yükseldi ve suyu içerek hayatta kaldı.

1) Aşağıdaki cümlelerden hangisi **metinden** çıkaracağımız **dersle** ilgilidir?

- A) Kendini düşünen ve yalan söyleyen insanlardan uzak durmalıyız.
- B) Birlik ve beraberlik içinde hareket edenler başarılı olurlar.
- C) Karşılaştığımız zorluklar karşısında pes etmemeliyiz ve çözüm aramalıyız.

2)



Anahtar, arabaların üstünde yazan kelimeleri sözlük sırasına göre sıraladığımızda **3. sırada** olan kelimenin olduğu arabandır. Buna göre anahtarın ait olduğu arabada hangi **kelime** yazmaktadır?

- A) harf
- B) gitar
- C) hasta

3)



Aşağıdaki şıklardan hangisinde, **yukarıdaki** kelimelerin tümünün **eş** anlamlıları **doğru** verilmiştir?

- A) ırak – rüya – yoksul – sual
- B) yakın – gerçek – yoksul – cevap
- C) yakın – rüya – zengin – sual

4) Aşağıdaki cümlelerin hangisinin sonuna **farklı** bir noktalama işareti gelmelidir?

- A) Ne yapsam kilo veremiyorum
- B) Böyle zayıflamayı nasıl başardın
- C) Lezzetli mi lezzetli bir pilav yedim

- 5) → Satır sonuna sığmayan sözcükler **hecelerinden** ayrılır.
→ Satıra sığmayan sözcükler bölünürken, satır sonunda **tek harf** bırakılmaz.

Aşağıdaki öğrencilerden hangisi yukarıdaki kurallara uymuştur?



- 6) Annem alışveriş listesi yaptı.
 Dolapta hiçbir şey kalmamıştı.
 Babam onu markete bıraktı.
 Alışveriş fişlerini kontrol ettim.

Yukarıda her cümle bir simgeyle eşleşmiştir. Olayları **oluş sırasına** koyarsak 3. sırada hangi cümle olur?

- A) B) C)

- 7) Aşağıdaki cümlelerden hangisinde hatalı kullanılan **noktalama işareti** vardır?

- A) Hayır! yalan söylüyorsun!
B) Sakın bir daha yanıma gelme!
C) Eyvah, okul servisini kaçırdım!




Zıt anlamlı kelimeler yazılı ampuller beyaz, **eş anlamlı kelimeler** yazılı ampuller ise sarı ışık vermektedir. Buna göre kaç ampul sarı ışık vermez?

- A) 4 B) 2 C) 3



Yukarıdaki kelimelerle **anlamlı** bir cümle kurmak istersek hangi kelime dışarıda kalır?

- A) kalanlara B) zorda C) teşekkür



Yukarıdaki arı, **doğru** yazılan kelimelerin olduğu çiçeklere konmaktadır. Buna göre arı kaç çiçeğe konmaz?

- A) 4 B) 3 C) 2

11)



Aşağıdaki **sayılardan** hangisi, yukarıdaki panoda olan sayılardan biridir?

- A) 74 B) 26 C) 38

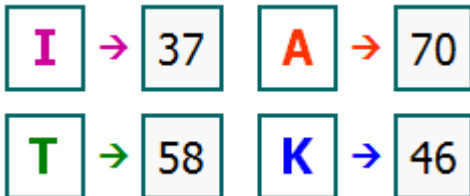
12)



Yukarıda **Veli** ve **Zeki'nin** misket sayıları verilmiştir. Buna göre aşağıdaki bilgilerden hangisi yanlıştır?

- A) Veli'nin misket sayısı Zeki'den 10 misket fazladır.
B) Zeki, Veli'ye 3 misket verirse misket sayıları eşitlenir.
C) Veli 6 misket daha alırsa 3 deste misketi olur.


13)



Her biri bir **harf** ile eşleştirilen sayıları büyükten küçüğe sıralarsak hangi **kelime** oluşur?

- A) TAKI B) ATIK C) ATKI

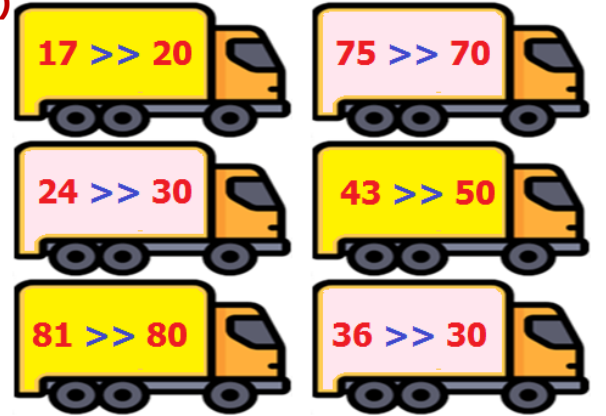
14)



Elma kurdu, 9 azalan örüntüye sahip elmaları sırayla yiyecektir. Elma kurdunun yiyeceği **7.** elmanın sayısı kaçtır?

- A) 28 B) 37 C) 19


15)








Yukarıdaki kamyonların üzerindeki sayılar **en yakın onluğa** yuvarlanmıştır. En yakın onluğa **yanlış** yuvarlanan sayıların olduğu kamyonlar satılacaktır. **Doğru** yuvarlanan sayıların olduğu kamyonlar satılmayacaktır. Buna göre kamyonlardan kaç tanesi **satılık** değildir?

- A) 4 B) 3 C) 2

16)

Yirmi dokuz	→	
-------------	---	---

 + 16	→	
--	---	---

 + 	→	
---	---	---

Yukarıdaki tabloya göre **karenin** alacağı değer aşağıdakilerden hangisidir?

- A) 45 B) 74 C) 62

17)

Çarşamba - Terme	⇒	22 km
------------------	---	-------

Kavak - Havza	⇒	38 km
---------------	---	-------

Terme - Ünye	⇒	35 km
--------------	---	-------

Asarcık - Kavak	⇒	24 km
-----------------	---	-------



Yukarıda ilçeler arası mesafeler verilmiştir. **Demet** ve **Elif'in** kat ettikleri mesafeler şöyledir:



- Demet **Çarşamba'dan Termeye** gitmiş, **Terme'den de Ünye'ye** gidip tekrar **Terme'ye** geri dönmüştür.
- Elif **Asarcık'tan Kavak'a** gitmiş, **Kavak'tan da Havza'ya** gitmiştir.



Buna göre **Elif** ve **Demet'in** kat ettikleri toplam mesafeler hangi şıkta doğru verilmiştir?

- | Demet | Elif |
|----------|---------|
| A) 57 km | – 62 km |
| B) 92 km | – 62 km |
| C) 57 km | – 52 km |


18)

4	8
	
7	3

	
4	5
9	4

Yukarıdaki toplama işlemlerinde verilmeyen toplananların yerine yazılan her bir şekil bir rakamı ifade etmektedir. Buna göre yeni oluşturacağımız **iki basamaklı**   sayısının en yakın onluğu kaçtır?

- A) 70 B) 60 C) 50

19)  Yaz mevsiminde kullanmak üzere, indirimde gördüğü gözlük ve gömleğe **95** lira ödeyen **Hakan**, gömleğe 59 lira verdiğine göre gözlüğün fiyatı ne kadardır?

- A) 44 ₺ B) 134 ₺ C) 36 ₺

20) 

Her gün, bir önceki günden **6 eksik** kargo teslim eden Yahya, ilk gün 92 kargo teslim etmiştir. Buna göre Yahya **6.** gün kaç kargo teslim etmiştir?

- A) 62 B) 56 C) 68

21)



Sınıflarında **engelli** bir arkadaşları bulunan öğrenciler, engelli arkadaşlarına karşı nasıl davranmalılar?

- A) Onu daha fazla üzmemek için onu yalnız bırakmalılar.
- B) Engeli sebebiyle onu hiçbir oyuna dahil etmemeliler.
- C) Farklılıklara saygı duymalı ve ona yardımcı olmalılar.

22)



Merih futbolda, **Polat** ise basketbolda çok yeteneklidir. İlgi ve yeteneklerinin farklı olması sebebiyle arkadaş olamayacaklarını düşünmektedirler.

Yukarıdaki **durumla** alakalı aşağıdakilerden hangisi doğrudur?

- A) Bireysel farklılıklara saygı duymalı ve farklılıkları engel olarak görmemeliyiz.
- B) Farklı yeteneklere sahip olan çocuklar birbirlerine zaman ayıramazlar.
- C) Arkadaşımızın bizimle aynı bireysel yeteneğe sahip olması gerekir.

23)



2/A sınıfı öğrencileri sınıfla ilgili konuları konuşup ortak karar vermektedirler. Buna göre aşağıdakilerden hangisi **2/A sınıfı** öğrencilerinin özelliklerinden değildir?

- A) Birbirlerinin kararlarına saygılıdır.
- B) Bir konuda herkesin görüşü alınır.
- C) Karşılıklı saygıdan bahsedemeyiz.

24)

Sıramızın üzerine resim çizebiliriz.	Temizleyen olduğu için çöpler yere atılabilir.
Okul kaynaklarını kendi evimdeki gibi korurum.	Okul eşyalarını tutumlu kullanmam gerekmez.

Yukarıdaki ifadelerden hangisi **bilinçli** bir öğrencinin söylemeyeceği ifadelerdendir?

- A) 4
- B) 3
- C) 2

25)

Evinin yerini **tarif** eden bir kişinin aşağıdaki ifadelerden hangisini söylemesine gerek yoktur?

- A) Evinin kaç odalı olduğunu
- B) Evinin yakınındaki marketi, bakkalı
- C) Evinin hangi mahallede olduğunu

26)



Yaklaşan milli bayram sebebiyle öğretmenin verdiği görev için bir araya gelen öğrenciler, **planlama, işbirliği** ve **saygıyla** güzel bir çalışma ortaya koydular.

Yukarıdaki **örnek olay** bize neyin önemini anlatıyor?

- A) Aile bütçesine katkı
- B) Kaynakların tutumlu kullanımı
- C) Grup çalışması

27)

Eğer gerektiği zaman konuşmazsanız karşınızdakiler sizi yanlış tanıyabilirler. Bu nedenle kendinizi **açık ve anlaşılır** bir şekilde ifade etmeniz çok önemlidir.

Aşağıdaki cümlelerden hangisi, yukarıdaki açıklamaya **zıt** bir ifadedir?

- A) Kendime olan saygım nedeniyle doğruları söylemekten çekinmem.
- B) Kendimi ifade etmezsem birçok fırsatı kaçırabilirim.
- C) Sorunun cevabını biliyorum ama arkadaşlarım güler diye söylemiyorum.

28)

Aşağıdakilerden hangisi oyun oynarken uymamız gereken kurallardandır?

- A) Oyun oynarken takım arkadaşlarımızla işbirliği içinde olmalıyız.
- B) Arkadaşlarımızla nezaket ifadeleri kullanarak konuşmamalıyız.
- C) Oyunu kaybettiğimiz zaman rakip takımı tebrik etmemeliyiz.

29)

Babamın babasına babaanne deriz

Dayımın eşine yenge deriz

Teyzemizin çocuklarına yeğen deriz.

Babamın kız kardeşine hala deriz.

Yukarıdaki bilgilerden doğru olana **D**, yanlış olana **Y** yazarsak nasıl bir görüntü oluşur?

- A)

D
D
Y
D

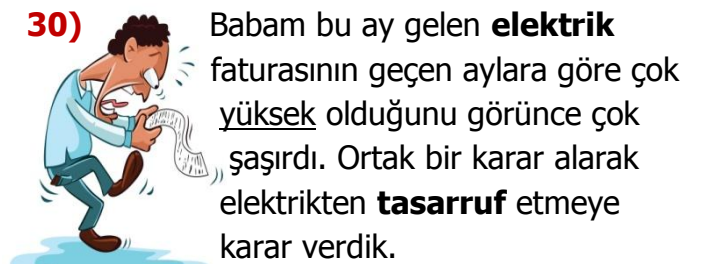
 B)

Y
D
Y
D

 C)

Y
Y
D
Y

30)



Babam bu ay gelen **elektrik** faturasının geçen aylara göre çok yüksek olduğunu görünce çok şaşırıldı. Ortak bir karar alarak elektrikten **tasarruf** etmeye karar verdik.

Aşağıdakilerden hangisi bu ailenin aldığı **kararlardan** biri olamaz?

- A) Kullanılmayan aletlerin fişlerini prizden çekmek
- B) Ocak yerine tüm yemekleri fırında pişirmek
- C) Tüm odalarda tasarruf ampulleri kullanmak

CEVAP ANAHTARI

TÜRKÇE

- 1) C
- 2) C
- 3) A
- 4) B
- 5) B
- 6) C
- 7) A
- 8) B
- 9) C
- 10) A

MATEMATİK

- 11) B
- 12) A
- 13) C
- 14) A
- 15) C
- 16) B
- 17) B
- 18) C
- 19) C
- 20) A

HAYAT BİL.

- 21) C
- 22) A
- 23) C
- 24) B
- 25) A
- 26) C
- 27) C
- 28) A
- 29) B
- 30) B