


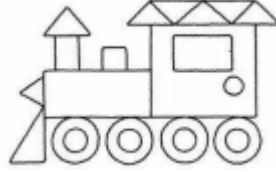
1)



Yanda verilen
şekilde hangisi
kullanılmamıştır?


- A) üçgen B) daire C) kare

2) Yanda verilen
görselde en fazla
hangi geometrik
şekil kullanılmıştır?



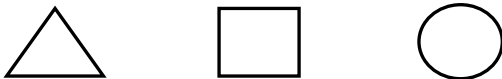
- A) □ B) ○ C) △

3) En fazla kenar ve köşesi olan geometrik
şekil aşağıdakilerden hangisidir?



- A) B) C)

4) Güneş resmi yapmak isteyen birisi hangi
geometrik şekli kullanmak zorundadır?



- A) B) C)

5)



1



2

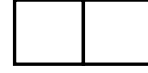


3

Yukarıdaki geometrik şekillerden hangi
ikisinin köşe sayısı eşittir?

- A) 2-3 B) 1-2 C) 1-3

6)



İki tane kareyi yukarıdaki gibi yan yana getir-
diğimiz zaman hangi geometrik şekil oluşur?

- A) üçgen B) dikdörtgen C) kare


7)



Yukarıda verilen noktalı alana en fazla kaç
tane kare çizilebilir?

- A) 8 B) 10 C) 11


8) Yanda verilen görselde
hangi geometrik şekil
yoktur?



A)

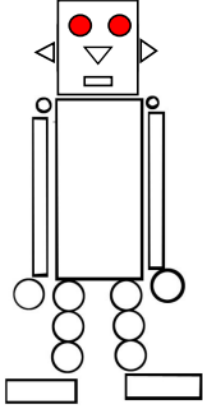


B)



C)

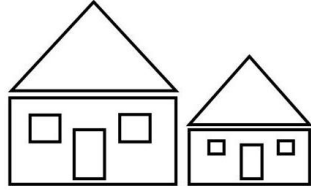
9)



Yanda verilen görselde en az sayıda olan geometrik şekil hangisidir?

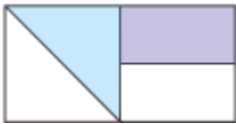
- A) kare
- B) üçgen
- C) daire

10) Yanda verilen görsel ile ilgili bilgilerden hangisi yanlıştır?



- A) Üç tane üçgen vardır.
- B) Dört tane dikdörtgen vardır.
- C) Daire bulunmamaktadır.


11)



Yanda verilen görsele göre hangisi yanlıştır?

- A) İki tane üçgen vardır.
- B) İki tane kare vardır.
- C) İki tane dikdörtgen vardır.

12) Yanda verilen görsel hangi geometrik şekilden oluşmaktadır?



- A) daire
- B) üçgen
- C) kare



13) Türk bayrağı çizmek isteyen birisi öncelikle hangi geometrik şekli çizmelidir?

- A) Dikdörtgen
- B) Üçgen
- C) Kare

14)

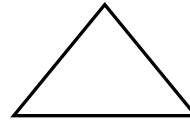


Yukarıda verilen şekilleri kullanarak hangisini oluşturamayız?



- A)
- B)
- C)

15)



Yanda verilen geometrik şekil kullanılarak hangisi oluşturulabilir?



- A)
- B)
- C)