


2.
Sınıf

Evde Dene

2.
Sınıf

2.
Sınıf

2.
Sınıf




Ad:
Soyad:

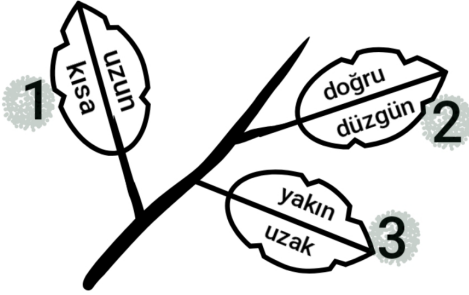


D:
Y:

1. Aşağıda verilen canlılardan hangisinin ismindeki hece sayısı diğerlerinden fazladır?



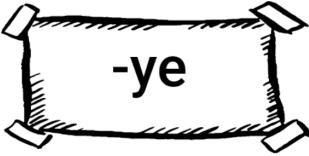
2.



Yukarıdaki dalda bulunan yapraklarda kelime çiftleri yazmaktadır. Bunlardan zıt anlam ilişkisi olmayan yaprak düşecektir. Buna göre kaç numaralı yaprak düşmelidir?

- A) 3 B) 2 C) 1

3.



Kağıtta yazan hece aşağıdaki kelimelerden hangisinde yoktur?

- A) yemek
B) sandalye
C) yengeç

4. Aşağıdaki cümlelerde bulunan altı çizili kelimelerden hangisinin yazımı yanlıştır?

- A) Yalnız başına oturuyordu.
B) Soğan ve sarımsak almaya gitti.
C) Soruya yanlış cevap verdi.

5.



Merhaba, benim adım Selen. Benim üç tane evcil hayvanım var. Kedimin adı Tırmık, köpeğimin adı Fındık ve kuşumun adı da boncuk. Onları çok seviyorum.

Bu bilgilere göre, Selen hangi evcil hayvanının adını yazarken yazım yanlışı yapmıştır?



6. Aşağıdaki cümlelerden hangisinin sonuna diğerlerinden farklı bir noktalama işareti getirilmelidir?

- A) Bizimle gelecek misin
B) Eşyalarımı bugün hazırlayacağım
C) Bir karenin kaç tane kenarı vardır



Tembel hayvanları hepimiz biliriz. Bu canlılar gerçekten adının hakkını veriyor! Öyle yavaşlar ki dakikada sadece 2 metre ilerleyebilirler. Günde ortalama 20 saat uyurlar. Ağaçlarda yaşama yetenekleri o kadar gelişmiştir ki ağaçtan yere ancak haftada bir inerler. Onların hakkındaki en yanlış bilgi ise maymunlar ile akraba zannedilmelemdir. Tembel hayvanların en yakın akrabaları karıncayiyenlerdir. Bu sebeple tembel hayvanların dilleri neredeyse bir cetvel uzunluğuna ulaşır.



(7., 8., 9. ve 10. soruları metne göre cevaplayınız.)

7. Aşağıda verilenlerden hangisi bu metne başlık olarak kullanılamaz?

- A) HAYVANLARIN EN TEMBELİ
- B) TEMBEL VE UYKUCU DOSTUMUZ
- C) AĞAÇLARIN BİLİNMEYEN YÖNLERİ



8. Yukarıdaki metin ile ilgili aşağıdaki sonuçlardan hangisine ulaşamaz?

- A) Tembel hayvanların en yakın akrabaları karıncayiyenlerdir.
- B) Tembel hayvanlar genellikle Asya kıtasında yaşamaktadır.
- C) Günde en az 20 saat uyurlar ve ağaçlardan aşağıya kolay kolay inmezler.



9. Aşağıda verilen sorulardan hangisinin cevabı bu metinde yoktur?

- A) Tembel hayvanlar en çok hangi ağaç türüyle beslenirler?
- B) Tembel hayvanlar hızlı mı yoksa yavaş canlılar mıdır?
- C) Tembel hayvanlar ağaçtan yere hangi sıklıkla inerler?




10.

Onların hakkındaki en yanlış bilgi ise maymunlar ile akraba zannedilmelemdir.

Metinde bulunan bu cümledeki altı çizili kelimenin zıt anlamlısı aşağıdaki cümlelerden hangisinde bulunmaktadır?

- A) Yalan söylemek kötü bir şeydir.
- B) Bugün okula yalnız başıma geldim.
- C) Sorunun doğru cevabını söyler misin?

1.



Kutularda bulunan toplam yumurta sayısının okunuşu hangi şıkta doğru verilmiştir?

- A) On sekiz
- B) Yirmi
- C) Yirmi dört

2.

49

Yukarıda verilen doğal sayı ile ilgili aşağıdaki bilgilerden hangisi yanlıştır?

- A) Sayının okunuşu "kırk dokuz"dur.
- B) 4 birlik ve 9 onluktan oluşmaktadır.
- C) En yakın onluğu 50'dir.

3.



Ali'nin kartonunda yazan sayıdan iki düzineyi çıkarırsak sonuç kaç olur?

- A) 9
- B) 10
- C) 12

4.



Yukarıdaki ritmik saymada * ve Δ ile gösterilen sayıların toplamı kaçtır?

- A) 76
- B) 68
- C) 74

5.

Aşağıda üç tane öğrenci, en yakın onluğa yuvarlama işlemleri yapmıştır. Hangi öğrenci yuvarlama işlemini yanlış yapmıştır?

A)



En yakın onluğu 50 olan en büyük doğal sayı 54'tür.

B)



58 sayısının en yakın onluğu 70'tir.

C)



28, 31 ve 33 sayılarının en yakın onluğu 30'dur.

6. Aşağıdaki zihinden çıkarma işlemlerinden hangisinin sonucu diğerlerinden farklıdır?

- A) $70-10$ B) $90-30$
C) $80-30$

7.



Akvaryumu için balık alan Hasan, yukarıdaki iki balığa toplam 87 TL vermiştir. Bu bilgiye göre fiyatı verilmeyen balık kaç TL'dir?

- A) 38 ₺ B) 48 ₺ C) 28 ₺

8.



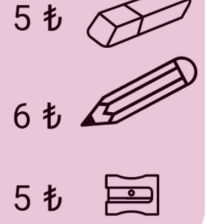
Tahtadaki toplama işleminin sonucu için aşağıdakilerden hangisi söylenemez?

- A) 7 onluk ve 3 birlikten oluşur.
B) En yakın onluğu 70'tir.
C) Sayının okunuşu "yetmiş bir"dir.

9.



Batuhan



Batuhan kırtasiyeden ihtiyaçlarını almak için anne ve babasından para istemiştir. Babası ona 15 ₺, annesi ise 12 ₺ vermiştir. 2 kalem, 1 silgi ve 1 kalemıraş alan Batuhan'ın geriye kaç ₺ parası kalmıştır?

- A) 7 ₺
B) 6 ₺
C) 5 ₺

10.



Benim adım Tarık. Yaşım bir düzineden 3 eksik.

Ben Asya. Benim yaşım bir desteden 2 eksik.



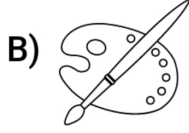
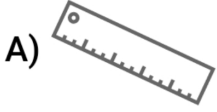
Ben Samet. Benim yaşım da Asya'nın yaşından 4 fazladır.



Bu bilgilere göre Asya, Tarık ve Samet'in yaşlarının toplamı kaçtır?

- A) 29 B) 21 C) 31

1. Aşağıdaki araç-gereçlerden hangisi resim dersi için gereklidir?



2. Aşağıdaki öğrencilerden hangisi bireysel farklılıklarla ilgili yanlış bir cümle kurmuştur?



Farklılıklara saygı göstermek gerekir.



Fiziksel engelli arkadaşlara yardım etmek gerekir.



Herkesin ilgi alanları aynı olmak zorundadır.

3. Annemizin erkek kardeşine, kız kardeşine deriz.

Yukarıdaki cümlede bulunan boşluklara sırasıyla aşağıdakilerden hangileri gelmelidir?

- A) amca, hala
B) amca, teyze
C) dayı, teyze

4.



Aylin

Benim parmak izim kardeşimin parmak iziyle aynıdır.



Adem

Boy uzunluğu fiziksel özellik değildir.



Defne

Herkesin göz rengi aynı olmayabilir.

Yukarıdaki öğrencilerden hangilerinin verdiği bilgiler yanlıştır?

- A) Aylin ve Adem
B) Adem ve Defne
C) Defne ve Aylin

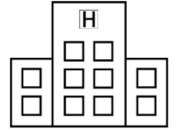
5.



Market



Deniz'in evi



Hastane



Okul



Oyun Parkı

Yukarıdaki görsele göre aşağıda verilen bilgilerden hangisi doğrudur?

- A) Okul, parkın sağında yer alır.
B) Deniz'in evi, hastane ile marketin arasındadır.
C) Oyun parkının tam karşısında market yer alır.


6.



Okul tuvaletleri yukarıdaki gibi olan öğrenciler için aşağıdakilerden hangisi söylenebilir?

- A) Temizliğe önem veren öğrencilerdir.
- B) Ortak kullanım alanındaki temizliğe dikkat ederler.
- C) Tuvaleti kullandıktan sonra temizlemeden bırakırlar.

7.



1



2



3



4

Güven, yukarıda verilenler arasında ihtiyaç olanları alacaktır. Buna göre Güven'in alması gerekenler hangi şıkta bulunmaktadır?

- A) 2 ve 4
- B) 1 ve 3
- C) 2 ve 3

8. İstek ve ihtiyaçlar ile ilgili aşağıdaki bilgilerden hangisi yanlıştır?

- A) İhtiyaçlar, isteklerden önemlidir.
- B) Harçlığımızın bir kısmını biriktirip daha sonra isteklerimizi alabiliriz.
- C) Bir sürü oyuncığımız varken yenilerini de alabiliriz.

9.



Kaan'ın sorduğu soruya annesi aşağıdaki cevaplardan hangisini verirse doğru olmaz?

- A) Odanı toplayabilirsin.
- B) Bıçak ile patates soyabilirsin.
- C) Kardeşinle ilgilenabilirsin.

10. Pazarda kaybolan Sevgi'nin yanına polis gelir. Onu annesine ulaştırmak için bazı sorular sorar. Aşağıdakilerden hangisi bu sorulardan biri olamaz?



- A) Kaç yaşındasın?
- B) Evini tarif edebilir misin?
- C) Annenin telefon numarasını biliyor musun?

Evde Dene 2. Sınıf Cevap Anahtarı

Türkçe → C-B-C-A-A-B-C-B-A-C

Matematik → C-B-A-A-B-C-A-C-C-A

Hayat Bilgisi → B-C-C-A-B-C-A-C-B-A

Hazırlayan: Ali Can Fidan