

1)



Yanda verilen
şekil için hangisi
söylenemez?

- A) Yüzeyinde iki tane üçgen vardır.
B) Altı tane köşesi vardır.
C) Sadece bir yüzü vardır.

2) Yanda verilen
görselde aşağı-
dakilerden hangisi
yoktur?



- A)  B)  C) 

3) Yanda verilen geometrik
şekil için aşağıdakilerden
hangisi söylenebilir?



- A) Şekilde iki tane daire bulunmaktadır.
B) Daireler birbirine eş değildir.
C) 2 tane köşesi bulunmaktadır.

4)



Yanda verilen görsel
için aşağıdakilerden
hangisi söylenemez?

- A) Sadece bir yüzü vardır.
B) Görüntüsü her yerden aynıdır.
C) Köşesi bulunmaktadır.

5) 2 kare ve 4 dikdörtgenden oluşan geometrik
şekil aşağıdakilerden hangisidir?



A)



B)



C)

6) Aşağıdaki ifadelerden hangisi yanlıştır?

- A) Kürenin bir yüzü vardır.
B) Karenin 4 kenarı 4 köşesi vardır.
C) Üçgenin köşesi yoktur.

7) Aşağıdaki görsellerden hangisi silindire
benzemektedir?



A)

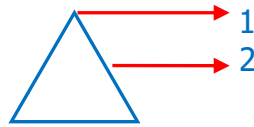


B)



C)




8)



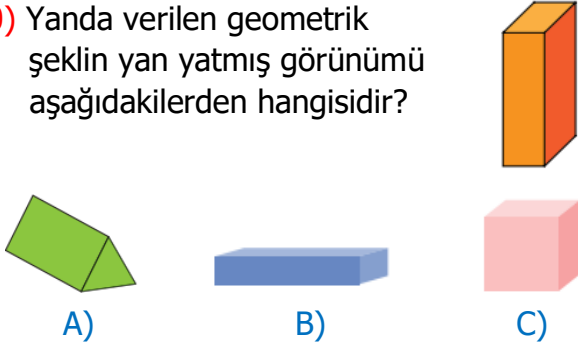
Yandaki geometrik
şekilde ok işareti ile
gösterilen yerlerin
isimleri hangi seçenek-
te doğru verilmiştir?

- A) 1- köşe-2 kenar
B) 1-kenar-2 köşe
C) 1-köşe-2 köşe


9) Aşağıdaki eşleştirmelerden hangisi yanlıştır?

- A)  A blue cylinder is connected by an arrow to a clear glass.
- B)  A wireframe triangular prism is connected by an arrow to a yellow tent.
- C)  A wireframe rectangular prism is connected by an arrow to a colorful Rubik's cube.

10) Yanda verilen geometrik şeklin yan yatmış görünümü aşağıdakilerden hangisidir?



11)



Yanda verilen görsele göre hangisi yanlıştır?

- A) Görsele dikdörtgen bulunmamaktadır.
B) Görsele daire bulunmaktadır.
C) Görsele kare bulunmaktadır.

12)



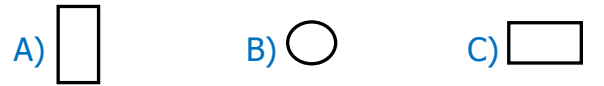
Yukarıdaki görseller sırasıyla hangi geometrik şekle benzemektedir?

- A) Üçgen prizma-Silindir-Küp
B) Kare prizma-Küp-Küre
C) Dikdörtgen prizma- Silindir-Küre

13) Hangi geometrik şeklin köşe sayısı daha azdır?

- A) Dikdörtgen
B) Üçgen
C) Kare

14) Aşağıdakilerden hangisi dikdörtgenler prizmasının yüzeylerinden birisi olamaz?



15) Aşağıdaki cisimlerden hangisinin köşesi yoktur?

