

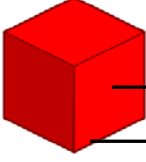


Adı Soyadı :

Numarası :

Konu: Geometrik Cisimleri Tanıyalım Etkinliği 4

Aşağıdaki geometrik cisimlerin adlarını yazalım. Modellerde oklarla gösterilen kısımların adlarını yazalım. Noktalı yerleri tamamlayalım.



.....

- Küpün yüzü vardır.
- Küpün köşesi vardır.
- 6 tane geometrik şeklin tamamı birbirine eş olan'dir.



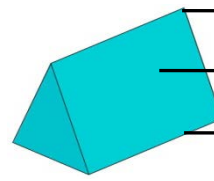
.....

- Kare prizmanın yüzü vardır.
- Kare prizmanın köşesi vardır.
- 2 tane birbirine eş ve 4 tane birbirine eş oluşur.



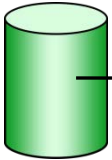
.....

- Dikdörtgen prizmanın yüzü vardır.
- Dikdörtgen prizmanın köşesi vardır.
- 6 tane geometrik şeklin tamamı birbirine eş olan'dir.



.....

- Üçgen prizmanın yüzü vardır.
- Üçgen prizmanın köşesi vardır.
- 2 tane birbirine eş ve 3 tane tane oluşur.



.....

- Silindirin yüzeyi vardır.
- Silindirin yoktur.
- Silindirin 2 yüzeyi dir. Bir yüzeyidür.



.....

- Kürenin yüzeyi vardır.
- Kürenin yoktur.
- Küreye hangi yönden bakılırsa bakılıns görüntüsü daima dir.

Aşağıda verilen nesnelerin hangi geometrik cisme benzediklerini altlarına yazalım.



.....



.....



.....



.....



.....



.....



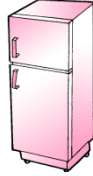
.....



.....



.....



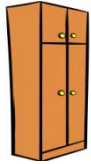
.....



.....



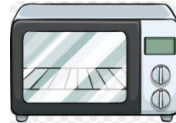
.....



.....



.....



.....



.....



.....



.....



.....



.....