

Evde Dene
Evde Dene
Evde Dene



3. Sınıf
3. Sınıf
3. Sınıf



Ad:
Soyad:

Ali Can
Fidan

D:
Y:

1.



Ben artık ihtiyar biriyim.
Eskiden mektepe talebe
olduğum vakitlerde her şey
çok farklıydı.

Aşağıdakilerden hangisi, Ahmet Dede'nin cümlesindeki altı çizili kelimelerden birinin eş anlamlısı değildir?

- A) yaşlı B) sınıf C) öğrenci

2.

Dışarıda hava çok soğuktu.
Ağustos böceği donmak
üzereydi. Utanarak karıncanın
kapısını çaldı.

Yukarıda "Ağustos Böceği ile Karınca" hikâyesinden bir bölüm verilmiştir. Aşağıdaki görsellerden hangisi bu verilen bölüme ait olabilir?

A)




B)



C)



3.



Yukarıda görseli verilen canlıların isimlerini alfabetik sıraya göre sıralarsak ortadaki hangisi olmalıdır?

- A) ▲ B) ★ C) ●

4.

Aşağıda verilen cümlelerden hangisinde yanlış yazılmış bir kelime bulunmaktadır?


- A) Annem bana sürpriz yaptı.
B) Bu hafta okula paylanço gelecekmiş.
C) Yağmur yağınca salyangozlar ortaya çıktı.


5.


Özel isimlere gelen ekleri ayırmaktır görevim. Bilin bakalım ben kimim?

Yukarıda kendini tanıtan noktalama işareti verilen cümlelerden hangisinde bulunmaktadır?

- A) Yarın işe gidecek misin?
B) Eyvah, yemek yanıyor!
C) Bu yıl Muş'a kar yağmadı.

6.  Faruk ve kardeşi eve gitti.

 Rize'nin Pazar ilçesinde bulunan Atatürk İlkokulu'nda okuyorum.

 Sırada İngilizce dersi var.

Yukarıdaki öğrencilerden hangisinin cümlesinde birden fazla özel isim bulunmaktadır?

- A)  B)  C) 

7. Aşağıda verilen cümlelerden hangisinde çoğul eki almış isim yoktur?

- A) Yaşlı kurt ormana girdi.
B) Keçileri otlatmaya götürdü.
C) Kapının önündeki karları kürekle temizledik.

8. 1 defterden 2 karşısında
3 öğretmenler 4 hazırıyoruz

Yukarıda numaralandırılmış kelimelerden hangileri satır sonunda yanlış ayrılmıştır?

- A) 3 ve 4 B) 1 ve 4

C) 2 ve 3



* * * * *
* Ben bir adamım burnum havuç, *
* Gözlerimde kömür var bir avuç, *
* Kar zamanı ortaya çıkarım, *
* Süpürgemle çocuklarla oynarım. *
* Sıkı giyin, aman üşüme! *
* Sakın kayıp yere düşme! *
* Abur cubur işe yaramaz, *
* Bol bol portakal, mandalina ye! *
* * * * *


(9. ve 10. soruları bu şiire göre cevaplayınız.)

9. Bu şiirde bahsedilen mevsim ile ilgili aşağıdakilerden hangisi yanlıştır?










- A) En soğuk mevsimdir.
B) Haziran, Temmuz ve Ağustos ayları bu mevsimde bulunur.
C) Kar yağışının gerçekleştiği mevsimdir.



10. Aşağıdaki sorulardan hangisinin bu şiirde cevabı yoktur?

- A) Bu adamın burnu neyden yapılmıştır?
B) En çok neleri tüketmemiz öğütleniyor?
C) Güneş açınca bu adam nereye saklanıyor?



Yukarıda dört tane rakam, dört farklı çiçek ile gösterilmiştir. Buna göre bu rakamlarla yazılabilecek rakamları farklı en büyük üç basamaklı sayı aşağıdakilerden hangisidir?

- A)    B)   
- C)   

2.  Üç yüz on sekiz
-  Yüz dokuz

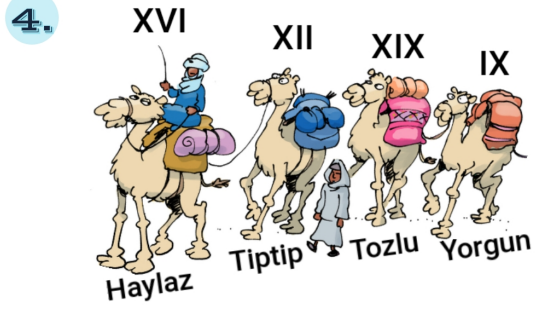
Okunuşları verilen bu iki doğal sayının toplamının sonucunu en yakın yüzlüğe yuvarlanırsa aşağıdakilerden hangisine ulaşılacaktır?

- A) 500 B) 400 C) 600



Yukarıdaki örüntüde verilmeyen iki doğal sayının çarpımının sonucu kaçtır?

- A) 54 B) 50 C) 48



Bu kervanda bulunan dört devenin ismi yukarıda verilmiştir. Develerin taşıdığı yüklerin ağırlıkları ise Romen rakamı şeklinde gösterilmektedir. Bu bilgilere göre en fazla yük taşıyan ve en az yük taşıyan develer aşağıdakilerden hangileridir?

- A) Tozlu, Yorgun
B) Haylaz, Tiptip
C) Tozlu, Haylaz

5. Bu yıl;

- * 245 kg buğday
- * 303 kg arpa
- * 478 kg yulaf
- * 226 kg mısır



üreten Davut Amca, bu ürünlerden miktarı tek sayı olanları satacaktır. Bu bilgilere göre Davut Amca toplam kaç kg ekin satmıştır?

- A) 781 kg B) 704 kg
C) 548 kg

6.

$$\begin{array}{r} 3A8 \\ + 27B \\ \hline 637 \end{array}$$

Toplama işleminde verilmeyen A ve B rakamlarının çarpımının sonucu aşağıdakilerden hangisidir?

- A) 54 B) 45 C) 49

7.



307 kg



446 kg



562 kg



464 kg

Yukarıda verilen hayvanların ağırlıklarını büyükten küçüğe sıralarsak üçüncü sırada hangisi olmalıdır?

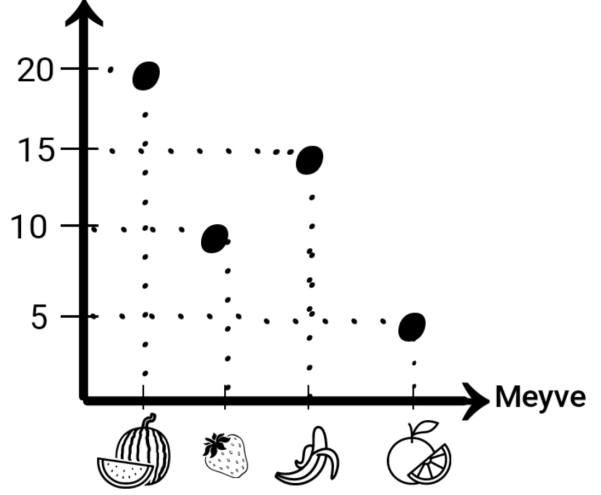
- A) İnek B) Aslan C) Kaplan

8. Bir simitçi sabah 231 tane, öğleden sonra ise sabah sattığının 39 eksiği kadar simit satmıştır. Buna göre bu simitçi toplamda kaç tane simit satmıştır?

- A) 423
B) 432
C) 192



Kişi sayısı




(9. ve 10. soruları yukarıdaki grafiğe göre cevaplayınız.)

9. Yukarıda 3/B sınıfı öğrencilerinin en sevdiği meyve grafiği görülmektedir. Bu bilgilere göre aşağıdakilerden hangisi söylenemez?

- A) Sınıfın mevcudu 50 kişidir.
B) Muz sevenlerin sayısı, çilek sevenlerin sayısından 5 fazladır.
C) Portakal sevenlerin sayısı, karpuz sevenlerin sayısından 13 daha azdır.

10. Muz ve portakal sevenlerin sayısının toplamından çilek sevenlerin sayısını çıkarırsak sonucu gösteren Romen rakamı aşağıdakilerden hangisi olmalıdır?

- A) X
B) V
C) VII



1.



Ünlü bilim insanı Galileo, Dünya'nın düz değil de yuvarlak şekilde olduğunu gözlemlerine dayanarak bulmuştur. Bu gözlemleri hangi alet ile gerçekleştirmiştir?

- A) teleskop B) pusula
C) parşömen

2. Aşağıda verilen bilgilerden hangisi, Dünya'nın kara katmanı ile ilgili bir bilgi değildir?

- A) Canlıların yaşadığı katman budur.
B) Diğer adı da atmosferdir.
C) Dağlar ve ovalar bu katmanda bulunur.

3.

* Dünya'nın en içte bulunan, en sıcak katmanıdır.

* Okyanusların ve denizlerin oluşturduğu katmandır.

Yukarıdaki bilgiler ile aşağıda verilenler eşleştirildiğinde hangi şık dışta kalacaktır?

- A) İç çekirdek B) Su katmanı
C) Manto

4.



Büşra'nın tatil günü çok eğlenceli ve dolu dolu geçti. Önce en sevdiği şeyi, çilekli ve çikolatalı dondurmayı yedi. Ardından kulaklığını takıp neşeli şarkılar dinledi. Son olarak da kedisi Karakulak ile bahçede oynayıp onun yumuşacık tüylerini sevdi.

Bu metne göre, sırasıyla Büşra'nın hangi duyu organlarından bahsedilmiştir?

- A) dil, kulak, deri
B) dil, göz, kulak
C) kulak, burun, deri

5.



Kenan, televizyon izlerken hem hem de duyu organlarını kullanır.

Verilen cümledeki boşluklara sırasıyla aşağıdakilerden hangileri gelmelidir?

- A) işitme-koku alma
B) işitme-görme
C) görme-dokunma

6.



Aşağıdakilerden hangisi kulak sağlığı ile ilgili bir bilgi değildir?

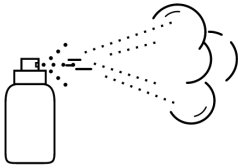
- A) Kulağın içine sert cisimler sokulmamalıdır.
- B) Kış aylarında kulaklar soğuktan korunmalıdır.
- C) Çok sıcak ve çok soğuk yiyecekler tüketilmemelidir.

7.



Öğretmenin tahtaya yazdığı örnekler, aşağıdaki hareket çeşitlerinden hangisine aittir?

- A) Yön değiştirme
- B) Dönme
- C) Hızlanma



8. "Gazlar" ile ilgili verilen bilgilerden hangisi yanlıştır?

- A) Belli bir şekilleri yoktur.
- B) Örnek olarak zeytinyağı ve ayran söylenebilir.
- C) Sıkıştırılabilirler.

9.

Çocuklar sokakta top oynarken oradan geçen Kemal Bey'in yüzüne çok sert bir şekilde top çarpmış ve gözlüğünü kırmıştır.



Yukarıdaki bilgiye göre aşağıda verilenlerden hangisi doğru değildir?

- A) Topa vurulduğunda hızlanma hareketi yapmıştır.
- B) Hareketli cisimlere kazalara ve yaralanmalara sebep olabilir.
- C) Top, Kemal Bey'e vurduktan sonra hızlanma hareketi yapmıştır.

10.

Caner, ★ ile gösterilen maddenin hâline örnekler verebilir misin?



Caner, Pınar'ın sorduğu soruya aşağıdaki cevaplardan hangisini verirse yanlış olur?

- A) Süt, çay, zeytin
- B) Su, zeytinyağı, ayran
- C) Süt, meyve suyu, şurup

1.



Bu ay gelen elektrik ve doğalgaz faturalarını gören Zeliha, bu duruma hem çok şaşırılmış hem de çok üzülmüştür.

Faturaların bu kadar yüksek gelmesinin sebebi aşağıdakilerden hangisi olamaz?

- A) Elektrikli eşyaları çok yoğun kullanmıştır.
- B) Kombiyi çok yüksek derecede çalıştırmıştır.
- C) Dikkatli davranarak tasarruf yapmıştır.

2.



Salih tatilde amcasına yardım etmeye gitmiştir. Amcasının mesleğinde kullandığı malzemeler ise yukarıda verilmiştir. Buna göre Salih'in amcasının mesleği nedir?

- A) Veteriner
- B) Marangoz
- C) Mühendis

3.



- * Eczanenin solunda pastane vardır.
- * Okulun karşısında hastane ve kırtasiye vardır.
- * Banka, market ve hastanenin arasındadır.

Yukarıdaki kroki ve verilen bilgilere göre ★ ve ● olan binalara sırasıyla hangi isimler gelmelidir?

- A) lokanta, pastane
- B) otopark, kırtasiye
- C) pastane, kırtasiye

4.



Yaşlı ve hasta olan Zeynep Teyze'nin komşusunun oğlu Can, gece geç saatlerde gitar çalmaktadır. Bu bilgiye göre aşağıdakilerden hangisi söylenemez?

- A) Can, komşuluk ilişkilerine önem vermemektedir.
- B) Can'ın bu davranışı yanlış bir davranış değildir.
- C) Gece geç saatte gürültü yapmak komşuluk ilişkilerine zarar verir.

5. Tekin Bey, kış mevsiminde kendi bahçesinde ve yetiştirmiştir.



Verilen cümledeki noktalı yerlere aşağıdaki sebzelerden hangisi yazılamaz?

- A) patlıcan B) pırasa
C) turp



Yukarıda numaralandırılmış oyuncaklardan hangileriyle dedelerimiz ve ninelerimiz çocukluk çağlarında oynamış olamaz?

- A) II. ve III. B) I. ve IV. C) II. ve IV.

7. Canlı dersleri bittiği gibi hemen oyun oynamaya başlayan Tuğba, ödevlerini yapmadığı için ertesi gün derse katılmak istememiştir. Katılmadığı için de derslerini kaçırmış ve ödevleri yine aksamıştır.




Yukarıdaki bilgilere göre Tuğba ile ilgili aşağıdakilerden hangisi söylebilir?

- A) Zamanını planlı şekilde değerlendiren bir öğrencidir.
B) En fazla zamanını oyun oynamaya ayırır.
C) Günlük planlamasını iyi yapmadığı için başına üzücü şeyler gelmiştir.

8. → Kullandığımızda evi daha kısa sürede temizleriz.
→ Kullandığımızda eşyaların kırıklıklarını çabucak düzeltiriz.

Verilen özellikler ile aşağıdaki elektronik eşyalar eşleştirildiğinde hangisi dışta kalmalıdır?



9. Aşağıdaki cümlelerden hangisinde bir beceriden bahsedilmektedir?

- A) Her ay altı tane kitap okurum.
B) Resim yarışmasında birinci oldum.
C) Evdeki çiçeklerle ilgilenmeyi çok severim.

10.



- I. Çöpleri dışarıya çıkarmak
II. Ocağa yemek pişirmek
III. Çiçeklere su vermek
IV. Eşyalarını katlamak ve odasını toplamak

Üçüncü sınıfa giden bir öğrenci yukarıda verilen işlerden hangisini yaparsa tehlikeli bir davranış olur?

- A) II. B) I. C) IV.



Evde Dene 3. Sınıf Cevap Anahtarı

Türkçe → B, A, A, B, C, A, A, C, B, C

Matematik → A, B, A, A, C, B, C, A, C, A

Fen Bilimleri → A, B, C, A, B, C, B, B, C, A

Hayat Bilgisi → C, B, C, B, A, A, C, B, B, A

Hazırlayan: Ali Can Fidan

