

1)

| | |
|---|--|
| Paydası payından küçük olan kesirlere " basit kesir " denir | |
| Payı, paydasına eşit ya da payı paydasından büyük olan kesirlere " bileşik kesir " denir. | |
| 1 ya da 1'den fazla bütün ve bileşik kesirden oluşan kesirlere " tam sayılı kesir " denir. | |

Yukarıdaki cümlelerden doğru olanlara **D**, yanlış olanlara **Y** yazarsak nasıl bir görüntü oluşur?

- A)

| |
|---|
| Y |
| D |
| D |

 B)

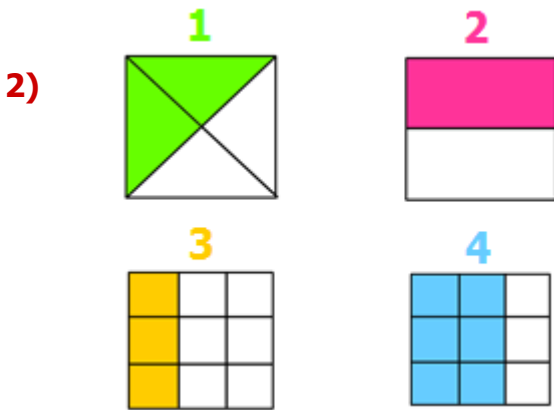
| |
|---|
| Y |
| D |
| Y |

 C)

| |
|---|
| Y |
| Y |
| D |

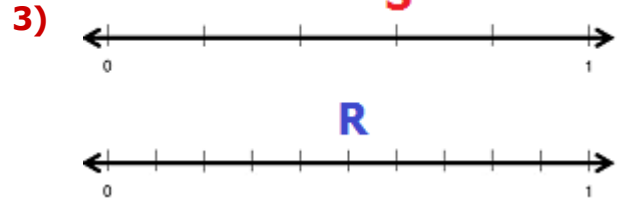
 D)

| |
|---|
| D |
| Y |
| Y |



Yukarıdaki **modellerle** alakalı aşağıdaki bilgilerden hangisi doğrudur?

- A) 1. modelin çeyreği boyanmıştır.
 B) 3. model "sekizde üç" olarak okunur.
 C) 4. model "dokuzda altı" olarak okunur.
 D) 2. modelin tamamı boyanmıştır.



Yukarıdaki sayı doğrularına göre sırasıyla **S** ve **R** kesirleri aşağıdakilerden hangisidir?

- A) $\frac{3}{5} - \frac{5}{10}$ B) $\frac{4}{5} - \frac{5}{9}$
 C) $\frac{4}{6} - \frac{6}{10}$ D) $\frac{3}{6} - \frac{6}{11}$

4)

| | | |
|-----------------|----------------|-----------------|
| $\frac{10}{11}$ | $\frac{15}{8}$ | $\frac{3}{2}$ |
| $\frac{9}{6}$ | $\frac{5}{9}$ | $\frac{19}{30}$ |

Yukarıdaki tabloda bulunan kesirlerden **bileşik kesir** olanları boyarsak ortaya nasıl bir görüntü çıkar?

- A)

| | | |
|--|--|--|
| | | |
| | | |
| | | |

 B)

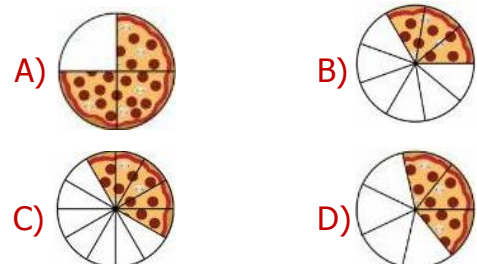
| | | |
|--|--|--|
| | | |
| | | |
| | | |
- C)


| | | |
|--|--|--|
| | | |
| | | |
| | | |

 D)

| | | |
|--|--|--|
| | | |
| | | |
| | | |

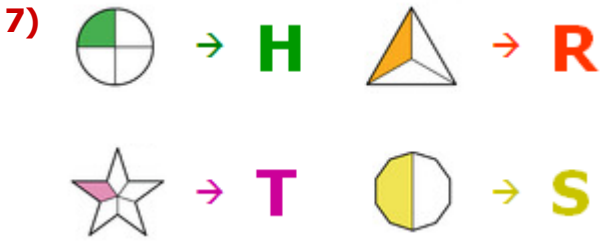
- 5) 4 arkadaş 7 parçaya böldükleri pizzadan birer parça yemişlerdir. Geriye ne kadar **pizza** kalmıştır?





Yukarıdaki öğrencilerden hangisi "birim kesir" örneği vermiştir?


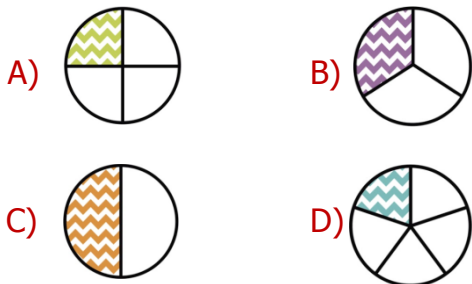
- A) Ümit B) Hale
C) Gözde D) Celil



Yukarıda her biri bir harf ile eşleştirilen kesirlerin büyükten küçüğe dizilişi aşağıdakilerden hangisidir?

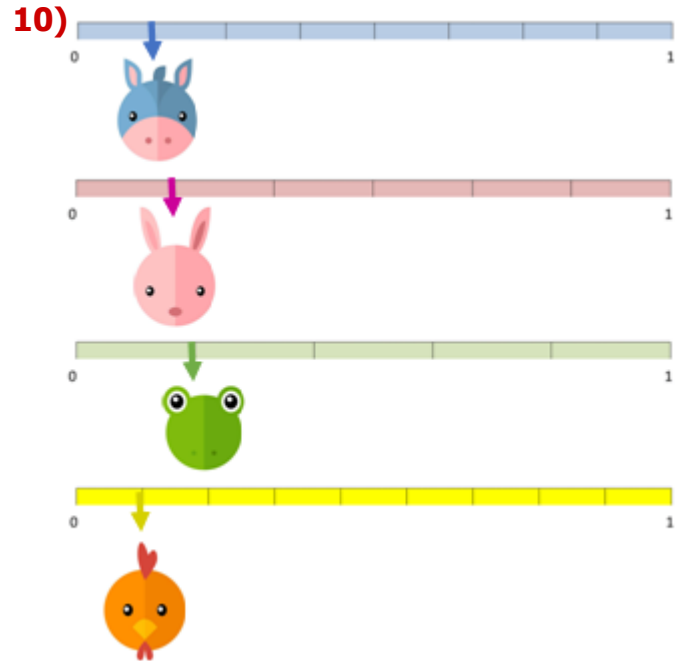
- A) T-H-R-S B) S-R-H-T
C) R-S-T-H D) H-T-S-R

8) Şıklardaki kesirler büyükten küçüğe doğru sıralandığında hangisi 3. (üçüncü) sırada yer alır?



Yukarıdaki meyvelerden, yanlarında belirtilen kesirler kadar kullanan Yasemin, hangi meyveden daha az kullanmıştır?

- A) Portakal B) Limon
C) Ananas D) Karpuz



Yukarıdaki sayı doğrularında, her biri bir hayvan ile eşleştirilen kesirlerden hangisi en büyüktür?

- A) Tavşan B) Horoz
C) Eşek D) Kurbağa

CEVAP ANAHTARI

- 1) B
- 2) C
- 3) A
- 4) C
- 5) D
- 6) B
- 7) B
- 8) A
- 9) C
- 10) D