




Adı Soyadı :

Numarası :

Konu: Ritmik Saymalar Etkinliği 1


Sincap kaç tane fındık toplayacak? Birer birer sayarak fındıkların altındaki kutucuklara yazınız.



Verilen sayılardan sonra ileriye doğru birer ritmik sayarak yazalım.



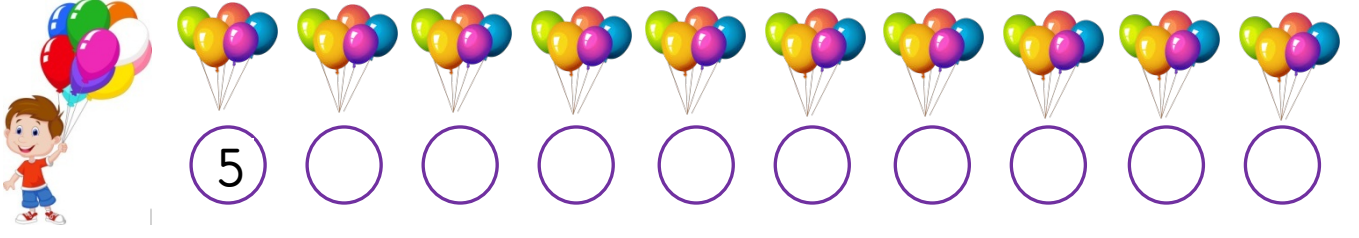
Ayşe, kaç tane kiraz toplayacak? İkişer ikişer sayarak kirazların altındaki kutucuklara yazınız.



Verilen sayılardan sonra ileriye doğru ikişer ritmik sayarak yazalım.



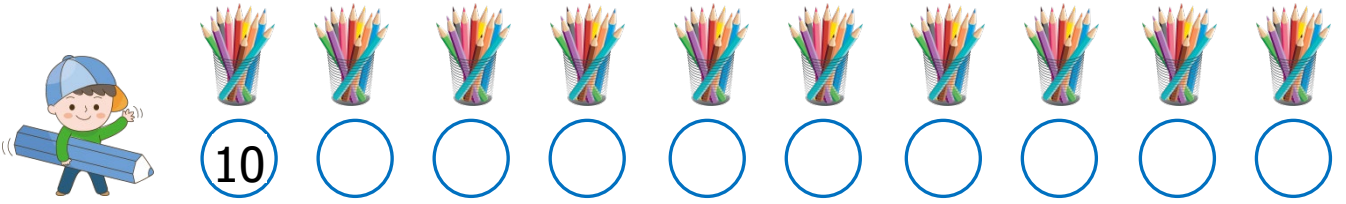
Emre'nin, kaç balon vardır? Beşer beşer sayarak balonların altındaki kutucuklara yazınız.



Verilen sayılardan sonra ileriye doğru beşer ritmik sayarak yazalım.



Mert'in kaç kalemi var? Onar onar sayarak kalemlerin altındaki kutucuklara yazınız.



Verilen sayılardan sonra ileriye doğru onar ritmik sayarak yazalım.

