

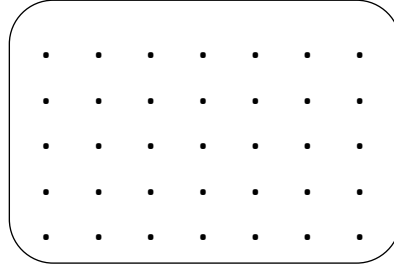


1. Etkinlik : Aşağıda özellikleri verilen öğrendiğimiz geometrik şekilleri yan tarafa çizin.


- ☼ Dört kenarı vardır.
- ☼ Dört köşesi vardır.
- ☼ Kenar uzunlukları birbirine eşittir.





- ☼ Dört kenarı vardır.
- ☼ Dört köşesi vardır.
- ☼ Karşılıklı iki kenarın uzunlukları birbirine eşittir.
- ☼ İki uzun, iki kısa kenarı vardır.



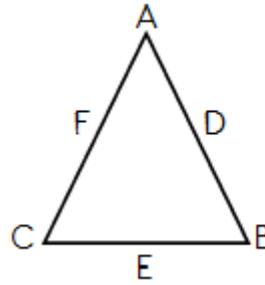
- ☼ Üç kenarı vardır.
- ☼ Üç köşesi vardır.



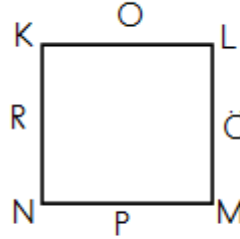
- ☼ Kenarı ve köşesi yoktur.



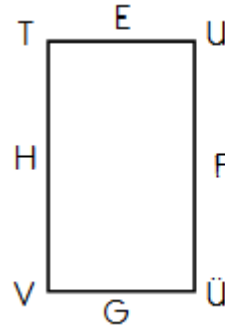
2. Etkinlik: Aşağıdaki şekillerin harflerle gösterilen bölümlerinin adlarını yazalım. Tabloda noktalı yerlere uygun sayıları yazalım.



A : D :
B : E :
C : F :



K : O :
L : Ö :
M : P :
N : R :



T : E :
U : F :
Ü : G :
V : H :

ŞEKLİN ADI	KENAR SAYISI	KÖŞE SAYISI
Üçgen		
Kare		
Dikdörtgen		
Çember		