

Bir adam ve oğlu ormanda yürüyorlardı. Aniden çocuk düştü ve acı içinde bağırdı: "Ahhhh!" Hemen sonra dağdan gelen "Ahhhh" sesi onu şaşırttı. Merak içinde "Kimsiniz?" diye haykırdı. Fakat sadece "Kimsiniz?" cevabını aldı. Cevap onu kızdırmıştı ve tekrar bağırdı: "Siz bir korkaksınız!" Ses cevap verdi: "Siz bir korkaksınız!" Babasına baktı ve sordu: "Ne oluyor?" "Oğlum" dedi adam, "Kulak ver, dikkat et şimdi!" Sonra baba bağırdı: "Ben sana hayranım". Baba bağırılmaya devam etti: "Sen harikasin!". Ses cevap verdi: "Ben sana hayranım", "Sen harikasin!".

Çocuk şaşkındı fakat halen ne olup bittiğini anlamamıştı. Baba durumu açıkladı: "İnsanlar bu durumu "yankı" diye isimlendirirler. Fakat bu durum tam anlamıyla hayatın kendisidir. Hayat daima, senin ona verdiğini sana geri verir. Hayat, senin eylemlerinin bir aynasıdır."

➤ İlk soruyu metne göre cevaplayınız.

1) Aşağıdaki atasözlerinden hangisi, metnin ana fikriyle ilgili değildir?

- A) Çanağa ne doğrarsan kaşığına o çıkar.
- B) Ne ekersen onu biçersin.
- C) İyilik eden iyilik bulur, kötülük eden kötülük bulur.
- D) Dağ dağa kavuşmaz, insan insana kavuşur.

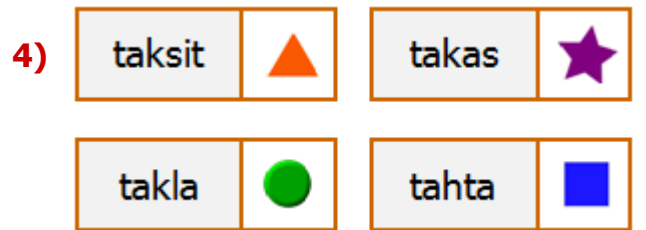


Sandalye kapmaca oynayan öğrencilerden, zıt anlamlı kelimeler yazan iki kişi sandalyelere oturacaktır. Buna göre kimler sandalyelere oturmaya hak kazanmıştır?

- A) Oya – Arda
- B) Arda – Elif
- C) Elif – Okan
- D) Okan – Oya

3) Aşağıdaki cümlelerin hangisinde mecaz anlamda kullanılmış bir sözcük yoktur?




- A) Yükleri taşırken kolum koptu.
- B) Böyle soğuk havaları hiç sevmem.
- C) Cesaretinin kırılmasına izin verme.
- D) Benim boş laflara karnım tok.



Yukarıda her kelime bir şekille eşleşmiştir. Buna göre bu kelimeleri sözlük sırasına göre dizersek 2. sırada hangi şekil olur?

- A) Daire
- B) Yıldız
- C) Kare
- D) Üçgen

5)

		
fermar K	sandöviç A	aktapot T
fermuar S	sandüviç E	ahtapot L
fermuvar B	sandviç İ	ahtobot M

Yukarıda her kelime bir **harf** ile eşleşmiştir. Buna göre görsellerin adlarının **doğru** yazılışları hangi kelimeyi oluşturur?

- A) KAL B) BET
C) SİL D) SAM

6)

(★) Ağaca dayanma kurur (⚙) insana dayanma ölür (□) (↑) demişler (🌸)

Tırnak işareti yukarıdaki şekillerden hangilerinin bulunduğu yere konmalıdır?

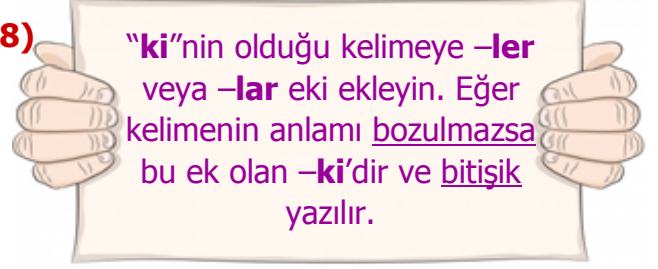
- A) ⚙ ve 🌸 B) □ ve ⚙
C) 🌸 ve ★ D) ★ ve ↑

- 7) ➤ Kişi adlarından sonra gelen saygı ve unvan sözlerine gelen ekleri ayırır.
➤ Kısaltmalara gelen ekleri ayırır.
➤ Sayılara gelen ekleri ayırır.

Hangi seçenekte, **kesme işaretinin** yukarıdaki kullanım alanlarından farklı bir kullanımı söz konusudur?

- A) Hatice Hanım'dan yardım sözü aldım.
B) Atatürk ne zaman TBMM'yi açtı?
C) Başvurular 24 Haziran'a kadar sürdü.
D) Arkadaşım 2'nci katta oturuyor.

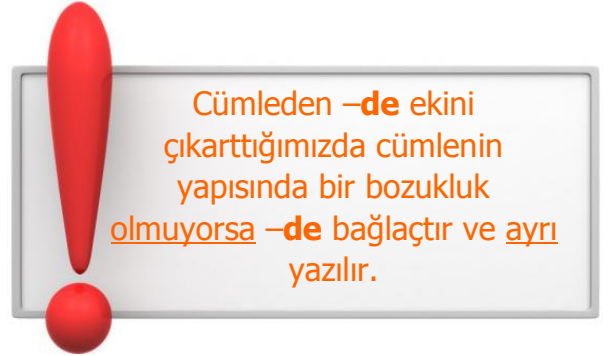
8)



Yukarıdaki açıklamaya göre aşağıdaki cümlelerden hangisinde **-ki** eki bitişik yazılmamalıdır?

- A) Düzenli çalışki başarılı olasin.
B) Duvardaki saatin pili bitmiş.
C) Evdeki hesap çarşıya uymadı.
D) Önce kitabındaki soruyu çöz.

9)



Yukarıdaki açıklamaya göre aşağıdaki cümlelerden hangisinde **-de** eki ayrı yazılmalıdır?

- A) Bütün kitaplarım evinizde kaldı.
B) Onun okuduğu şiirde güzeldi.
C) Herkes bahçede toplanmıştı.
D) Geçen gün parkta kaza oldu.


10)

yesyeni	düpdüz	bomboş
upuzun	bepbeyaz	mosmor

Tablodaki **pekiştirmeli** sözcüklerden kaç tanesinde yazım hatası vardır?

- A) 1 B) 2
C) 3 D) 4

11)



Yukarıda, her biri bir **hayvanla** eşleştirilen sayılardan iki yeni sayı elde edilecektir:

- Kurbağanın** sayısını binler bölüğüne, **aslanın** sayısını birler bölüğüne yaz.
- Zürafanın** sayısını birler bölüğüne, **maymunun** sayısını binler bölüğüne yaz.

Buna göre oluşan bu iki yeni sayının farkı kaçtır?

- A) 10 926 B) 5 904
C) 3 933 D) 234

12)



Mert yukarıdaki hediye paketlerinden sadece en yakın yüzlüğü 500 olanları alabilecektir. Buna göre **Mert** kaç hediye alabilecektir?

- A) 2 B) 4
C) 3 D) 5

13)

- Hakan, Serhat'tan daha fazla para kazanmıştır.
- Serhat, Merve'den daha fazla para kazanmıştır.
- Serhat 3295 ₺ para kazanmıştır.

Yukarıdaki **ipuçlarına** göre, aşağıdaki kazançlardan hangisi Hakan ve Merve'nin kazandıkları para miktarları olamaz?

Hakan	Merve
A) 4007 ₺	- 3289 ₺
B) 3311 ₺	- 3165 ₺
C) 3294 ₺	- 3296 ₺
D) 3297 ₺	- 3062 ₺

14)



Yukarıdaki **rakamlarla** oluşturulabilecek, rakamları farklı, üç basamaklı en büyük ve dört basamaklı en küçük sayıların **toplamı** kaçtır?

- A) 1130 B) 2930
C) 6948 D) 8826

15)



Yukarıdaki sayıların toplamını en yakın onluğa yuvarlarsak **sonuç** kaç olur?

- A) 3090 B) 3070
C) 3060 D) 3080

16)

GELİRLER	GİDERLER
Anne Maaş 3245 ₺	Gıda 1245 ₺
Baba Maaş 3299 ₺	Kira 1350 ₺
	Giyim 865 ₺
	Fatura 789 ₺

Yukarıda bir ailenin, bir aylık **gelir** ve **giderleri** not edilmiştir. Buna göre giderler çıktıktan sonra geriye **kalan** paranın **iki katı** aşağıdakilerden hangisidir?

- A) 6544 ₺ B) 4249 ₺
C) 2295 ₺ D) 4590 ₺

17)



Ahmet amca emekli maaşını çekmesi için torunu **Oya'ya** **4** adet işlem ve **1** adet **ipucu** kâğıdı vermiştir.

İpucu: İşlemlerden birinin sonucu **şifredir** ve bu sonuç **en yakın yüzlüğe** yuvarlanınca 2400 olmaktadır. Buna göre hangi **işlemin** sonucu kartın şifresidir?

- A) 189×14 B) 196×13
C) 204×12 D) 155×15

18)



112 liralık **ayakkabıdan** tam **5** tane alacak kadar parası olan **Akif**, **14** liralık **eldivenlerden** kaç tane alabilir?

- A) 36 B) 40
C) 44 D) 48

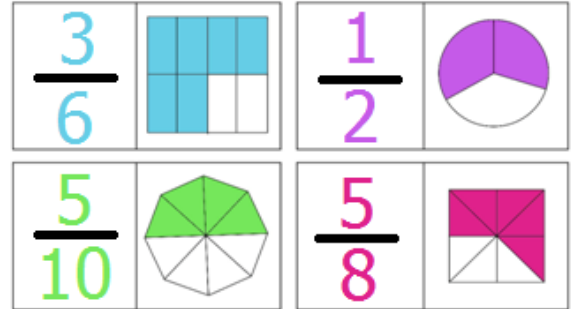
19)



Terazi yukarıdaki durumda **dengededir**. **Daire** şeklindeki cisimler **eşit** ağırlıkta ve **iki tanesi** 64 gramdır. Buna göre **ok** ile gösterilen cismin ağırlığı kaç gramdır?

- A) 128 gr B) 256 gr
C) 192 gr D) 64 gr

20)



Yukarıda her **kesrin** yanına **modellenmiş** hali koyulmuştur. Bu **eşleştirmelerin** kaç tanesinde **hata** yapılmıştır?

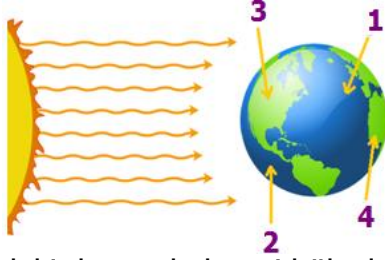
- A) 2 B) 1
C) 4 D) 3

- 21) ☆ Dünyada en fazla Türkiye'de çıkarılmaktadır.
 ★ Uzay teknolojisinde, askeri sanayide, tıpta ve elektrik sektöründe kullanılmaktadır.
 ☆ Sanayi camlarının üretiminde ve cam eşyaların ısıya karşı dayanıklı ve sert olması için kullanılır.

Yukarıda özellikleri verilen **maden** aşağıdakilerden hangisidir?

- A) Gümüş B) Altın
 C) Bor D) Demir

22)



Yukarıdaki durumda hangi bölgelerde **gece** yaşanmaz?

- A) 1 - 3 B) 2 - 4
 C) 2 - 3 D) 1 - 4

23)



Akşam yemeğinde yukarıdaki yemekleri yiyecek olan **Serhat**, ne yaparsa daha **dengeli** beslenmiş olur?

- A) Tavuk yerine yoğurt yemelidir.
 B) Salata yerine meyve yemelidir.
 C) Tavuk yerine pilav yemelidir.
 D) Balık yerine köfte yemelidir.

24)

Aldığımız gıda paketlerinin üzerinde Sağlık Bakanlığının izninin olup olmadığına bakarız.	
Donmuş gıdalar çözündükten sonra dışarıda uzun süre saklanabilir.	
Paketli gıdaların içindeki katkı maddelerinin içerik ve özelliklerini araştırmalıyız.	
Paketi açık olsa da ünlü marka ürünlerini almamızda bir sakınca yoktur.	

Yukarıda bilgilerden **doğru** olana **D**, yanlış olana **Y** yazarsak nasıl bir görüntü oluşur?

- A)

Y
Y
D
Y

 B)

D
Y
Y
D

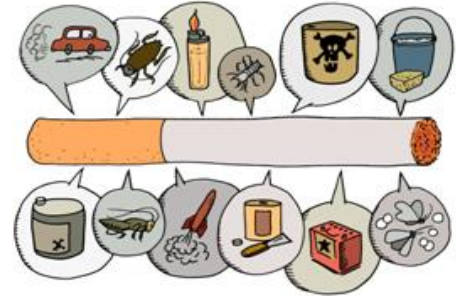
 C)

Y
D
Y
Y

 D)

D
D
Y
D

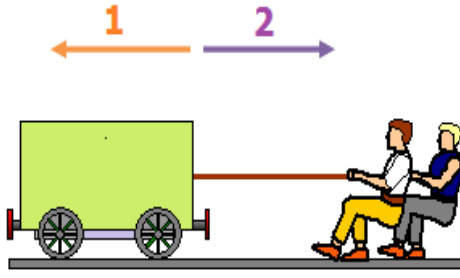
25)



Yukarıdaki görselden çıkarabilecek **ders** aşağıdakilerden hangisidir?

- A) Sigara sadece hayvanlara zarar vermektedir.
 B) Sigara sadece büyük marketlerde satılabilir.
 C) Sigara içindeki maddeler sebebiyle pahalıya satılmaktadır.
 D) Sigaranın içinde birçok zehirli madde bulunmaktadır.

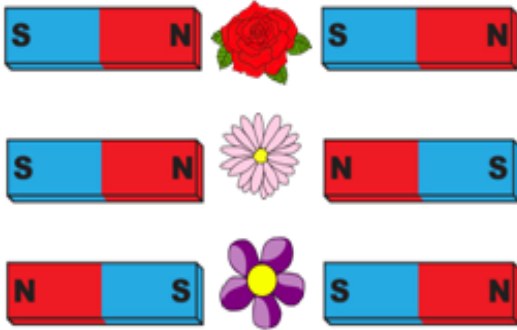
26)



Yukarıdaki vağon **2** yönünde hareket ederken, iki kişi tarafından **2** yönünde **kuvvet** uygulanıyor. Bu durumla ilgili aşağıdakilerden hangisi doğrudur?

- A) Cisim 1 yönünde hızlanan hareket yapar.
- B) Cisim 2 yönünde hızlanma hareketi yapar.
- C) Cisim 2 yönündeki hızını kaybetmeye başlar.
- D) 2 kişinin uyguladığı kuvvet, cisme 2 yönünde hızlanma sağlamaz.

27)



Yukarıdaki üç durumda, **çiçeklerin** bulunduğu aralarda hangi kuvvetler oluşur?



- A) Çekme – İtme – Çekme
- B) İtme – Çekme – Çekme
- C) Çekme – İtme – İtme
- D) İtme – Çekme – İtme

28)



Merve, arkasına sakladığı cisimle alakalı **Uğur'a** 3 adet **ipucu** vermiştir.

- I. Suda batmaz.
- II. Suyu emmez.
- III. Mıknatis onu çekmez.

Buna göre Merve'nin **sakladığı** cisim aşağıdakilerden hangisi olabilir?

- A) çelik bilye
- B) naylon poşet
- C) nikel kaşık
- D) bulaşık süngeri


29)

- Bir cismin içerdiği ölçülebilen büyüklük, madde miktarına**1**..... denir
- Maddenin boşlukta kapladığı yere**2**..... denir.

Yukarıdaki **noktalı** yerlere sırayla aşağıdaki kelimelerden hangileri gelmelidir?

- A) kütle - hacim
- B) dara - sıvı
- C) boşluk - kilo
- D) madde - ağırlık

30)



Yukarıdaki **görselle** ilgili aşağıdakilerden hangisi doğrudur?

- A) Bu etkinlikle cismin hacmi ölçülemez.
- B) Katı maddelerin hacimleri yoktur.
- C) Su seviyesinde değişme olmamıştır.
- D) Su miktarı atılan cismin hacmi kadar yükselmiştir.

31)



Yukarıdaki bebekler **üçüzdür**. Buna göre üçüz kardeşlerin nüfus cüzdanlarıyla alakalı aşağıdaki **bilgilerden** hangisi doğru değildir?

- A) Anne ve baba adları farklı değildir.
- B) Kimlik numaraları farklı değildir.
- C) Doğum yerleri farklı değildir.
- D) Kimlik seri numaraları aynı değildir.

32)

1	1948 yılında dedem doğdu.
2	1951'de babaannem doğdu
3	?
4	1977'de babam doğdu.
5	1986'da annem okula başladı.
6	2009 yılında ben doğdum

Yukarıda **aile tarihiyle** alakalı bilgiler **kronolojik** sıraya konulmuştur. Buna göre 3 numaralı alana aşağıdaki bilgilerden hangisini yazabiliriz?

- A) 2011 yılında kardeşim dünyaya geldi.
- B) 1979'da babam yürümeye başladı.
- C) 1981 yılında halam dünyaya geldi.
- D) 1972'de dedemle babaannem evlendi.

33)



Aşağıdakilerden hangisi, **milli kültürümüzü** yansıtan gelenek ve göreneklerimizden biri değildir?

- A) Doğum günü partisine arkadaş davet edilir ve onlardan hediye beklenir.
- B) Bayramlarda büyükler ziyaret edilir ve elleri öpülür.
- C) Askere gidecek kişiye, akrabaları ve arkadaşları tarafından uğurlama yapılır.
- D) Gelin almaya gidildiğinde kapılar bahşiş alınmadan açılmaz.

34)

Bu oyun, sokakta veya evlerin damlarında, genellikle erkek çocuklar tarafından oynanmıştır. Oyuncular yere çizdikleri dairenin içine oyun aracını koyar ve sırayla **kurşundan** yapılmış oyun aracıyla atış yaparak daire içindekileri dışarı çıkarmaya çalışırlarmış.

Yukarıda kurallarından bir kısmı anlatılan **oyun** aşağıdakilerden hangisidir?

- A) topaç çevirme
- B) dalye
- C) beştaş
- D) aşık oyunu

35)

Aşağıdaki şehirlerden hangisi, düşmana karşı gösterilen **cesaret** ve **yiğitlik** nedeniyle TBMM tarafından unvan verilen şehirlerden değildir?

- A) Urfa
- B) Antep
- C) Adana
- D) Maraş

36) **1890'da** Osmaniye'de doğan kahraman kadınımız, **Fransızlara** karşı kurduğu müfrezesiyle **Milli Mücadele'ye** katıldı. Cesur ve atılgan olması sebebiyle **Tayyar** (uçan) unvanını aldı.



Yukarıda bahsedilen **kahraman Türk kadınımız** aşağıdakilerden hangisidir?

- A) Şerife Bacı B) Nene Hatun
C) Rahmiye Hanım D) Hatice Bacı

37) Öğle vaktinde yere diktığımız çubuğun gölgesi **güneyi** gösterir.

Yüzümüzü kutup yıldızına dönersek sağ kolumuz **batıyı** gösterir.

Müslüman mezarlıklarında mezarın baş kısmı **batıyı** gösterir.

Karınca yuvalarının açık olan ağzı **doğu** yönüne bakar.

Yukarıda **yönler** ile alakalı bilgilerden doğru olana **D**, yanlış olana **Y** yazarsak nasıl bir görüntü oluşur?

- B)

D
D
Y
D

 B)

Y
Y
D
Y

 C)

Y
D
Y
D

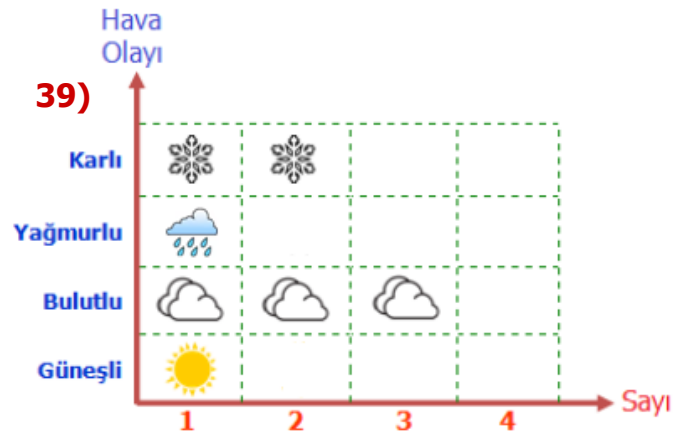
 D)

D
Y
Y
D



Öğretmen, öğrencilerden beşeri unsurlara iki adet örnek vermelerini istemiştir. Buna göre hangi öğrencilerin verdikleri örnekler **tamamen** doğru değildir?

- A) Ufuk – Cem B) Ayşe – Nil
C) Cem – Ayşe D) Nil – Ufuk



Yukarıda bir haftalık **hava durumu** tablosu verilmiştir. Buna göre aşağıdaki bilgilerden hangisi yanlış değildir?

- A) Bulutlu ve yağmurlu gün sayısı aynıdır.
B) Hava üç gün karlı olmuştur.
C) Bir hafta boyunca güneş çıkmamıştır.
D) Bulutlu gün sayısı daha fazladır.

40) Aşağıdakilerden hangisini **deprem çantasına** koymamıza gerek yoktur?

- A) dayanıklı gıda B) iç çamaşırı
C) ıslak mendil D) taze meyve

CEVAP ANAHTARI

TÜRKÇE	MATEMATİK	FEN BİL.	SOSYAL BİL.
1) D	11) A	21) C	31) B
2) A	12) C	22) C	32) D
3) B	13) C	23) C	33) A
4) B	14) B	24) A	34) D
5) C	15) D	25) D	35) C
6) D	16) D	26) B	36) C
7) C	17) C	27) D	37) B
8) A	18) B	28) B	38) A
9) B	19) A	29) A	39) D
10) C	20) D	30) D	40) D