

Bir çiftlikte güzel bir **horoz** yaşamış. **Horoz** her sabah güzel sesiyle öter ve çiftlikteki hayvanları uyandırır. Çiftliğin yakınında bir de **tilki** yaşamış. **Tilki**, horozu yemeyi içinden geçirir. Her sabah **horozun** sesini duyar duymaz yatağından kalkar, **horozun** çıktığı ağacın altına gelir, **horozu** ağaçtan indirmek için uzun süre dil dökermiş.

Bir gün kurnaz **tilki**, **horoz**za:

– “Sesiniz çok güzel. Tüyleriniz pırlı pırlı. Bu dünyada sizin kadar güzel bir hayvan yoktur. Benimle arkadaş olur musunuz?” demiş.

**Tilkinin** davranışlarından rahatsız olan **horoz**, bir kurnazlık düşünmüş:

– “Sizin gibi kurnaz bir arkadaşım olsun isterim. Benim de samimi bir **köpek** arkadaşım var. Onu da aramıza alalım.” demiş.

Kurnaz **tilki**:

– “Hayır, bu işi yarına bırakalım. Bugün benim çok işim var.” deyip oradan uzaklaşmış ve bir daha hiç görülmemiş.

➤ İlk soruyu metne göre cevaplayınız.

1) Yukarıdaki metnin **ana fikri** aşağıdakilerden hangisidir?

- A) Bir şeyin kıymeti, yerinde ve zamanında kullanıldığında anlaşılır.  
B) Karşımızdaki kişiyi hafife almak, bizi zor durumda bırakabilir.  
C) Değer bilmeyenler, iyiliğe kötülükle karşılık verirler.

2)



Yukarıdaki uzay mekiklerinden, üzerinde **zıt anlamlı** kelimeler bulunan mekikler Venüs'e üzerinde **eş anlamlı** kelimeler bulunan mekikler ise Mars'a gidecektir.

Buna göre uzay mekiklerinden kaç tanesi Venüs'e gitmeyecektir?

- A) 4      B) 3      C) 2

3)



eşşek	P
eşek	B
eşşeg	T


paylaço	E
palyanço	A
palyaço	İ

beyenmek	K
beğnmek	S
beğenmek	N

Yukarıda her kelime bir **harf** ile eşleşmiştir. Buna göre görsellerin adlarının **doğru** yazılışları hangi kelimeyi oluşturur?

- A) PEK      B) TAS      C) BİN

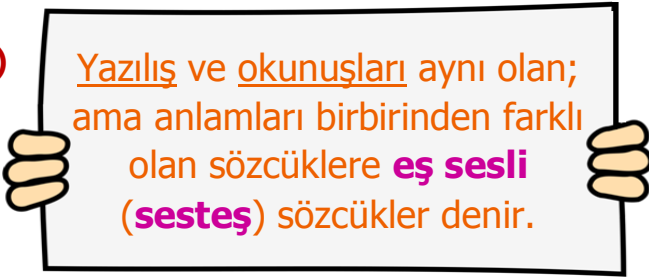
4)



Köpeğin kulübesi, kelimeler sözlük sırasına göre sıralandığında **3. kelimenin** olduğu kulübedir. Buna göre köpeğin kulübesinde hangi **kelime** yazıyor?

- A) ayran B) ayna C) ayrıt

5)



Yukarıdaki **tanıma** göre aşağıdakilerden hangisinin **eş seslisi** yoktur?



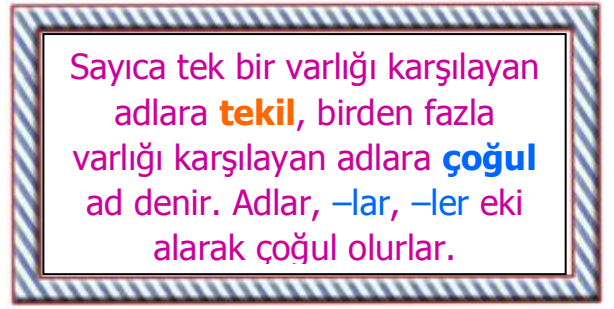
6)

	Eyvah! anahtarı evde unuttum!
	Sen de parka gelecek misin.
	Nereden başlayacağını bilmeli?

Yukarıda her cümle bir **şekille** eşleşmiştir. Buna göre hangi cümlelerde **noktalama işaretleri** doğru kullanılmamıştır?

- A) - - B) - C) -

7)



Yukarıdaki **açıklamaya** göre aşağıdaki şıklardan hangisinde tamamen **çoğul** adlar vardır?

A) eller	B) atlar	C) filler
dolar	kayalar	gözler
cepler	göller	kiler

8) Aşağıdaki sözcüklerden hangisi satır sonunda **yanlış** bölünmemiştir?

A) a-nahtar	B) okul-dakiler	C) rah-atlayıp
-------------	-----------------	----------------


9) Aşağıdaki cümlelerin hangisinde **kesme işareti** yanlış kullanılmamıştır?

- A) Mehmet'ler bugün bize gelecekler.  
B) Onun dünya'sı çok karışıktır.  
C) Başvurular 14 Ocak'a kadar sürecek.

10) Aşağıdaki olayları **oluş sırasına** göre sıralarsak **2. sırada** hangi cümle olur?

- A) Bir süre arkasından tutarak ilerlemesini sağladım.  
B) Desteksiz sürmeyi başarınca çok mutlu oldum.  
C) Kardeşim bisiklet sürmeyi öğrenmek istiyordu.

11)



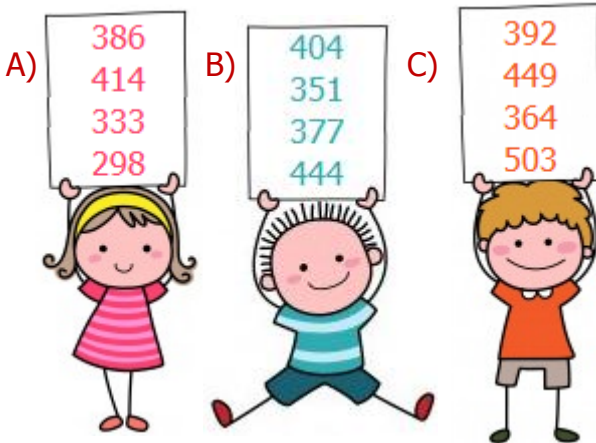
Yukarıdaki rakamlarla oluşturulabilecek, **rakamları farklı**, **üç basamaklı en büyük** sayı ile **üç basamaklı en küçük** sayının farkı kaçtır?

- A) 971      B) 891      C) 881


12)



Aşağıdaki öğrencilerden hangisi, öğretmenin tahtaya yazdığı ödevde **tamamen** doğru cevaplar yazmıştır?




13)



Yukarıdaki **bulutların** içindeki sayıları **küçükten büyüğe** doğru sıraladığımızda, **2.** ve **3.** sıradaki sayıların **toplamı** kaç olur?

- A) 987      B) 941      C) 929

14)



Yukarıdaki papatyada bulunan sayılardan **en küçük çift** sayının, **en yakın onluğuna yuvarlanmış** hali aşağıdakilerden hangisidir?

- A) 110      B) 290      C) 360

15)  $XX - IX = XI$        $V \times III = XIV$

$VII + IV = XII$        $XIX - VII = XI$

Yukarıdaki işlemlerden kaç tanesi doğru değildir?

- A) 2      B) 3      C) 4

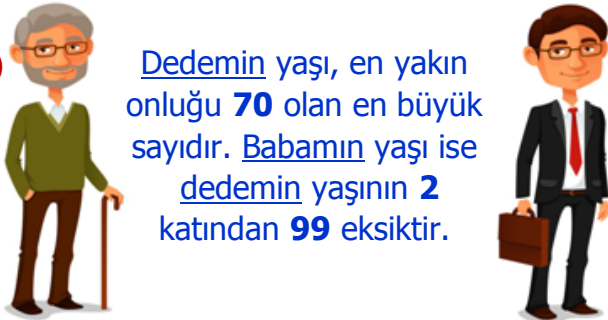
16) 

5	7	3
1	2	R
2	S	4
9	8	3

3	H	2
1	9	T
1	0	5

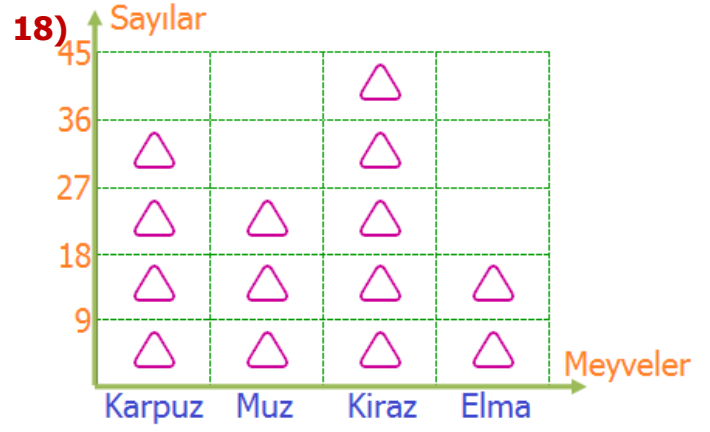
Yukarıdaki toplama ve çıkarma işlemlerinde **verilmeyen** rakamların yerlerine **harfler** konulmuştur. Buna göre bu **harflerden** oluşan **dört basamaklı SRHT** sayısı aşağıdakilerden hangisidir?

- A) 8607      B) 7617      C) 8617

17)  **Dedemin yaşı, en yakın onluğu 70 olan en büyük sayıdır. Babamın yaşı ise dedemin yaşının 2 katından 99 eksiktir.**

Yukarıdaki bilgiye göre dedem ve babamın yaşlarının toplamı kaçtır?

- A) 108      B) 115      C) 123



**Not:** Her şekil 9 kişiyi göstermektedir.

Bir grup öğrenciye yukarıdaki meyvelerden hangisini **en çok sevdikleri** sorulmuştur. **Grafğe** göre aşağıdaki **bilgilerden** hangisi yanlıştır?

- A) En çok sevilen meyve karpuz değildir.  
B) Bu soru 45 öğrenciye sorulmuştur.  
C) Elma ile karpuz sevenlerin farkı 18'dir.



Yukarıda **kilogram fiyatları** olan ürünlerden **8 kg ceviz, 5 kg fındık ve 3 kg fıstık** alan **Derya** kasiyere **1000** lira vermiştir. **Derya'ya** **para üstü** ne kadar verilecektir?

- A) 150 ₺      B) 120 ₺      C) 80 ₺

20) Kalanlı bir **bölme** işleminde **bölen 8**, **kalan 5** ve **bölüm 13** ise **bölünen** sayı kaçtır?

- A) 109      B) 104      C) 101

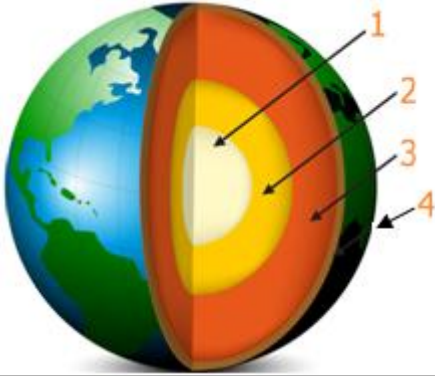
21)



**Magellan'ın** bu düşüncesinin sebebi nedir?

- A) Dünyanın şeklinin küreye benzediğini düşünüyordu.  
 B) Dünya yüzeyinin dörtte üçünü su katmanının oluşturduğunu düşünüyordu.  
 C) Dünya'yı çepeçevre saran bir atmosfer tabakası olduğunu düşünüyordu.

22)



Bu katman deniz ve okyanus diplerinde ince, karaların olduğu bölgelerde daha kalındır.

Yukarıda özelliği verilen tabakanın numarası ve **ismi** hangi şıkta doğru verilmiştir?

- A) 1 – Manto  
 B) 2 – İç çekirdek  
 C) 4 – Yer Kabuğu

23)



Alican gece beşiğinde ağlamaya başladı. Annesi mutfaktan koşarak yanına geldi. Alican'ın vücut sıcaklığını eliyle kontrol etti. Alican hasta olmuştu.

Yukarıdaki olayda hangi **duyu** organından bahsedilmemiştir?

- A) Kulak B) Burun C) Deri

24)

Yüz havlumuz temiz ve kendimize ait olmamalıdır.

Burnumuzun içindeki kılları koparmamalıyız.

Kulak çubuğu ile kulağımızın iç kısmını temizlemeye çalışmalıyız.

Ne olduğunu bilmediğimiz maddelerin tadına bakmamalıyız.

Yukarıdaki cümlelerden **doğru** olanların kutucuklarını boyarsak nasıl bir görüntü oluşur?

- A)

25)

Duvara çivi çakmak	Işığı kapatmak
Daldan elma koparmak	Yerden yükü kaldırmak
Buzdolabının kapağını kapatmak	Topa vurmak

Yukarıdaki ifadelerden kaç tanesi **itme** kuvveti ile ilgili değildir?

- A) 4 B) 3 C) 2

Madde	Pürüzsüz	Pürüzlü
kağıt havlu	✓	
ayna		✓
ceviz		✓
kazak		✓
sünger	✓	

Yukarıdaki tabloda çeşitli maddeler verilmiştir. Tablodaki uygun sütunlara "✓" işareti koyularak bu maddelerin özellikleri belirtilmiştir.

Buna göre yukarıdaki tabloda kaç adet **hata** yapılmıştır?

- A) 3      B) 2      C) 1

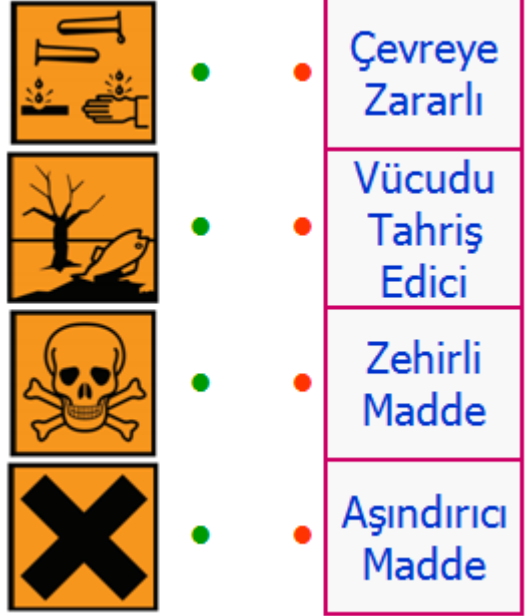
27)



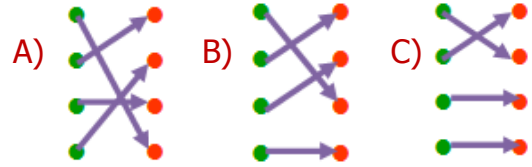
**Fatih'ten**, sert maddelerin yazılı olduğu balonları vurması isteniyor. Buna göre **Fatih**, hangi maddelerin yazılı olduğu balonları vurmamalıdır?

- A) sünger – hamur – mermer  
B) pamuk – sünger – hamur  
C) hamur – demir – taş

28)



Yukarıdaki **görseller** ve **anlamları** eşleştirildiğinde nasıl bir görüntü oluşur?



29)

Biz, insanlar olarak, maddenin üç halinden oluşuyoruz. Kemiklerimiz, dişimiz ve tırnaklarımız .....**1**....., kanımız .....**2**..... ve akciğerlerimizdeki hava ise .....**3**.....

Yukarıdaki açıklamaya göre noktalı yerlere sırayla aşağıdakilerden hangileri gelmelidir?

- 1      2      3  
A) sert - yumuşak - hafif  
B) kırılabilir - akışkan - kokusuz  
C) katı - sıvı - gaz

30)

Aşağıdakilerden hangisi maddenin **gaz** haline örnek olarak verilemez?

- A) su buharı    B) mazot    C) oksijen

31)



Arkadaşları, girdiği sınavdan düşük not alan **Esra** ile dalga geçmektedirler. **Esra** çok üzülmüştür.

Yukarıdaki **durumla** ilgili aşağıdakilerden hangisi yanlış değildir?

- A) Sınavdan düşük not alan kişiler saygısızlığı hak ederler.
- B) Esra kendisi gibi sınavdan düşük not alanlarla arkadaşlık etmelidir.
- C) İyi arkadaşlar, kötü durumlarda bile olumsuz davranış sergilemezler.

32)



Öğretmen, öğrencilerden yaşadıkları evin ve yakın çevresinin krokisini çizmelerini istedi. Fakat **Berkay** kroki ile ilgili öğrendiklerini unutmuştu.

Aşağıdakilerden hangisi **kroki** ile ilgili ona hatırlatacağımız bilgilerden değildir?

- A) Bir yerin kuş bakışı görünüşünün kâğıda çizilmesidir.
- B) Ayrıntıya girilen ölçülü çizimlerdir.
- C) Çizimlerde geometrik şekiller kullanılır.

33)



Yukarıdaki **kötü** davranışlar neticesinde, bu öğrencilere nasıl davranmalıyız?

- A) Hepsini polise şikâyet edip onların tutuklanmalarını sağlamalıyız.
- B) Okul eşyalarını, evimizdeki eşyalar gibi korumamız gerektiğini anlatmalıyız.
- C) Okul müdürü ile konuşup hepsinin okuldan atılmalarını istemeliyiz.

34)

■	Gereksizse kullanalım
♥	Her damla çok önemli
★	Geri dönüşüm mantıklı değil
❖	İhtiyacından fazla kullanma

Aşırı kaynak kullanımını önlemek için okul panosuna yukarıdaki **sloganlardan** hangilerini asabiliriz?

- A) ♥ - ❖ B) ■ - ★ C) ■ - ♥ - ❖

35) Eskiden bez bebeklerle, tahtadan arabalarla oyun oynanırdı. Şimdi ise bilgisayar, tablet ve telefonlarla oynanıyor. Bu farkın sebebi aşağıdakilerden hangisidir?

- A) Eskiden bilgisayarlar çok sevilmiyordu.
- B) Bilgisayar, tablet ve telefon pahalıdır.
- C) Teknolojinin gelişimi oyuncakları da değiştirmiştir.

36)	Bir işte çalışıp aile bütçesine katkı sağlamak çocukların sorumluluğu değildir.	
	Evdeki işler iş birliği içerisinde yapılırsa zamandan tasarruf edilmiş olunur.	
	Evde bütün işlerin anne tarafından yapılması, evin düzenli olmasını sağlar.	
	Çocukların evdeki tek sorumluluğu ödevlerini özenerek yapmaktır.	

Yukarıda cümlelerden doğru olana **D**, yanlış olana **Y** yazarsak nasıl bir görüntü oluşur?

A)	<b>D</b>	B)	<b>D</b>	C)	<b>D</b>
	<b>D</b>		<b>Y</b>		<b>D</b>
	<b>Y</b>		<b>Y</b>		<b>Y</b>
	<b>D</b>		<b>D</b>		<b>Y</b>

	<b>Eylül</b>	<b>Ekim</b>	<b>Kasım</b>
<b>Elektrik</b>	150 ₺	130 ₺	160 ₺
<b>Su</b>	75 ₺	85 ₺	60 ₺

Yukarıda bir ailenin kullandıkları kaynaklara ait **fatura** tablosu verilmiştir.

Buna göre aşağıdaki **cümlelerden** hangisi doğru değildir?

- A) En fazla elektrik faturası kasım ayında gelmiştir.
- B) Bu aile ekim ayında sudan tasarruf etmiştir.
- C) Dikkatli ve bilinçli kaynak kullanımı fatura miktarını azaltır.

38)



**Gamze**, planlı ve zamanı etkin kullanan başarılı bir öğrencidir.

Buna göre **Gamze** ile ilgili aşağıdaki cümlelerden hangisi yanlış değildir?

- A) Planlı olmak yaşantısının düzenli ve olumlu olmasını sağlar.
- B) Planlı olmak başarısını ve özgüvenini azaltmıştır.
- C) Zamanı etkin kullanması sebebiyle arkadaşlarına zaman ayıramaz.

39)

Duş almak	Saçları taramak	Tırnakları kesmek
Ders çalışmak	Oyun oynamak	Dişleri fırçalamak

Yukarıdakilerden kaç tanesi **kişisel bakıma** örnek olarak verilebilir?

- A) 4
- B) 3
- C) 2

40)

Sağlığımızı korumak için mevsiminde yetiştirilen **meyve** ve **sebzeleri** yemeliyiz.

Aşağıdaki şıklardan hangisinde kışın yetişen **meyve** ve **sebzeler** vardır?

A)	Salatalık	B)	Portakal	C)	Mandalina
	İncir		Pırasa		Patlıcan
	İspanak		Havuç		Kiraz



# CEVAP ANAHTARI

TÜRKÇE	MATEMATİK	FEN BİL.	HAYAT BİL.
1) B	11) C	21) A	31) C
2) B	12) B	22) C	32) B
3) C	13) A	23) B	33) B
4) A	14) C	24) C	34) A
5) C	15) B	25) C	35) C
6) A	16) A	26) A	36) C
7) B	17) C	27) B	37) B
8) B	18) B	28) A	38) A
9) C	19) B	29) C	39) A
10) A	20) A	30) B	40) B