

Bir zamanlar, sevimli bir köyde yoksul bir **köylü** yaşamış. Bu köylünün bir tavuğu varmış. **Köylü**, bu tavuğu çok severmiş. Tavuk da ona her gün bir yumurta yaparmış. Yumurtalar altındanmış. **Köylü** her gün kümeden aldığı altın yumurtayı şehre götürür, kuyumcudada satarmış.

Yoksul **köylü** giderek zenginleşmeye başlamış. Lüks içinde yaşamaya alıştığında bir süre sonra para yetersiz gelmeye başlamış. Zamanla tavuğun karnında bir hazine sakladığına inanmaya başlamış. Eğer tavuğun karnını açarsa bu hazineye ulaşacağını, ömrü boyunca krallar gibi yaşayacağını düşünüyormuş.

Açgözlü **köylü**, bir sabah kümese girmiş. Tavuğu yakalamış ve acele ile karnını açmış, merakla içine bakmış, bir de ne görsün? Tavuğun karnında ne altın var, ne de hazine. Açgözlülük yaptığı ancak o zaman aklına gelmiş.

➤ İlk soruyu metne göre cevaplayınız.

1) Aşağıdaki cümlelerden hangisi **metinden** çıkaracağımız **derslerden** değildir?

- A) Elindeki imkânın değerini bilmeyen insanlar, bir gün imkânlarını kaybederler.
- B) Ne kadar zorluk yaşarsak yaşayalım, her zaman olumlu düşünmemeliyiz.
- C) İnsanların hırsı ve açgözlülüğü, mutlu olmamalarının sebebidir.

2)



Karanfil



Menekşe



Kasımpatı



Mete amcasına **arıların** yukarıdaki üç çiçekten hangisini daha çok sevdiğini sordu. **Amcası**, ona "Sözlük sırasına göre ikinci çiçeği severler." dedi. Buna göre arılar hangi **çiçeği** daha çok seviyormuş?

- A) Menekşe B) Karanfil C) Kasımpatı

3)



Samsun'dan yola çıkan otobüste Trabzon'da ve Rize'de inecek yolcular vardır. Valizlerin karışmaması için Rize'de inecek yolcuların valizlerine **eş anlamlı** sözcükler yazılmıştır.

Buna göre kaç yolcu **Trabzon'da** inecektir?

- A) 4 B) 3 C) 2

4) ❖	Kedimin adını minnoş koydum.
●	Ahmet Bey henüz aramadı.
■	Hanife İstanbul'dan dönmüş.
★	Bizim japon bir komşumuz var.

Her biri bir simge ile eşleştirilen cümlelerden hangilerinde **büyük harf** kullanımında hata yapılmamıştır?

- A) ● - ■ B) ★ - ❖ C) ❖ - ●



Fare, yukarıdaki peynirlerden, üstünde doğru hecelenmiş kelimeler olan peynirleri yiyecektir. Buna göre **fare** kaç peyniri yemeyecektir?


- A) 4 B) 3 C) 2



Aşağıdaki cümlelerden hangisinde parantez içine, yukarıdaki **noktalama** işaretlerinden biri gelmeyecektir?

- A) Nasıl başlayacağımı bilmiyorum ()
 B) Eyvah () yine geç kalacağım!
 C) Yarın bize gelecek misiniz ()

7) Aşağıdaki öğrencilerden hangisinin yazdığı kelimelerde bir **yanlışlık** yoktur?



8) Aşağıdaki cümlelerin hangisinin başına konuşma çizgisi konulamaz?

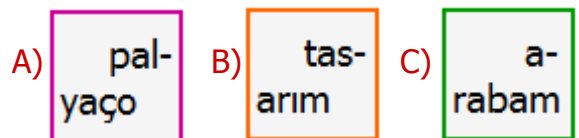
- A) Kalk oğlum, elini ve yüzünü yıka.
 B) Bana mı, kimden geldi acaba?
 C) Şaşkınlığı bitince şöyle cevap vermiş:

9) Bu topraklar üstünde. Benim yuvam her bucak. Vatanımdan bir parça, Şehir veya köy, bucak...	Doğudaki bir yerin, Batımızdan farkı ne? Ha güneyde Adana, Ha kuzeyde Edirne
İ.Hakkı TALAS	

Yukarıdaki şiirin **ana duygusu** nedir?

- A) Anne özlemi
 B) Yurt sevgisi
 C) Bayram coşkusu

10) Aşağıdaki sözcüklerden hangisi satır sonunda **yanlış** bölünmemiştir?



11)

1 birlik + 3 onluk



4 onluk + 2 birlik




5 onluk



Yukarıda her sayı bir hayvan ile eşleşmiştir. Buna göre bu sayılardan **en küçüğü** aşağıdakilerden hangisidir?

- A) B) C)

12)



Yukarıdaki **karpuz dilimleriyle** alakalı aşağıdaki bilgilerden hangisi yanlış değildir?

- A) Bir düzineden 8 tane fazladır.
B) İki desteden 5 tane azdır.
C) Bir desteden 9 fazladır.

13)



81

72

63



?

Yukarıdaki örüntü kuralına göre **soru işareti** olan yere hangi sayı yazılacaktır?

- A) 27 B) 18 C) 9

14)

En yakın onluğu 80 olan en küçük sayı ile en yakın onluğu 50 olan en büyük sayının farkı kaçtır?

- A) 30 B) 21 C) 19

15)

6 yıl sonra 55 yaşında olacağım.

7 yıl önce 39 yaşındaydım.



Yukarıda konuşan iki kişinin şimdiki yaşları toplamı kaçtır?

- A) 94 B) 95 C) 96

16)

3	6
2	★
6	1

■	♥
1	8
2	4

Yukarıdaki toplama işlemlerinde verilmeyen toplananların yerine yazılan şekillerden oluşan iki basamaklı ♥★ sayısının en yakın onluğu aşağıdakilerden hangisidir?

- A) 50 B) 40 C) 30

17)



Soğuk havalarda kullanmak için **eldiven** ve **atki** almak isteyen Demet'in **56** lirası vardır. Buna göre Demet'in kaç liraya daha ihtiyacı vardır?

- A) 18 ₺ B) 20 ₺ C) 22 ₺

18)



Balonlarda yazan **rakamları** kullanarak oluşturacağımız rakamları farklı, 2 basamaklı en büyük sayı ile 2 basamaklı en küçük sayının farkı kaçtır?

- A) 66 B) 64 C) 63

19)



Yukarıdaki tencere **9 kâse** çorba almaktadır. İftar daveti için yapılan **4 tencere** çorbanın **28 kâsesi** gelen davetliler tarafından içilmiştir.

Buna göre geriye içilmemiş kaç **kâse** çorba kalmıştır?

- A) 9 kâse B) 8 kâse C) 7 kâse

20) Dikdörtgen Prizma



Silindir



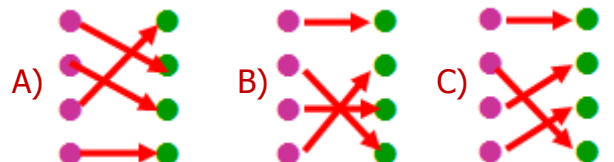
Küp



Küre



Yukarıdaki geometrik cisimler ile nesneleri eşleştirirsek nasıl bir **görüntü** oluşur?



21)




Giyisi dolabını düzenleyen **Ayşe**, geçen sene alınan giysilerin ona olmadığını fark etti.

Yukarıdaki durumun sebebi aşağıdakilerden hangisidir?

- A) Kıyafetler uzun süre giyilmeyince kılma yapar.
- B) Gözündeki problem neticesinde yanlış anlamış olabilir.
- C) Büyüdükçe bazı fiziksel özellikleri değişmiştir.

22)



2/A sınıfı öğrencileri sınıf başkanlarını seçmek için seçim yapıyorlar.

Buna göre aşağıdaki ifadelerden hangisi **yanlış** değildir?

- A) İstemediğimiz adayın seçilmesi halinde yeniden oylama talep edebiliriz.
- B) Farklı fikirlere saygılı olmalı ve kazananı tebrik etmeliyiz.
- C) Bizimle farklı fikirde olan arkadaşlarımızla iyi geçinemeyiz.

23)

Harçlığımdan kumbarama ayırmamam gerekir.	İhtiyaç fazlası ürün almak beni mutlu ediyor.
İsteklerim ihtiyaçlarımdan önce gelmez.	Cips ve kola almadan duramam.

Yukarıdaki tabloda yazılı ifadelerden kaç tanesi **bilinçli** öğrenci ifadesi değildir?

- A) 3
- B) 2
- C) 1

24)

Babamızın annesine anneanne deriz.	
Annemizin kız kardeşine hala deriz.	
Amcamızın eşine yenge deriz.	
Teyzemizin çocuklarına yeğen deriz.	





Yukarıdaki bilgilerden doğru olana **D**, yanlış olana **Y** yazarsak nasıl bir görüntü oluşur?

- A)

D
Y
Y
D
- B)

Y
D
Y
D
- C)

Y
Y
D
Y

- 25)  Adres bilgilerimizi tanımadığımız insanlara söyleyebiliriz.
-  Bize yardım etmek isteyen polise adresimizi söyleyebiliriz.
-  Adres bilgisinde binamızın kat sayısı ve kardeş bilgilerimiz bulunmalıdır.
-  Bina ve kapı numaraları adres bilgisinde bulunabilir.

Yukarıdaki cümlelerden hangileri **yanlış** değildir?

- A)  -  B)  -  C)  - 

26)



Annemiz evimizdeki birçok işin sorumluluğunu üstlenir.

Buna göre aşağıdaki ifadelerden hangisi **doğru** değildir?

- A) Çocuklar evde sorumluluklarını yerine getirmelidir.
- B) Aile huzuru ve mutluluğu ev içinde yardımlaşma ile artar.
- C) Çocukların evdeki tek sorumluluğu derslerine çalışmaktır.
- 27) Evdeki kaynakları tutumlu kullanmak isteyen biri **aşağıdakilerden** hangisini yapabilir?
- A) Dişlerimizi fırçalarken suyu kapatmalıyız.
- B) Bulaşık makinesini boşken çalıştırmalıyız.
- C) Fişleri prizden hiç çıkarmamalıyız.

28)



Arif, günlük yapacağı işleri önceden planlayan başarılı bir öğrencidir.

Buna göre **Arif** ile ilgili aşağıdakilerden hangisini söyleyemeyiz?

- A) Zamanı doğru kullanmamaktadır.
- B) Planlı olması özgüvenini artırır.
- C) İşlerini öncelik sırasına koyar.

29)

Yemek sırasında sık sık ağızımızı peçete ile silmeliyiz.

Yemekte ağızımızı şapırdatmalıyız.

Başkasına ait tabak ve kaşığı kullanmalıyız.

Sofranın kurulmasına yardım etmeliyiz.

Yemek yemeye sofradakilerle birlikte başlamalıyız.

Görgü kurallarıyla alakalı yukarıdaki cümlelerden kaç tanesi yanlış değildir?

- A) 4 B) 3 C) 2

30) Aşağıdaki öğle yemeği **listelerinden** hangisi dengeli beslenmeye örnektir?

- A)  B)  C) 

CEVAP ANAHTARI

TÜRKÇE

- 1) B
- 2) C
- 3) C
- 4) A
- 5) A
- 6) B
- 7) C
- 8) C
- 9) B
- 10) A

MATEMATİK

- 11) A
- 12) C
- 13) B
- 14) B
- 15) B
- 16) C
- 17) A
- 18) C
- 19) B
- 20) C

HAYAT BİL.

- 21) C
- 22) B
- 23) A
- 24) C
- 25) B
- 26) C
- 27) A
- 28) A
- 29) B
- 30) C