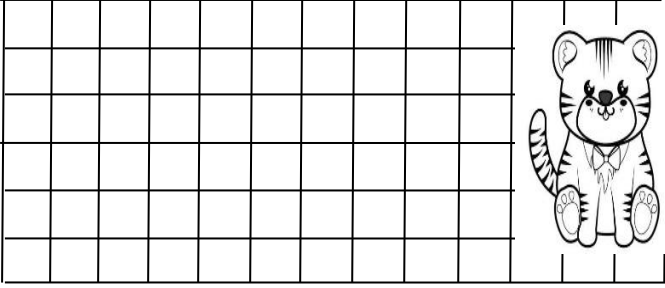



## TOPLAMA İŞLEMİ PROBLEMLER

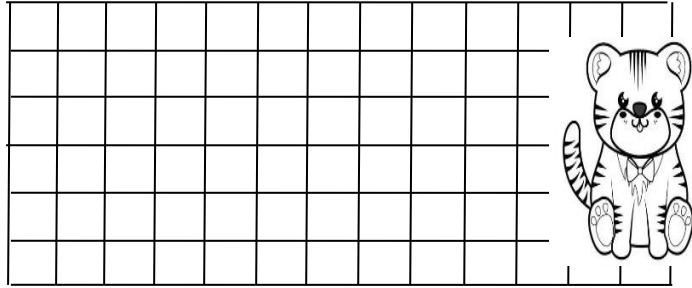
1. Hale kümesten geçen hafta 9 bu hafta 5 yumurta toplamış. Hale iki haftada toplam kaç tane yumurta toplamıştır?



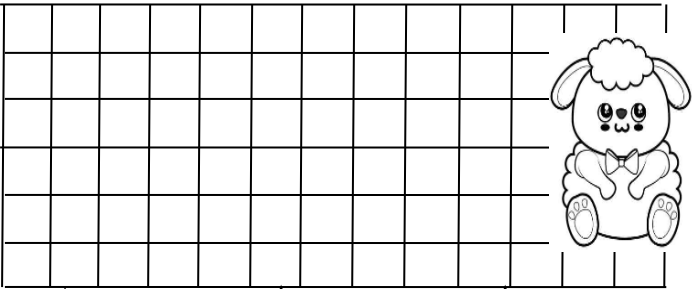
2. Koray dün 10 sayfa, bugün 7 sayfa kitap okumuş. Koray iki günde toplam kaç sayfa kitap okumuştur?




3. Kutuda 14 tane yeşil, 6 tane mavi top var. Kutuda toplam kaç tane top vardır?




4. Ozan aldığı kitabın birine 10 lira , diğerine 5 lira ödedi. Ozan iki kitaba toplam kaç lira ödedi?




5. Kemal bahçeden önce 12 elma, sonra 4 elma toplamış. Kemal toplam kaç tane elma toplamış?




6. Ela'nın 6 tane sarı, 4 tane kırmızı boncuğu var. Ela'nın toplam kaç tane boncuğu var ?



7. Bağıımızda 12 tane ağaç vardı. Babam 7 tane daha dikti. Bağıımızda toplam kaç tane ağaç oldu ?



8. Ali 7 liraya defter , 4 liraya kalem almış. Ali toplam kaç lira harcamıştır?



Doğru

cevap

bulunan

yıldızları

boyayalım.

9

19

16

13

15

18

17

10

12

11

14

21

20