



Adı Soyadı :





Numarası :

Çalışma Kağıdı 1

Konu: Geometrik Şekiller

Kazanım: Geometrik şekilleri kenar ve köşe sayılarına göre sınıflandırarak adlandırır.

Geometrik şekillerin adlarını yazalım.

			
<input type="text"/>	<input type="text"/>	<input type="text"/>	<input type="text"/>

Tablodaki noktalı yerleri doldurunuz.


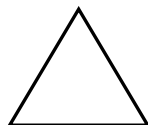
Geometrik şekil	Adı	Köşe sayısı	Kenar sayısı
			
			
			
			

Kutularda özellikleri belirtilen geometrik şekilleri eşleştirelim.

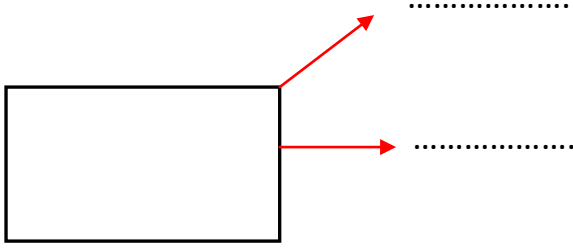
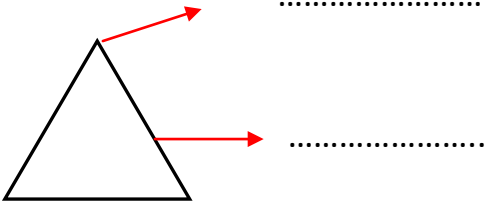
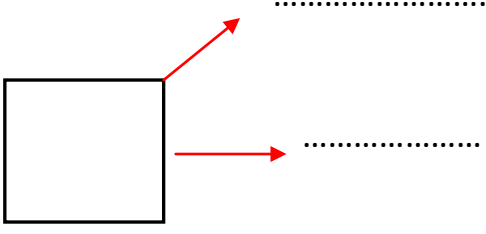
Kenarım yok.

Dört eşit kenarım var.

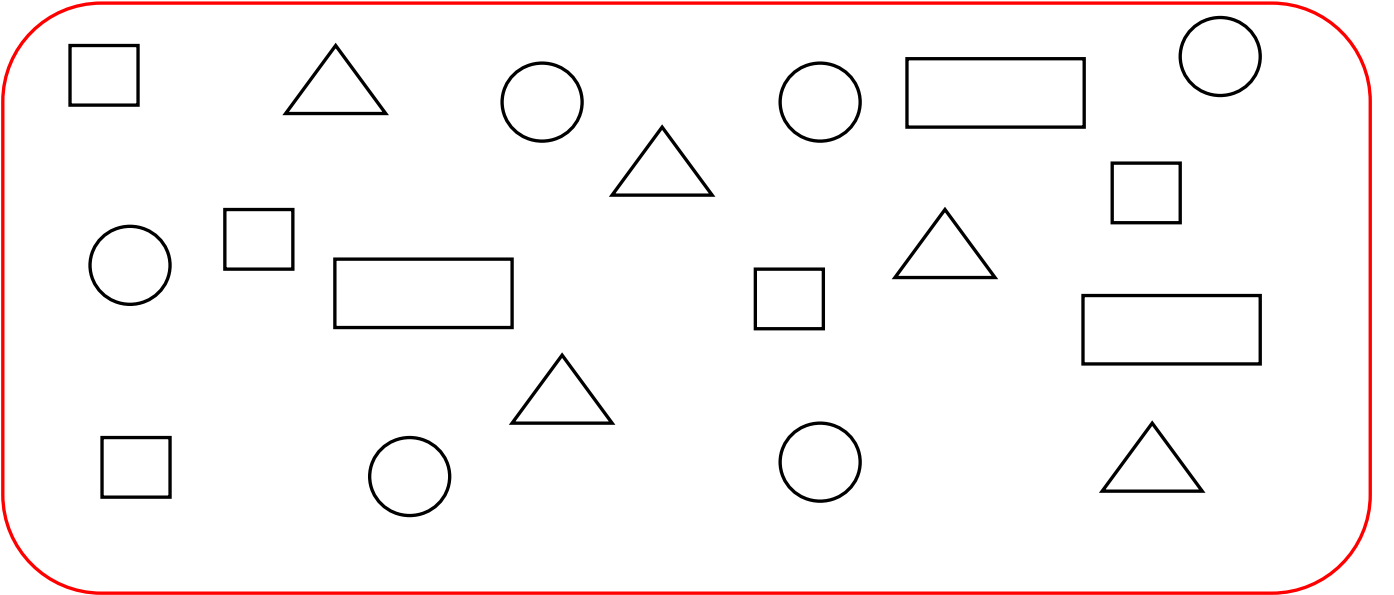
Üç kenarım var.

Dört kenarım var.
Birbirine eşit iki uzun iki kısa kenarım var.

Aşağıdaki geometrik şekillerin oklarla gösterilen yerlerine adlarını yazınız.




Aşağıdaki tablonun içinde kaç tane geometrik şekil olduğunu bulup şekillerin karşısına yazınız.



□ : ○ : ▭ : △ :

Aşağıdaki resimde üçgenleri yeşile, çemberleri sarıya, dikdörtgenleri kahverengine, kareleri maviye boyayınız.. Geometrik şekillerin sayılarını yazınız.



Kare:

Üçgen:

Çember:

Dikdörtgen: