

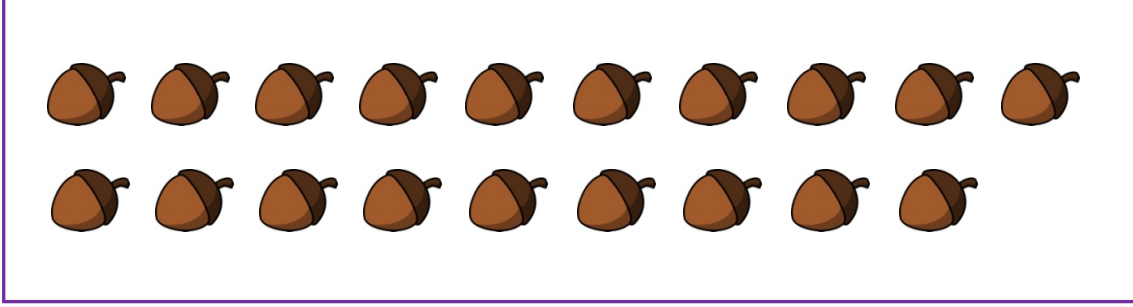


Adı Soyadı :

Numarası :

Konu: Onluk ve Birlik Değerlendirme

1) Aşağıdaki kutuda belirtilen fındık sayısı kaçtır?



A) 20

B) 19

C) 18

2) Aşağıdakilerden hangisinin onluk ve birlikleri yanlış yazılmıştır?

A) $18 = 1$ onluk 8 birlik

B) $13 = 1$ birlik 3 onluk

C) $26 = 2$ onluk 6 birlik

3) Aşağıdaki sayıların okunuşlarından hangisi doğrudur?

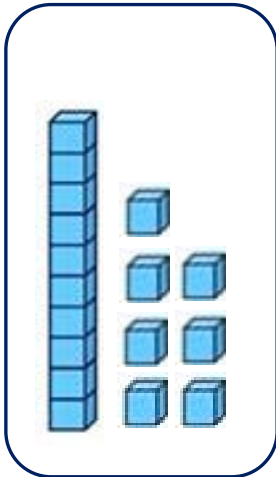
A) 12: On iki

B) 16: On beş

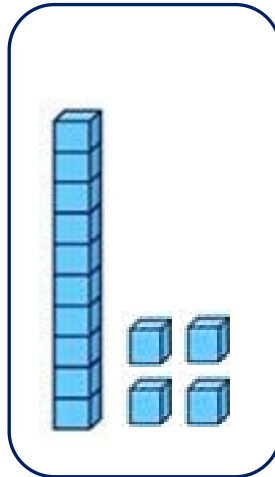
C) 18: on dokuz

4) Aşağıdaki modellerden hangisi "on altı" sayısını göstermektedir?

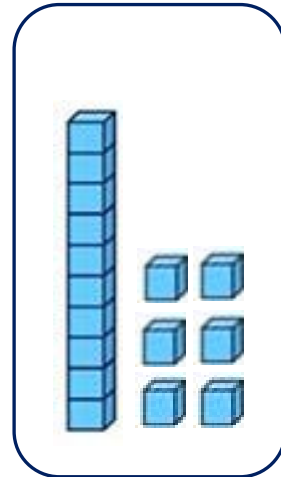
A)




B)



C)



5) Elmaları gruplandırırız kaç onluk, kaç birlik oluşur?











- A) 1 onluk 8 birlik
B) 1 onluk 5 birlik
C) 1 onluk 7 birlik

6) 1 onluk ve 9 birlikten oluşan sayıya 1 birlik daha eklersek oluşan yeni sayının okunuşu hangisi olur?

- A) On sekiz B) Yirmi C) On altı

7) Aşağıdaki tabloda verilenlere göre  ve  yerine hangi sayılar gelmelidir?

- A)  =2  =2
B)  =2  =0
C)  =2  =1

onluk	birlik
	

20

8) Aşağıdaki sayıların okunuşlarını yazınız.

17:.....

11:.....

19:.....

9:.....

18:.....

14:.....

9) Aşağıda okunuşları verilen sayıları rakamla yazınız.

On dört =

Yirmi =

On altı =

On dokuz =.....

On bir =

On =