



Adı Soyadı :

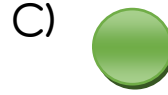
Numarası :

Konu: Örüntüyü Oluşturalım


Aşağıda verilen örüntülerde boşluklara, kurala uygun olan şekilleri işaretleyiniz.



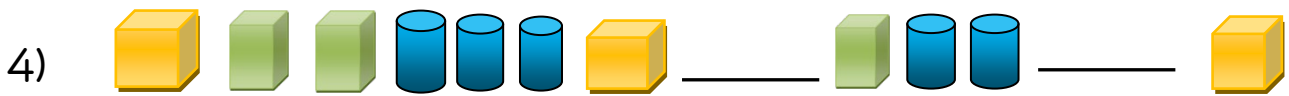
1) Yukarıdaki örüntüde boş bırakılan yere hangisi gelmelidir?



Yukarıdaki örüntüde boş bırakılan yere hangisi gelmelidir?




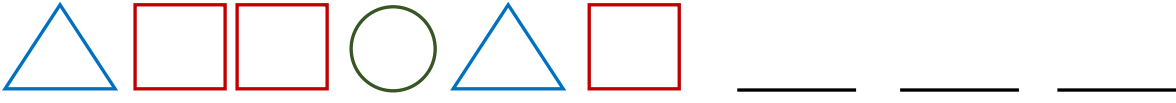
Yukarıdaki örüntüde boş bırakılan yerlere hangileri gelmelidir?




Yukarıdaki örüntüde boş bırakılan yerlere hangileri gelmelidir?



5) Aşağıdaki örüntünün kuralını belirleyip kurala göre devam ettiriniz.



Yukarıdaki örüntüde boş bırakılan yerlere hangileri gelmelidir?



Yukarıdaki örüntüde boş bırakılan yere hangileri gelmelidir?

