

MATEMATİK

1. SINIF



Adı Soyadı :

Numarası :

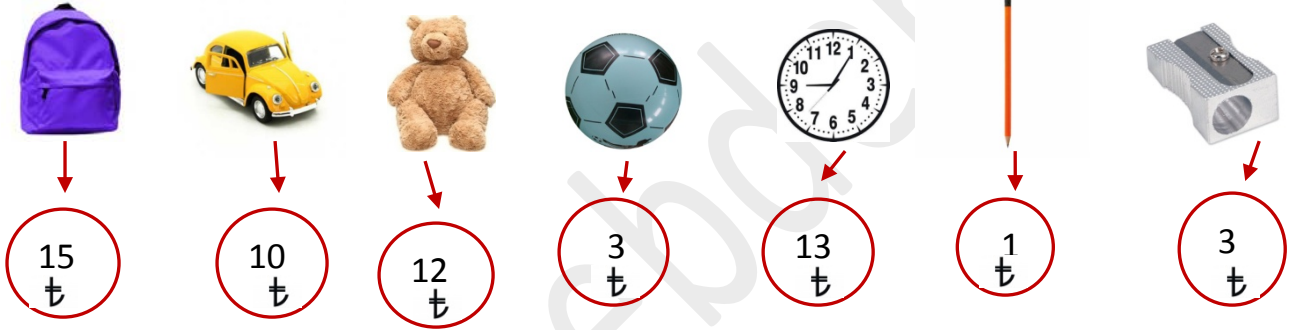
Çalışma Kağıdı2

Konu: Paralarımızı Tanıyalım

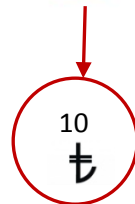
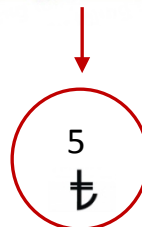
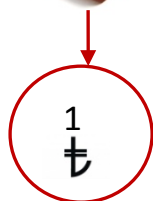
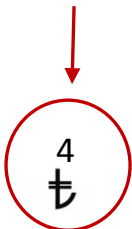
Kazanım: Paralarımızı Tanır



1) Aşağıdaki nesnelere 18 lira ile alabileceğimizi daire içine alalım.



2) Aşağıdaki paraların tamamı ile hangisini alabiliriz.



3) Aşağıdaki paralardan hangisi fazladır?

A)



B)



C)



4) Aşağıdaki para tutarlarından hangisinin değeri en fazladır?


A) 50 kr

B) 5 kr

C) 4 ₺

5) Aşağıdakilerden hangisi 1 ₺ ye eşittir.

A)



B)



C)



6) Aşağıdaki para miktarı hangi seçenekte doğru verilmiştir?



A) 36 ₺

B) 39 ₺

C) 37 ₺

