

1)



1. Adım

2. Adım

3. Adım

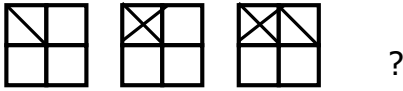
Yukarıdaki örüntüde 5. Adımdaki üçgen sayısı 3. Adımdaki üçgen sayısından kaç tane fazladır ?

A) 2

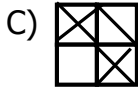
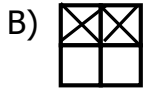
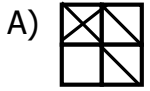
B) 3

C) 4

2)



Yukarıdaki örüntüde aşağıdaki şekillerden hangisi gelmelidir ?



3) Aşağıdakilerden hangisi bir örüntü **oluştur-**
maz ?



4)



Yukarıdaki örüntüde soru işareti yerine hangi şekil gelmelidir ?



5)



DADİDADİDADİDADİ

Aşağıdaki örüntülerden hangisi ambulansın siren sesindeki örüntüyle aynı kurala sahiptir ?

A) + = + - + = + - + = + -

B) ☆ ☆ ☆ ☆ ☆ ☆ ☆ ☆ ☆ ☆

C) ✂ ✂ ✂ ✂ ✂ ✂ ✂ ✂ ✂ ✂

6)



Yukarıdaki örüntüde kuralı bozan şekil aşağıdakilerden hangisidir ?

A) 😊

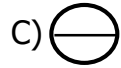
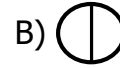
B) ★

C) ♥

7)



Yukarıdaki örüntüde soru işareti yerine aşağıdakilerden hangisi gelmelidir ?



8)



Yukarıdaki örüntünün kuralıyla aynı kurala sahip örüntü hangisidir ?

A) A A B C C A A B C C

B) 📖 📖 📖 📖 ✂ 📖 📖 📖 ✂

C) ♥ ♡ ♡ ♡ ♥ ♡ ♡ ♡