

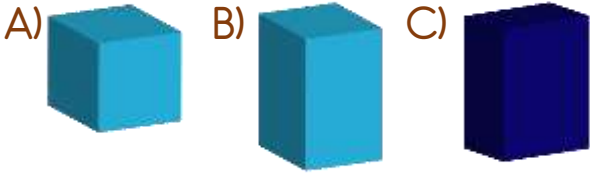
1)



Yukarıdaki geometrik cisimlerin isimleri sırası ile hangi seçenekte verilmiştir?

- A) Kare - Silindir - Üçgen Prizma
 B) Küp - Silindir - Üçgen Prizma
 C) Küre - Daire - Üçgen

2) Aşağıdakilerden hangisi dikdörtgen prizmadır?



3) Aşağıdakilerden hangisinin şekli üçgen prizmaya benzer?



4) Aşağıdakilerden hangisi bir geometrik cisme benzememektedir?




5) Yandaki futbol topu hangi geometrik cisme benzemektedir?



- A) Küp B) Küre C) Silindir

6) Aşağıdaki geometrik cisimlerden hangisi ile hem dikdörtgen hem de kare çizilebilir?





7) Yandaki geometrik cisim ile hangi şekil çizilemez?



- A) Kare
 B) Üçgen
 C) Dikdörtgen

8) Aşağıdaki eşleştirmelerden hangisi yanlıştır?

- A)  → Silindir
 B)  → Küre
 C)  → Üçgen Prizma

9) Aşağıdaki geometrik cisimlerden hangisi ile geometrik bir şekil çizilemez?



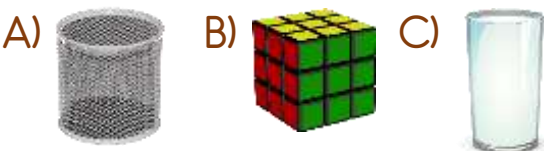
10) Aşağıdakilerden hangisinin şekli kare prizmaya benzemektedir?



11) Aşağıdaki varlıklardan hangisi farklı bir geometrik cisme benzemektedir?



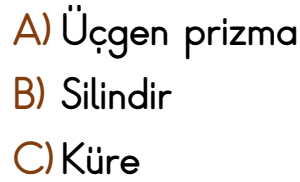
Fatih, istediği geometrik şekli çizmek için hangisini kullanamaz?



13) Aşağıdaki varlıklardan hangisi yandaki kitap ile aynı geometrik cisme benzemektedir?



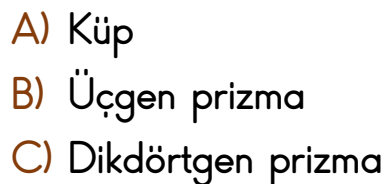
14) Yandaki kuyuda hangi geometrik cisme benzer bir yapı bulunmaktadır?



15) Aşağıdaki pastalardan hangisinin şekli farklı bir geometrik cisme benzemektedir?



16) Aşağıdakilerden hangisi ile dikdörtgen şekli çizilemez?



Cevap Anahtarı

1-B 2-C 3-A 4-C 5-B 6-A 7-A 8-B 9-C 10-C 11-B 12-B 13-A 14-C 15-B 16-A