



YAZIM YANLIŞLARI

⚙️ Aşağıda yanlış yazılan kelimelerin doğrusunu yazalım.

ayile

.....



ahçı

.....

bir çok

.....

dakka

.....

deyil

.....

ciyer

.....

şarz

.....



espiri

.....

hergün

.....

karnıbahar

.....

dinazor

.....

eşki

.....

sinama

.....

kiprik

.....

palyanço

.....



miğde

.....

malesef

.....

yalnış

.....

süpriz

.....

herkez

.....

pantolon

.....



kirbit

.....

satlık

.....

aferim

.....



EŞ ANLAMLI KELİMELER

☀ Aşağıda verilen altı çizili kelimeleri eş anlamlılarıyla eşleyelim.

1 Bu kurs sana çok yararlı olmuş.

2 Çocuk akıllı bir şekilde parkta oynuyor.

3 Pelin görevini çok iyi yapmış.

4 Pazarcı yirmi tane karpuz satmış.

5 Binadaki duyuru panosunun camı kırılmış.

6 Başarılı olmak için gösterdiğin gayret yeterli değil.

7 Üç sene önce Antalya'ya gitmiştik.

8 Taner koştuğu için hızlı nefes alıp veriyordu.

9 Bu kitap benim için çok değerli.






KIRMIZI YANDI DUR !

 Aşağıdaki trafik işaretlerini isimleriyle eşleştirelim.

- | | |
|---|------------------------------|
| 1 | Döner kavşak |
| 2 | Yaya geçidi |
| 3 | Kontrolsüz demir yolu geçidi |
| 4 | Okul geçidi |
| 5 | Park yeri |
| 6 | Yaya giremez |
| 7 | Işıklı trafik işaret cihazı |



- | | |
|----|--------------------|
| 8 | Mecburi yaya yolu |
| 9 | Dikkat |
| 10 | Bisiklet giremez |
| 11 | Dur |
| 12 | Trafiğe kapalı yol |
| 13 | Traktör giremez |
| 14 | U Dönüşü yapılmaz |



...



...



...



...



...



...



...



...



...



...



...



...



...





...





SES HER YÖNDE YAYILIR


☀ Aşağıdaki resimlerdeki varlıkları çıkardıkları sesleri şiddeti yönünden yüksekte düşüğe doğru numaralandıralım .


















☀ Resmi inceleyerek boş bırakılan yerleri uygun kelimelerle dolduralım.

Ayşe

Ozan

uzak

uzaklıkla

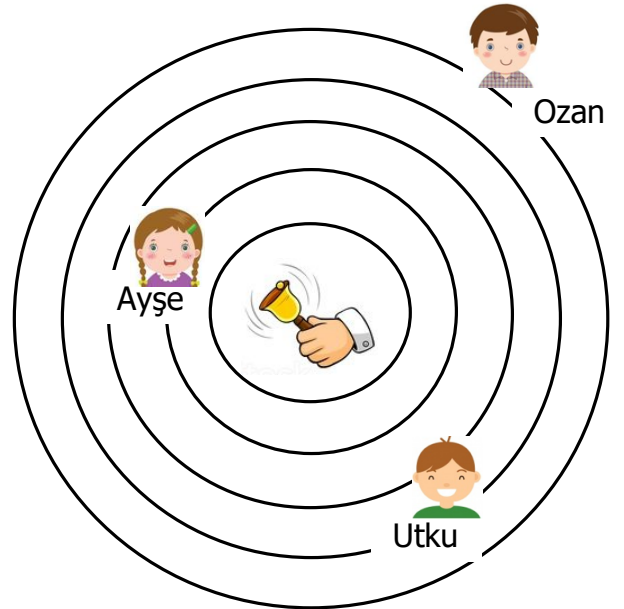
Utku

düşük

artar

azalır

1. Ses kaynağına yaklaştıkça sesin şiddeti
2. Zilin sesini en şiddetli duyar.
3. Zilin sesini en az duyar.
4. zilin sesini Ozan'dan fazla duyar.
5. Ayşe zilden uzaklaştıkça sesin şiddeti
6. Ses kaynağından olanlar sesi az duyar .
7. Duyulan sesin ses kaynağına olan uzaklıkla ilgilidir .
8. İnsanlar çok şiddetteki sesleri duyamazlar .





BÖLME İŞLEMİ PROBLEMLER

1. Manavda 8 kg portakal 40 liradır. 3 kg portakal ile 1 kg muz alındığına göre, 1 kg muz kaç liradır ?

Çözüm:



2. Otobüsteki 46 yolcunun yarısı bayandır. Durakta 9 bayan yolcu indiğine göre kaç bayan yolcu kalmıştır ?

Çözüm:



3. Bir bakkal 1 00 kg toz şekerin 28 kg'ını satmış. Geri kalanını ise 4 kg'lık poşetlere koymuş. Kaç poşet şeker olmuştur ?

Çözüm:



4. Bir sınıftaki öğrenciler 3'erli oturlarsa 10 sıraya ihtiyaç duyulmaktadır. Buna göre öğrenciler 2'şerli oturlarsa kaç tane sıraya ihtiyaç duyulur?

Çözüm:



5. Bir bisikletli 3 saatte 24 kilometre yol gitmektedir. Her saatte eşit miktarda yol gittiğine göre 7 saatte kaç kilometre yol gider?

Çözüm:



6. Hale 150 liranın 66 lirasına ayakkabı almış. Kalan parasına ise fiyatları aynı olan 6 tane kitap almış. Bir kitabın fiyatı kaç liradır ?

Çözüm:






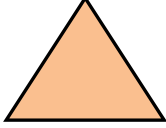
KESİRLER



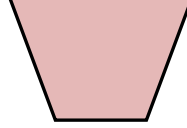
Aşağıdaki şekillerdeki boyalı alan için "bütün , yarım , çeyrek" kelimelerinden uygun olanını altına yazınız.



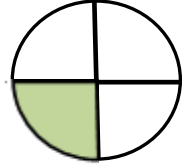
.....



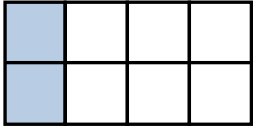
.....



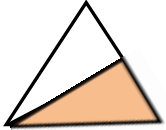
.....



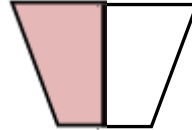
.....




.....



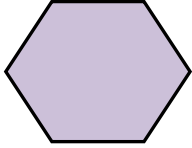
.....



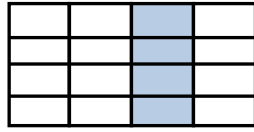
.....



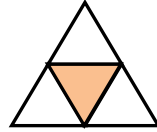
.....



.....



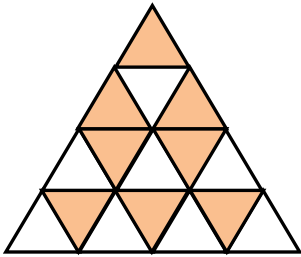
.....



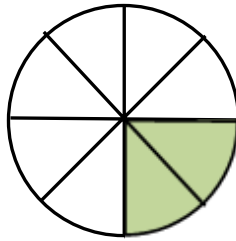
.....



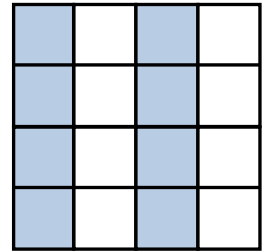
.....



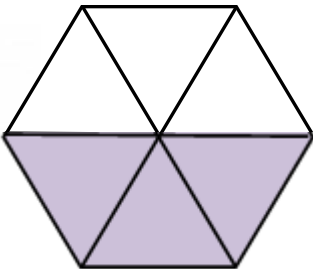
.....



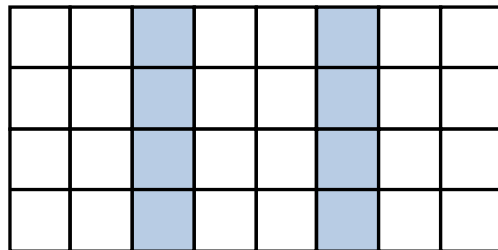
.....



.....



.....



.....

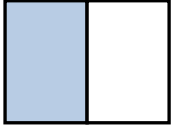




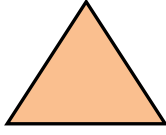
KESİRLER



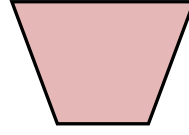
Aşağıdaki şekillerdeki boyalı alanları kesir sayılarıyla ifade edelim.



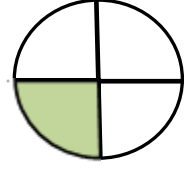
.....
.....



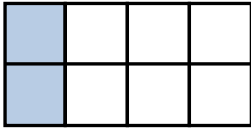
.....
.....



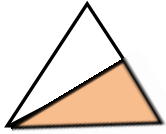
.....
.....



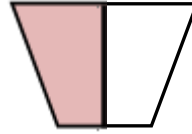
.....
.....




.....
.....



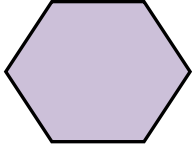
.....
.....



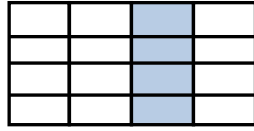
.....
.....



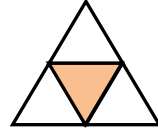
.....
.....



.....
.....



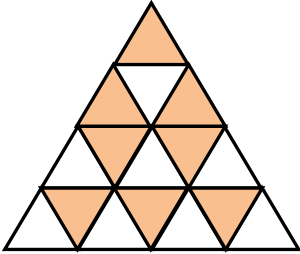
.....
.....



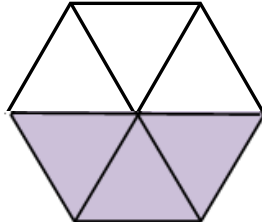
.....
.....



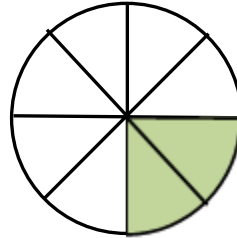
.....
.....



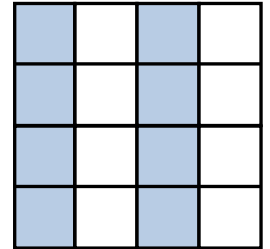
.....
.....



.....
.....



.....
.....



.....
.....



Aşağıda verilen kesir sayılarının yanına "bütün , yarım , çeyrek" kelimelerinden uygun olanını yazalım.

$$\frac{1}{4} \rightarrow \dots\dots\dots$$



$$\frac{3}{6} \rightarrow \dots\dots\dots$$



$$\frac{1}{1} \rightarrow \dots\dots\dots$$

$$\frac{2}{4} \rightarrow \dots\dots\dots$$

$$\frac{2}{8} \rightarrow \dots\dots\dots$$

$$\frac{5}{10} \rightarrow \dots\dots\dots$$