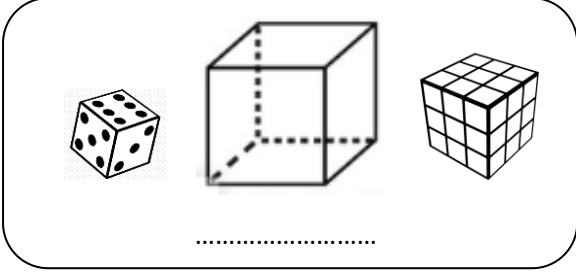
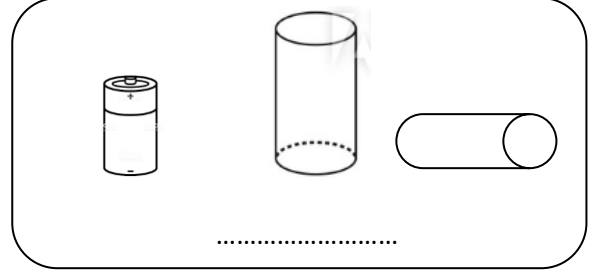


## GEOMETRİK CİSİMLER

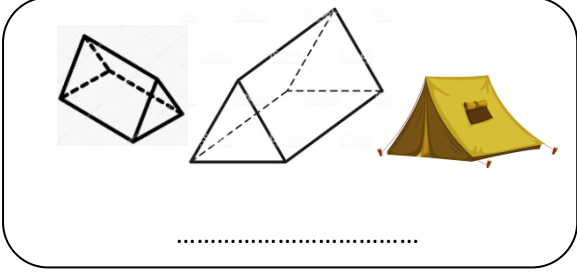
1.Etkinlik: Aşağıda verilen geometrik cisimlerin isimlerini yazınız. Cümlelerde boş bırakılan yerleri uygun şekilde doldurunuz.



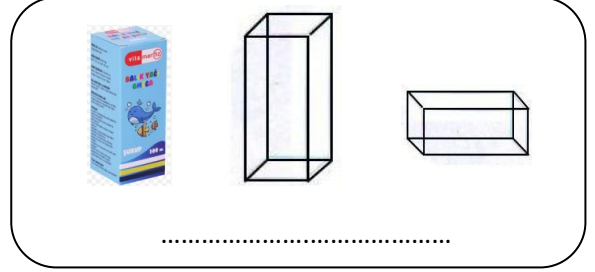
..... tane yüzü vardır. Yüzlerin hepsi de .....dir. .... tane köşesi vardır.



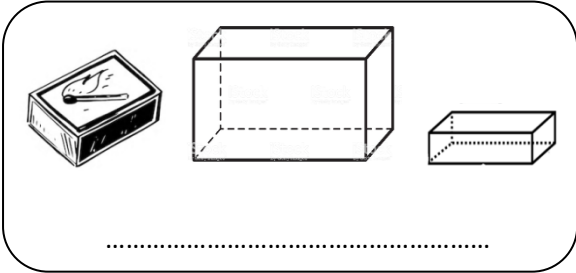
..... tane yüzü vardır. Yüzlerin 2 tanesi ..... , ..... tanesi dikdörtgendir. .... yoktur.



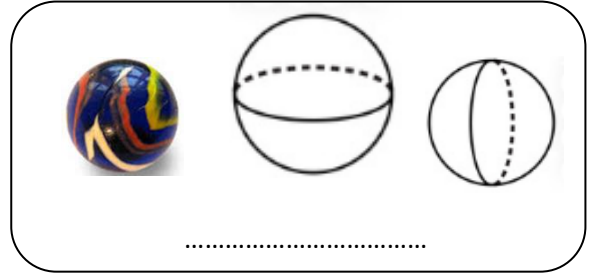
..... tane yüzü vardır. Yüzlerin 2 tanesi ..... , ..... tanesi dikdörtgendir. .... tane köşesi vardır.



..... tane yüzü vardır. Yüzlerin 2 tanesi ..... , ..... tanesi dikdörtgendir. .... tane köşesi vardır.



..... tane yüzü vardır. Yüzlerin hepsi .....dir. .... tane köşesi vardır.



..... tane yüzü vardır. .... yoktur.

