



KURALLI CÜMLE OLUŞTURALIM

* Verilen cümleleri kurallı cümle şeklinde yazalım .

* Suna süt içer yatmadan önce.

*

* Babam bahçede çalışıyor iki gündür.

*

* Dün akşam gittik köye.

*

* Fatma zamanında yapar ödevlerini.

*

* Annem balkonda yıkadı halıları.

*

* Erdem evde unutmuş kitabını.

*

* Köpek sokakta kovalıyor kedi.

*

* Gaye çok seviyor Maviş'i.

*



BEN TUTUMLU ÇOCUĞUM



Ben tutumlu çocuğum.
Bana öğretti anam.
Ben tutumlu çocuğum.
Fazla para harcamam.

Budur tutum usulü,
Koşmalı yerlilere.
Yurdun yerli ürünü
Yakışmalı herkese.

Her gün bilgi atarız,
Kafamız kumbaradır.
Yarın bilgi satarız,
Bu bilgiler paradır.

Bugün derse çalışan,
Sonra para kazanır.
Çalışmaya alışan,
Yarınını kazanır.

Sağlıksız pis olanın,
İyi olmaz yarası.
Böyle başta olanın,
Yoktur ilaç parası.

Sağlıklı, sağlam olmak,
Tutumluluk demektir.
Tutumlu çocuk olmak,
Vatanını sevmektir.



Aşağıdaki soruları metne uygun bir şekilde cevaplayınız.

1. Çocuğa tutumlu olmayı kim öğretmiş ?

.....

2. Bilgiler nasıl para haline geliyor ?

.....

3. Kimler yarınını kazanıyor ?

.....

4. Tutumlu çocuk neyi sever ?

.....

5. Şaire göre tutumluluk ne demektir ?

.....

6. Kim fazla para harcamaz?

.....

7. Kimlerin yarası iyi olmaz ?

.....

YEMEKTE GÖRGÜ KURALLARI

1. Etkinlik: Aşağıdaki cümlelerden doğru olanlar için "D" nin altındaki harfi , yanlış olanlar için "Y" nin altındaki harfi seçerek şifreyi bulalım.

1. Tabağıma yiyeceğimden fazla yemek alırım.

2. Ağızımızda yemek varken konuşmamalıyız.

3. Ağızımıza lokmaları küçük almalıyız .

4. Başkasının tabağından yiyebiliriz.

5. Sevdiğimiz ve istediğimiz yemekleri yemeliyiz.

6. Yemekten sonra dişlerimizi fırçalamalıyız.

7. Yemek yerken kaşık, çatal ve bıçak kullanmalıyız.

8. Sofraya herkes oturmadan yemeğe başlayabiliriz.

9. Ekmeği bölerek yemeliyiz.

10. Başkasının kaşığı kullanabiliriz.

11. Yemek yerken peçete kullanmalıyız.

D	Y
E	A
F	D
İ	Ü
K	Y
O	E
T	S
O	A
N	L
S	B
E	U
N	T

ŞİFRE

1	2	3	4	5	6	7	8	9	10	11

2. Etkinlik: Resimlerde görülen sofrta görgü kurallarına uymayan davranışları altlarına yazalım.



.....

.....

.....



.....

.....

.....



.....

.....

.....



.....

.....

.....




.....

.....

.....

GEOMETRİK CİSİMLER

1. Etkinlik: Aşağıdaki varlıkların adını benzediği geometrik cismin listesine yazınız .




KÜP

1.)

2.)

3.)





SİLİNDİR

1.)

2.)

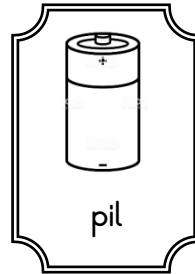
3.)



DİKDÖRTGEN PRİZMA

1.)

2.)



KARE PRİZMA

1.)

2.)

ÜÇGEN PRİZMA

1.)

2.)

KÜRE

1.)

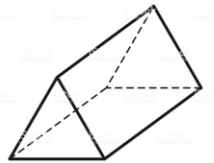
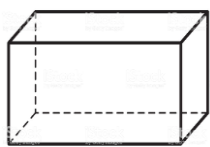
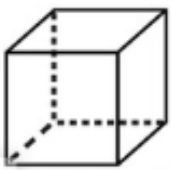
2.)

KONİ

1.)

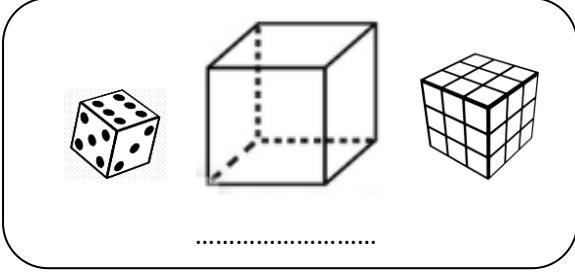
2.)

2. Etkinlik: Kare prizmayı sarıya , üçgen prizmayı pembeyle , küpü kırmızıya , koniyi yeşile , silindiri maviye , dikdörtgen prizmayı turuncuya , küreyi kahverengiye boyayalım.

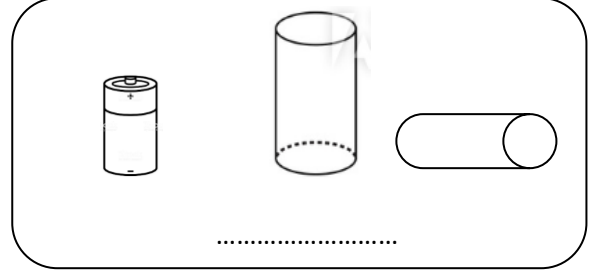


GEOMETRİK CİSİMLER

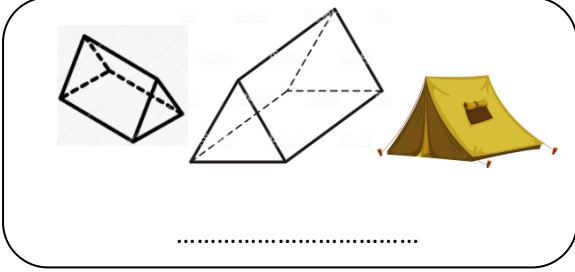
1.Etkinlik: Aşağıda verilen geometrik cisimlerin isimlerini yazınız. Cümlelerde boş bırakılan yerleri uygun şekilde doldurunuz.



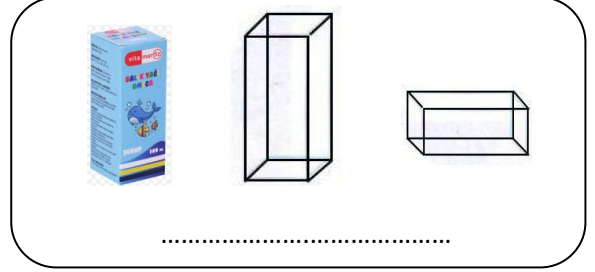
..... tane yüzü vardır. Yüzlerin hepsi dedir. tane köşesi vardır.



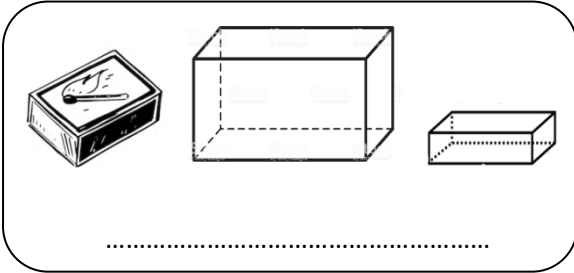
..... tane yüzü vardır. Yüzlerin 2 tanesi , tanesi dikdörtgendir. yoktur.



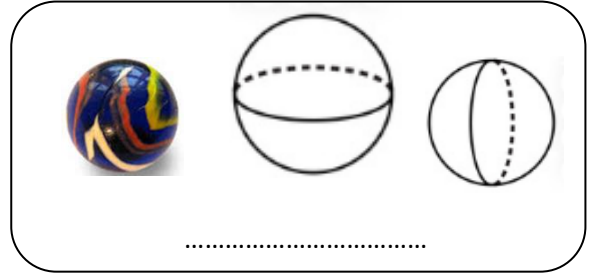
..... tane yüzü vardır. Yüzlerin 2 tanesi , tanesi dikdörtgendir. tane köşesi vardır.





..... tane yüzü vardır. Yüzlerin 2 tanesi , tanesi dikdörtgendir. tane köşesi vardır.



..... tane yüzü vardır. Yüzlerin hepsidir. tane köşesi vardır.



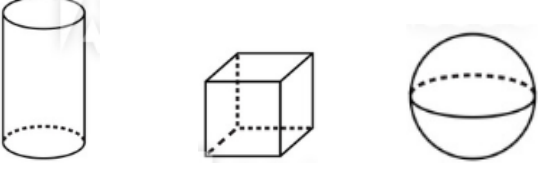
..... tane yüzü vardır. yoktur.



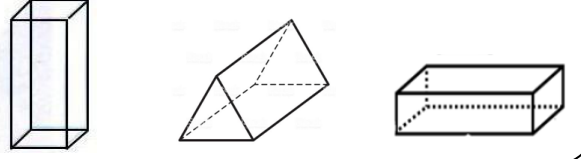
GEOMETRİK CİSİMLER

1.Etkinlik: Soruları cevaplayınız . Doğru cevabı boyayınız.

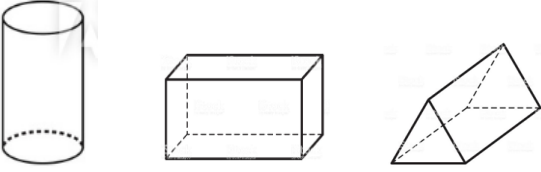
Hangisinin yüzü eğri değildir?



Hangisinin 2 yüzü karedir?



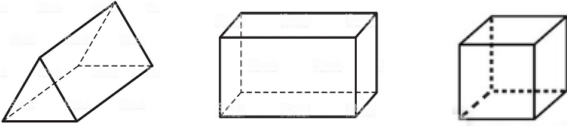
Hangisinin yüzüyle üçgen çizilebilir?



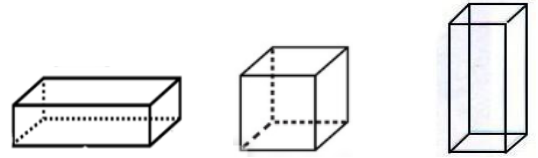
Hangisinin yüzünde 1 tane dikdörtgen vardır?



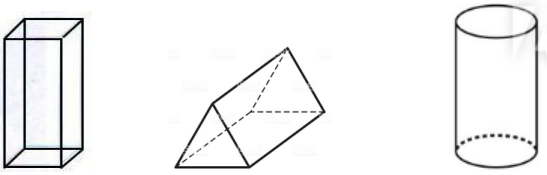
Hangisinin köşe sayısı diğerlerinden azdır?



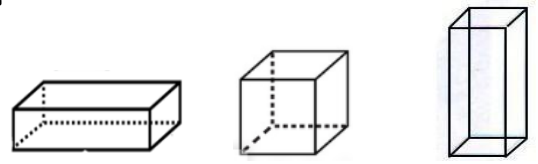
Hangisinin tüm yüzleri karedir?



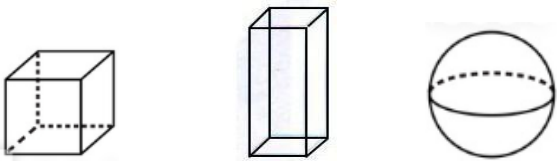
Hangisinin yüzü ile çember çizilebilir?



Hangisinin yüzlerinden biri ile kare çizilemez?



Hangisinde 1 yüz vardır?



Hangisinin yüzlerinden biri ile dikdörtgen çizilemez?

