

MEVSİMLER

Bir yılda dört mevsim var,
En güzeli ilkbahar.

Çok sıcak mevsimdir yaz,
Meyvesi eksik olmaz.



Sonbahara güz derler,
Sarılar bütün yerler.



Kış soğuktur, yağar kar,
Bir yılda dört mevsim var.

Ali Osman ATAK

(İlk 5 soruyu metne göre cevaplayınız.)

1) Şiirin ilk dördlüğünden hangi sonuca ulaşamaz?

- A) Bir yılda dört mevsim vardır.
- B) En güzel mevsim ilkbahardır.
- C) İlkbaharın meyvesi eksik olmaz.

2) Hangisi kış mevsiminin özelliklerinden biri değildir?

- A) Kar yağar.
- B) Kışa güz de denir.
- C) Soğuk olur.

3) Metin ile ilgili verilen bilgilerden hangisi yanlıştır?

- A) Metnin türü şiidir.
- B) Şiir iki dizeden oluşmuştur.
- C) Şairi Ali Osman ATAK'tır.

4) Şiirde geçen hangi sözcüğün zıt anlamlısı yoktur?

- A) Var
- B) Sıcak
- C) Mevsim

5) Şiirde geçen sözcüklerden hangisi eş anlamlısı ile yanlış eşleştirilmiştir?

- A) Meyve - Sebze
- B) Sonbahar - Güz
- C) Yıl - Sene

6)

meyve

sene

mevsim

Yukarıdaki sözcükler hangi seçenekte sözlük sırasına göre sıralanmıştır?

- A) mevsim-meyve-sene
- B) meyve-mevsim-sene
- C) sene-mevsim-meyve

7) Aşağıdaki sözcüklerden hangisinin sesli harf sayısı farklıdır?

- A) Öğrenci
- B) Öğretmen
- C) Müdür

8) Aşağıdaki geometrik cisimlerden hangisi küptür?

- A)  B)  C) 

9) Yandaki geometrik cisim ile hangi şekil çizilemez?



- A) Kare B) Üçgen C) Dikdörtgen

10) Aşağıdakilerden hangisi ile geometrik bir şekil çizilemez?

- A)  B)  C) 

11) Aşağıdakilerden hangisinin şekli küreye benzemektedir?

- A) Kalem B) Misket C) Tekerlek



(12-15. soruları görsele göre cevaplayınız.)

12) Çocuk 3 kutu sola gittiğinde hangisine ulaşır?

- A) Balon B) Düdük C) Çanta

13) Çocuk 1 kutu sağa, 1 kutu yukarı gittiğinde hangisine ulaşır?

- A) Araba B) Davul C) Saat

14) Çocuk hangisini yaparsa miskete ulaşamaz?

- A) 1 kutu sola, 2 kutu aşağı
- B) 2 kutu aşağı, 1 kutu sola
- C) 1 kutu sola, 1 kutu aşağı


15) Çocuk 1 kutu aşağı, 2 kutu sola, 3 kutu yukarı gittiğinde hangisine ulaşır?

- A) Kalem B) Makas C) Silgi

- 16) Doktor bey sizi muayene etmeden önce ateşinizi ölçüp yaş, boy ve kilo gibi bilgilerinizi not alacağım.

...?...

Yukarıdaki soru işaretinin yerine hangi görsel gelmelidir?



17)




Yukarıdaki kurumlardan kaç tanesi sağlığımız için hizmet veren kurumlardandır?

- A) 2 B) 3 C) 4

- 18) Aşağıdaki ifadelerden hangisi doğrudur?


- A) Reçetemizi eczacı yazar.
B) İlaçlarımızı hastaneden alırsınız.
C) Hastalandığımız zaman bizi doktor muayene eder.

- 19) Aşağıdaki meyvelerden hangisi ilkbahar mevsiminde yetişir?



- 20) Kestane • Yaz
Vişne • İlkbahar
Erik • Sonbahar
Ayva • Kış

Yukarıdaki meyve-mevsim eşleştirmesi hangi seçenekte doğru bir şekilde yapılmıştır?



Cevap Anahtarı

1-C 2-B 3-B 4-C 5-A 6-A 7-C 8-A 9-B 10-C 11-B 12-A 13-B 14-C 15-C 16-C
17-B 18-C 19-B 20-A