




Yukarıdaki paraların toplam miktarı çarpma işlemi ile nasıl ifade edilebilir?

- A) 4×5 B) $4 + 5$ C) $5 + 5$

2) $3+3+3+3+3+3=?$ Yanda verilen toplama işleminin çarpma işlemi şeklinde ifade edilışı hangi seçenekte doğru verilmiştir?




- A) $6+3=9$
B) $3 \times 3=9$
C) $6 \times 3=18$




Yukarıdaki kirazların sayısını gösteren ifade aşağıdakilerden hangisidir?

- A) $4+4$
B) 4×2
C) 4×4

4) $4 \times 3=?$ işleminin şekil ile ifadesi hangi seçenekte doğru olarak verilmiştir?

- A) 
B) 
C) 



Civcivlerin toplam ayak sayısını bulmak için hangi ifadeyi kullanmalıyız?

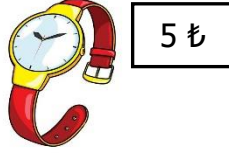
- A) $5 + 2 = 7$
B) $5 \times 2 = 10$
C) $5 + 5 = 10$

6) $2 \times 4 = \blacksquare$
 $1 \times 5 = \blacktriangle$


Yandaki işleme göre $\blacksquare + \blacktriangle$ işleminin sonucu kaçtır?

- A) 13
B) 12
C) 10

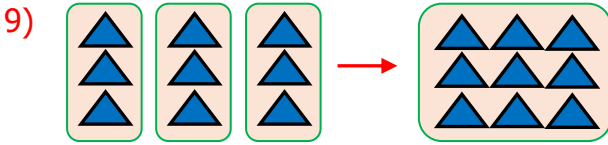
7) Yandaki saatten 5 tane alan birisi kaç ₺ ödemelidir?



- A) 15 B) 20 C) 25

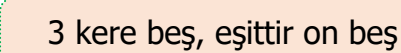
8)  Hangi renk kutudaki işlemin sonucu 1'dir?

- A)  B)  C) 



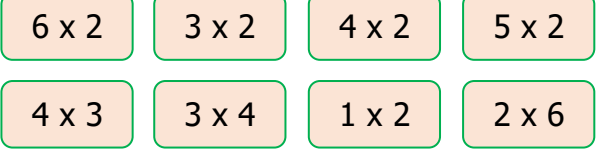
Yukarıda modellenen işlem hangi seçenekte doğru verilmiştir?

- A) 3+3 B) 3 x 3 C) 3+9

10) 

Yukarıdaki ifadenin çarpma işlemindeki yazılışı aşağıdakiilerden hangisidir?

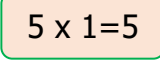
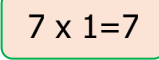
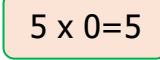
- A) 3+3+3+3+3=15
B) 5+5+5=15
C) 3 x 5=15

11) 

Yukarıdaki çarpma işlemlerinden kaç tanesinin sonucu 12'dir?

- A) 4 B) 5 C) 6

12) Aşağıdaki işlemlerden hangisinin sonucu yanlıştır?

- A)  B)  C) 

13) Bir deste kalemin 3 katının 5 eksiği kaç kalem eder?

- A) 20 B) 25 C) 35

14) Her gün 2 bardak süt içen Şule, bir haftada kaç bardak süt içmiş olur?

- A) 14 B) 10 C) 7

15)

X	6	2	5
2	12	4	A
3	B	6	15
4	C	7	20

 Yanda verilen çarpma işlemlerine göre A,B,C yerine hangi sayılar yazılmalıdır?

- A) (A=24),(B=18),(C=10)
B) (A=18),(B=10),(C=24)
C) (A=10),(B=18),(C=24)