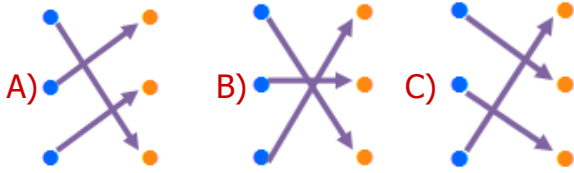


1)

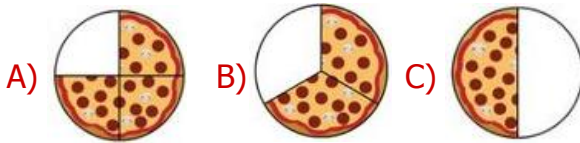
Bir varlığın tamamı	•	•	YARIM
Bir bütünün 4 eş parçasından biri	•	•	ÇEYREK
Bir bütünün 2 eş parçasından biri	•	•	BÜTÜN

Yukarıdaki tanımlarla kelimeler eşleştirilirse ortaya nasıl bir **görüntü** çıkar?

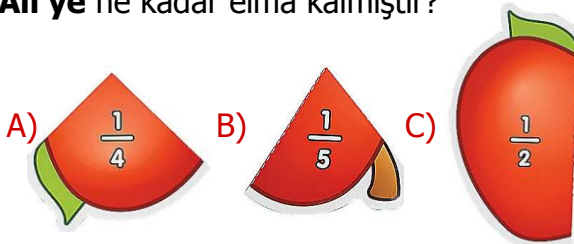


2) Ahmet annesinin yaptığı pizzanın çeyreğini yemiştir.

Buna göre geri kalan pizzanın **görüntüsü** aşağıdakilerden hangisidir?



3) Elmasının yarısını arkadaşı ile paylaşan **Ali'ye** ne kadar elma kalmıştır?



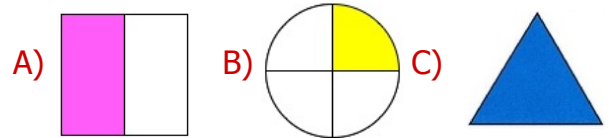
4)

	→	Dörtte bir
	→	Birde iki
	→	İkide bir

Boyalı alanların ifade ettiği kesirlerin okunuşlarından kaç tanesi doğru değildir?

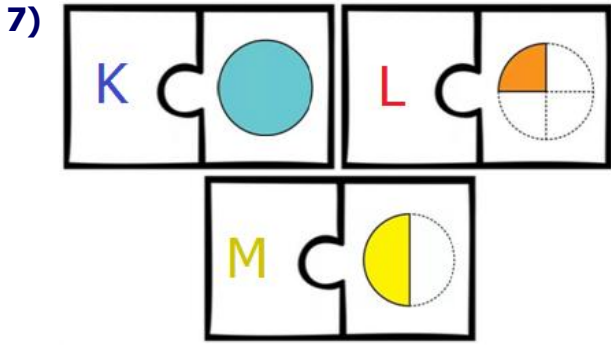
- A) 3 B) 1 C) 2

5) $\frac{1}{2}$ Solda, **pay** ve **paydası** verilen kesri aşağıdaki şekillerden hangisi ifade eder?



6) Yandaki **pasta** ile ilgili aşağıdaki ifadelerden hangisi doğru değildir?

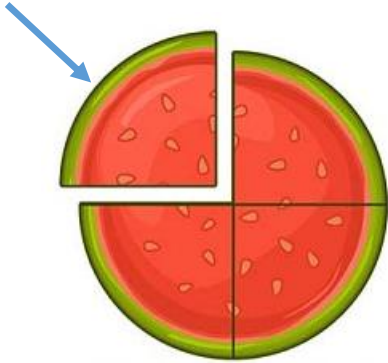
- A) Pastanın çeyreği yenmiştir.
B) Geriye 2 çeyrek pasta kalmıştır.
C) Çeyrek pasta daha yenirse geriye yarım pasta kalır.



Yukarıdaki şekillerin boyalı alanlarını ifade eden **kesirler** yerine harfler yazılmıştır. Buna göre aşağıdakilerden hangisi doğrudur?

	<u>M</u>	<u>L</u>	<u>K</u>
A)	$\frac{1}{2}$	$\frac{1}{1}$	$\frac{1}{4}$
B)	$\frac{1}{2}$	$\frac{1}{4}$	$\frac{1}{1}$
C)	$\frac{1}{1}$	$\frac{1}{4}$	$\frac{1}{2}$

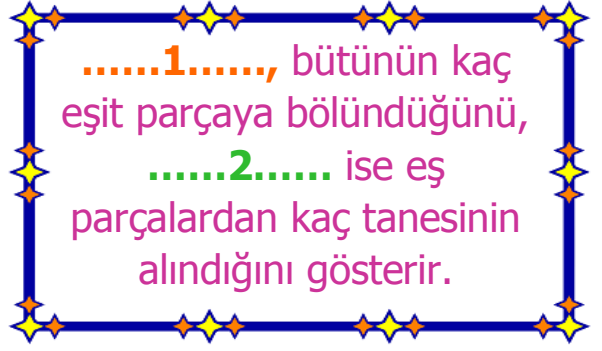
8)



Ali, yukarıdaki karpuzun okla gösterilen parçasını yemiştir. Buna göre aşağıdaki ifadelerden hangisi yanlış değildir?

- A) Karpuzun yarısını yemiştir.
- B) Ali karpuzun dörtte birini yemiştir.
- C) Geriye iki yarım karpuz kalmıştır.

9)




Yukarıda verilen cümledeki **noktalı alanlara** sırasıyla aşağıdakilerden hangileri gelmelidir?

- | | |
|----------|----------|
| <u>1</u> | <u>2</u> |
| A) kesir | - payda |
| B) pay | - payda |
| C) payda | - pay |

10) Aşağıda verilen **ifadelerden** hangisi doğrudur?

- A) Eş parçalara karşılık gelen sayı, kesir sayıdır.
- B) Kesirlerde kesir çizgisinin üzerindeki sayı kesrin paydasıdır.
- C) Kesirlerde kesir çizgisinin altındaki sayı kesrin payıdır.

11)



Yukarıdaki öğrencilerden hangisi **farklı** bir kesrin örneğini vermiştir?

- A) Gözde
- B) Hale
- C) Celil

CEVAP ANAHTARI

1) B

2) A

3) C

4) C

5) A

6) B

7) B

8) B

9) C

10) A

11) B