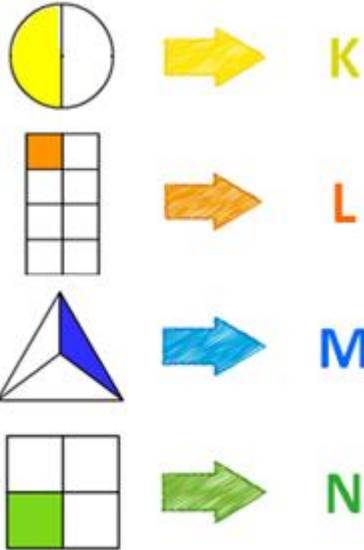


- 1) Bütünün eş parçalarından bir tanesine **birim kesir** adı verilir. Aşağıdaki şekillerden hangisinin **boyalı** alanı **birim kesir** örneğidir?




2)



Yukarıdaki şekillerin **boyalı** alanlarının ifade ettiği kesirlerle **harfler** eşleştirilmiştir. Buna göre **harflerin** yerine aşağıdakilerden hangisi yazılmalıdır?

|    | <b>M</b>      | <b>L</b>      | <b>N</b>      | <b>K</b>      |
|----|---------------|---------------|---------------|---------------|
| A) | $\frac{1}{3}$ | $\frac{1}{8}$ | $\frac{1}{4}$ | $\frac{1}{2}$ |
| B) | $\frac{1}{2}$ | $\frac{1}{8}$ | $\frac{1}{3}$ | $\frac{1}{4}$ |
| C) | $\frac{1}{3}$ | $\frac{1}{2}$ | $\frac{1}{8}$ | $\frac{1}{4}$ |

3)



Annem yaptığı pizzayı **4 eş** parçaya böldü. Eş parçalardan **bir tanesini** dayanamayarak yedim. Buna göre aşağıdakilerden hangisi **yanlış** değildir?

- A) Pizzanın birim kesir kadarını yedim.  
B) Pizzadan geriye birim kesir kadar kaldı.  
C) Ben pizzanın yarısını yemiş oldum.

4)



Yukarıdaki şekillerin **boyalı** alanlarının ifade ettiği kesirler **hayvanlarla** eşleştirilmiştir. Buna göre, hangi şeklin birim kesri **çeyreğe** eşittir?

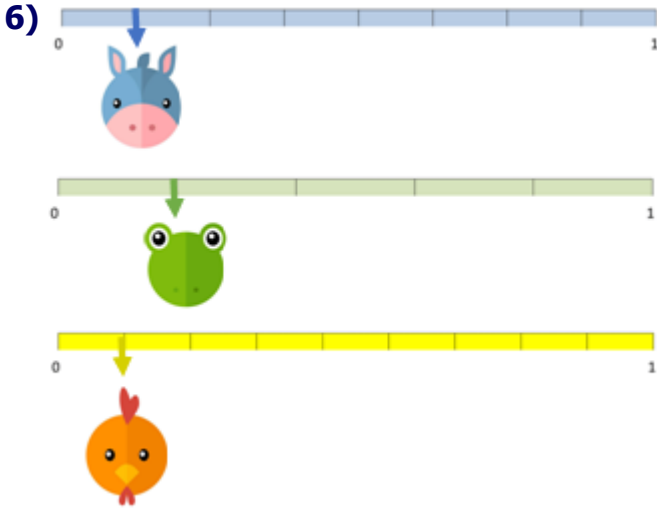
- A) tilki B) kurbağa C) baykuş

5)



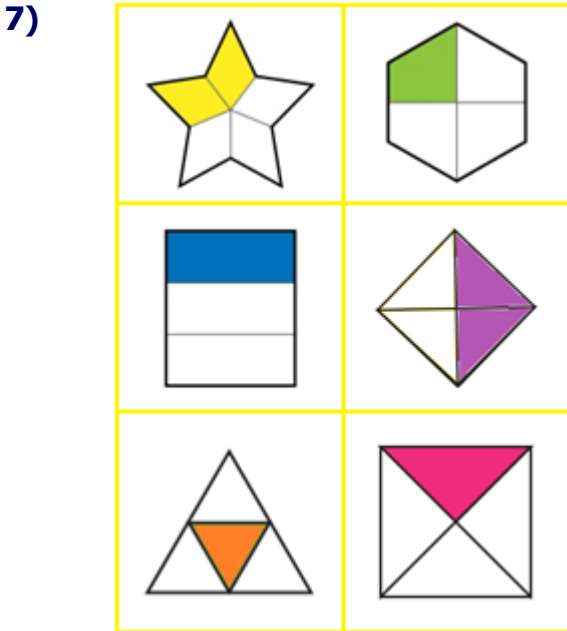
Yukarıdaki kesrin biriminin **okunuşu** aşağıdakilerden hangisidir?

- A) birde dokuz B) dokuzda bir C) onda bir



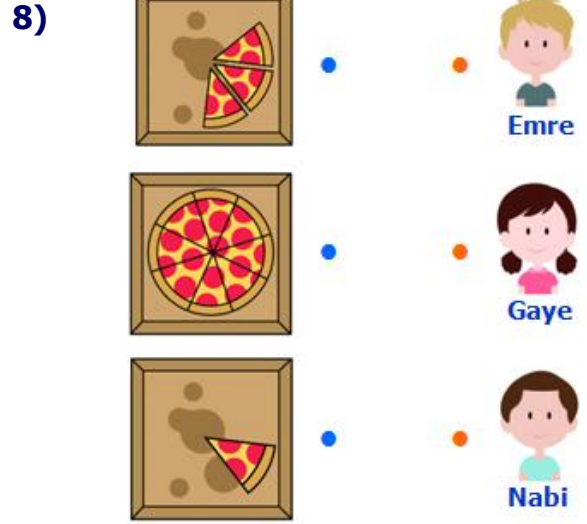
Yukarıdaki **sayı doğrularında**, her biri bir **hayvan** ile eşleştirilen birim kesirlerle ilgili aşağıdakilerden hangisi doğru değildir?

- A) Horoz, dokuzda bir birim kesrini ifade eder.
- B) Eşek, sekizde bir birim kesrini ifade eder.
- C) Kurbağa, birde beş birim kesrini ifade eder.



Yukarıdaki şekillerde, boyalı kısımlardan kaç tanesi **birim kesri** ifade etmez?

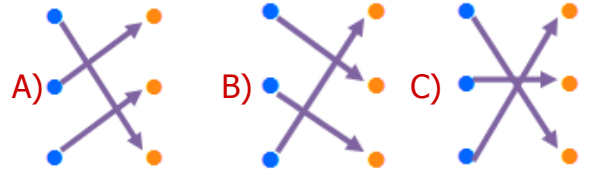
- A) 4
- B) 2
- C) 3



Üç arkadaş pizzacıdan **8 eş parçaya** bölünmüş birer pizza almışlardır. Bir süre sonra **şunları** söylemişlerdir:

- Gaye:** Pizzamın sekizde üçü duruyor.
- Emre:** Birim kesir kadar pizzam kaldı.
- Nabi :** Pizzamın birde biri duruyor.

Kalan pizzalarla çocuklar eşleştirilirse nasıl bir **görüntü** oluşur?



9) Aşağıdaki **bilgilerden** hangisi yanlıştır?

- A) 2 eş parçaya bölünmüş şeklin birim kesri, şeklin çeyreğidir.
- B) Bir şeklin eş parçalarından biri, bütünün birim kesridir.
- C) "altıda bir" 6 eş parçaya bölünmüş şeklin birim kesridir.

10) Yandaki şeklin **boyalı** kısımları kaç birim kesirden oluşmuştur?

- A) 2 tane  $\frac{1}{4}$
- B) 4 tane  $\frac{1}{6}$
- C) 2 tane  $\frac{1}{6}$

# CEVAP ANAHTARI

- 1) C
- 2) A
- 3) A
- 4) B
- 5) C
- 6) C
- 7) B
- 8) B
- 9) A
- 10) B