

1)



Model ile gösterilen bu kesirler arasında yapılan toplama işlemi aşağıdakilerden hangisidir?

- A) $\frac{3}{6} + \frac{3}{6} = \frac{6}{6}$ B) $\frac{4}{6} + \frac{3}{6} = \frac{7}{6}$
 C) $\frac{7}{6} + \frac{5}{6} = \frac{12}{6}$ D) $\frac{2}{6} + \frac{1}{6} = \frac{3}{6}$

2)

$$\frac{3 + \text{☀}}{10}$$

Yukarıdaki kesir bir basit kesir olduğuna göre ☀ yerine aşağıdaki rakamlardan hangisi yazılmaz?

- A) 4 B) 6 C) 3 D) 7

3) Kesirlerle yapılan bu çıkarma işlemlerinden hangisinin sonucu yanlış bulunmuştur?

- A) $\frac{6}{8} - \frac{3}{8} = \frac{3}{8}$ B) $\frac{20}{21} - \frac{18}{21} = \frac{2}{21}$
 C) $\frac{14}{14} - \frac{9}{14} = \frac{5}{14}$ D) $\frac{28}{17} - \frac{10}{17} = \frac{8}{17}$

4)

Bir manavdaki 55 kg portakalın $\frac{3}{5}$ 'i satılıyor. Geriye kaç kg portakal kalmıştır?

- A) 33 kg B) 22 kg C) 11 kg D) 44 kg

5)



Yukarıdaki paranın $\frac{4}{5}$ 'i ile alışveriş yaptım. Buna göre kaç para harcamış oldum?

- A) 40₺ B) 30₺ C) 20₺ D) 10₺

6)

4/B sınıfının mevcudu 54 kişidir. Bu sınıftaki öğrencilerin $\frac{4}{6}$ 'ü kız olduğuna göre, erkek öğrenci sayısı kaçtır?

- A) 36 B) 27 C) 18 D) 21

7)

$$\frac{M}{6} + \frac{3}{6} = \frac{9}{6}$$

Verilen toplama işlemine göre M rakamının 4 katı aşağıdakilerden hangisi olmalıdır?

- A) 6 B) 12 C) 18 D) 24

8)

! $\frac{A+B}{13}$ kesri, bileşik kesirdir. !


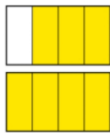
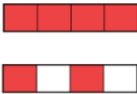

Bu bilgiye göre, A ve B yerine aşağıda verilen değerlerden hangisi yazılabilir?

- A) $\frac{A=6}{B=8}$ B) $\frac{A=9}{B=1}$ C) $\frac{A=2}{B=7}$ D) $\frac{A=11}{B=1}$

9) "Altı bölü on" ile "onda iki" kesirlerinin arasındaki fark kaçtır?

- A) $\frac{2}{6}$ B) $\frac{10}{6}$ C) $\frac{4}{10}$ D) $\frac{4}{6}$

10) $\frac{2}{4}$ ile $\frac{5}{4}$ 'ün toplamının modelle gösterimi aşağıdakilerden hangisidir?

- A)  B)  C)  D) 

11)

$$\frac{12}{33} + \frac{T}{U} = \frac{23}{33}$$

Yukarıda verilen toplama işlemine göre T ve U sayılarının toplamı kaçtır?

- A) 33 B) 56 C) 45 D) 44

12)



Sayı doğrusunda gösterilen kesirin okunuşu aşağıdakilerden hangisidir?

- A) İki tam bir bölü dört
B) Bir tam beşte iki
C) Bir tam dörtte bir
D) Yedi bölü altı

13) Bir araç 280 km yolun $\frac{3}{7}$ 'ünü gitmiştir. Geriyeye kalan yol kaç km'dir?

- A) 120 km B) 160 km
C) 180 km D) 200 km

14)



Bu pizza 42 TL'dir. Buna göre her bir eş dilimden bir tanesinin fiyatı kaç TL olmalıdır?

- A) 9₺ B) 8₺ C) 7₺ D) 6₺

Cevap Anahtarı

- 1- B
- 2- D
- 3- D
- 4- B
- 5- A
- 6- C
- 7- D
- 8- A
- 9- C
- 10- B
- 11- D
- 12- B
- 13- B
- 14- C