

1) Hangi sözcük hecelerine doğru bir şekilde ayrılmıştır?

- A) ten-ef-füs
B) ko-ri-dor
C) öğr-en-ci

2) Aşağıdaki meyvelerden hangisinin ismi iki hecelidir?



3) Aşağıdaki varlıklardan hangisinin hece sayısı daha fazladır?



4) Yandaki aracın ismi hangi seçenekte doğru bir şekilde hecelerine ayrılmıştır?



- A) tr-ak-tör
B) trak-tör
C) t-rak-tör

5) Aşağıdaki sebzelerden hangisinin ismi tek hecelidir?



6)

jan	ter	dar	de	ma
-----	-----	-----	----	----

Yukarıdaki heceler kullanılarak hangi sözcük yazılamaz?

- A) deterjan
B) jandarma
C) dondurma

7) Aşağıdakilerden hangisinin isminde "dal" hecesi vardır?



8) Aşağıdaki sözcüklerden hangisinde bir harften oluşan hece vardır?

- A) Sınıf B) Okul C) Ders

9)



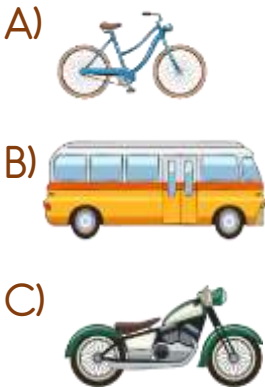
Aşağıdaki hecelerden hangisi yukarıdaki varlıkların hepsinin isminde bulunur?

- A) ce B) re C) te

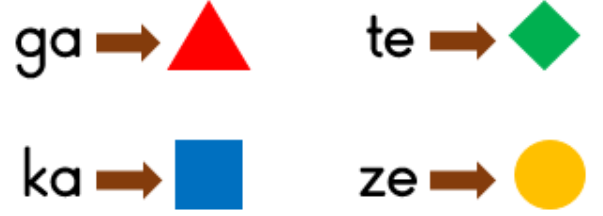
10) Yandaki varlığın hece sayısı ile hangi varlığın hece sayısı birbirine eşittir?






11) Aşağıdaki taşıtlardan hangisinin ismi farklı bir hece ile bitmektedir?



12)



Yukarıdaki eşleştirmeye göre aşağıdakilerden hangisi anlamlı bir sözcük değildir?

- A) 
B) 
C) 

13) "İkinci sınıfa gidiyorum."

Yukarıda verilen cümle kaç heceli bir cümledir?

- A) 8 B) 9 C) 10

14)



Benim ismim üç heceli ve her hecesi iki harften oluşuyor.

Verdiği bilgiye göre yukarıdaki kızın ismi nedir?

- A) Fadime B) Serpil C) Hale

Cevap Anahtarı

1-B 2-A 3-B 4-B 5-C 6-C 7-A 8-B 9-B 10-A 11-B 12-C 13-C 14-A