






Yukarıdaki çeyrek elmalar kaç tane bütün elma yapar ?

- A) 2 B) 3 C) 4

2) Aşağıdaki çocuklardan hangisinin verdiği bilgi **yanlıştır**?

- A)  4 bütün ekmek 8 yarım ekmek eder.
 B)  6 yarım pasta 12 çeyrek pasta eder.
 C)  3 bütün armut 9 çeyrek armut eder.

3) Yarım aşağıdaki kesirlerden hangisiyle **gösterilemez** ?

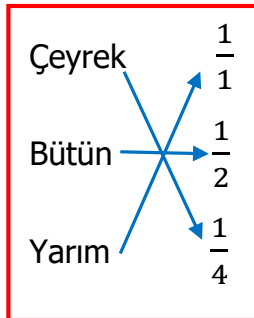
- A) $\frac{3}{4}$ B) $\frac{1}{2}$ C) $\frac{2}{4}$

4) Aşağıdaki şekillerden hangisi çeyrektir ?



5) Yandaki eşleştirmelerden hangileri yer değiştirirse doğru bir eşleştirme olur?

- A) Bütün ile Çeyrek
 B) Bütün ile Yarım
 C) Yarım ile Çeyrek



6) Aşağıdakilerden hangisi birim kesirdir ?

- A) $\frac{1}{8}$ B) $\frac{3}{8}$ C) $\frac{8}{8}$

7) Yandaki şeklin boyalı kısmı hangi kesir sayısı ile ifade edilir ?



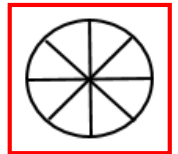
- A) $\frac{6}{3}$ B) $\frac{3}{6}$ C) $\frac{1}{3}$

8) $\frac{1}{4}$, $\frac{3}{5}$, $\frac{4}{8}$, $\frac{1}{6}$, $\frac{1}{9}$, $\frac{2}{7}$, $\frac{6}{12}$, $\frac{1}{10}$

Yukarıdaki kesir sayılarından kaç tanesi birim kesirdir ?

- A) 2 B) 3 C) 4

9) Aysu yandaki şeklin $\frac{5}{8}$ 'ini boyamak istiyor. Aysu kaç tane parçayı boyamış olursa doğru yapmış olur ?



- A) 8 B) 5 C) 3

10) Okan'ın annesi yaptığı pastayı 8 dilime ayırmış. Okan pastanın birim kesir kadarını yemiş. Geriye kaç parça dilim kalmıştır ?

- A) 7 B) 6 C) 1