




1)  $4 + 4 + 4 + 4 + 4$   
Yukarıdaki tekrarlı toplama işleminin çarpma olarak anlamını kim doğru söylemiştir ?

- A)  4 tane 5
- B)  5 tane 4
- C)  5 tane 5

2) 

Yukarıdaki modele uygun işlem aşağıdakilerden hangisidir ?

- A)  $4 + 4 + 4$       B)  $3 + 3 + 3$   
C)  $3 + 3 + 3 + 3$

3) 


Yukarıdaki çarpma işleminin tekrarlı toplama işlemi şeklinde gösterimi hangisidir ?

- A)  $3+3+3$       B)  $5+5+5+5$   
C)  $5+5+5$

4) Her gün 3 tane ekmek tüketen bir aile bir haftada kaç tane ekmek tüketir?




Elif yukarıdaki problemi çözmek için aşağıdaki işlemlerden hangisini **yapmamalıdır** ?

- A)  $7 \times 3$       B)  $7+7$   
C)  $3+3+3+3+3+3+3$

5) 

Yukarıdaki modele uygun işlem hangisi olamaz ?

- A)  $4 \times 4$       B)  $8 \times 4$   
C)  $4+4+4+4+4+4+4+4$




6)   $5 \times 3$         $3 + 3 + 3 + 3$   
  $3 + 3 + 3 + 3 + 3$

Yukarıdaki işlemlerden hangilerinin sonucu aynıdır ?

- A)  ,       B)  ,       C)  , 



7) 

Yukarıdaki işlemin modelle gösterilişi hangisidir?

- A) 
- B) 
- C) 

8)  $4 + 4 + 4 + 4 + 4$       •       $3 \times 2$   
 $2 + 2 + 2$       •       $6 \times 3$   
 $3+3+3+3+3+3$       •       $5 \times 4$

Yukarıdaki toplama işlemleri çarpma işlemleriyle doğru bir şekilde eşleştirilirse hangi şekil oluşur?

- A)       B)       C) 