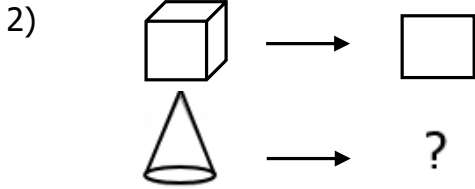



1) Hangi seçenekteki kavramlar arasında diğerlerinden farklı bir ilişki vardır?

- A) okul - sınıf B) ev – oda
C) ceket - cep D) taş - toprak



Görseller arasındaki ilişkiye göre soru işareti yerine ne gelmelidir ?

- A) B) C) D)



Görseller arasındaki ilişkiye göre soru işareti yerine ne gelmelidir ?

- A) B)
C) D)



Yukarıdaki iki şeklin birleşmesiyle aşağıdaki şekillerden hangisi ortaya çıkar ?

- A) B)
C) D)

5) Babamızın kardeşi amcamız değilse bizim neyiz olur ?

- A) dayımız B) eniştemiz
C) teyzemiz D) halamız



Yukarıdaki şeklin simetrisi aşağıdakilerden hangisidir ?

- A) B)
C) D)

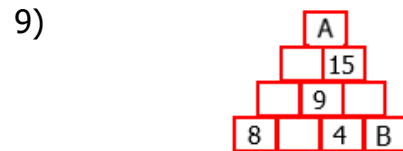
7) 1 - 4 - 9 - 16 - 25 - ?

Yukarıdaki sayılar belli bir kurala göre sıralanmıştır. Buna soru işaretleri yerine hangi harfler gelmelidir ?

- A) 36 B) 30 C) 32 D) 35

8) Aşağıdaki maddelerin 3 tanesi bir yönden benzerlik gösterirken 1 tanesi diğerlerinden farklıdır. Farklı olan hangisidir ?

- A) un B) bulgur
C) süt D) ayran



Yukarıda yan yana komşu iki sayı toplanarak yukarıya yazılmaktadır . Buna göre A ve B kaçtır ?

- A) 36-2 B) 37-3 C) 37-2 D) 36-3