



KARAGÖZ İLE HACİVAT






Anlatılanlara göre Karagöz ile Hacivat, Bursa'da Ulu Cami'nin yapımında çalışan iki işçidir. Karagöz demir ustası, Hacivat ise duvar ustasıdır. İkisinin arasında geçen komik konuşmalar nedeniyle inşaattaki çalışmalar aksamış, bu nedenle de Karagöz ile Hacivat cezalandırılmıştır.

Bu duruma üzülen Şeyh Küşteri, Karagöz ile Hacivat'ın kuklalarını yaparak perde arkasında oynatmaya başlamıştır. Bu sayede Karagöz ile Hacivat'ın namı günümüze kadar gelmiştir.

(İlk 3 soruyu metne göre cevaplayınız.)

- 1) Karagöz ile Hacivat nerede çalışıyormuş?
 - A) Saray yapımında
 - B) Ulu Cami yapımında
 - C) Yol yapımında
- 2) Metne göre aşağıdaki bilgilerden hangisi yanlıştır?
 - A) Karagöz demir ustasıdır.
 - B) Hacivat duvar ustasıdır.
 - C) Olay Burdur'da geçmektedir.

- 3) Karagöz ile Hacivat'ın kuklalarını kim yapmıştır?
 - A) Şeyh Küşteri
 - B) Şeyh Edebali
 - C) Şeyh Şamil
- 4) Aşağıdaki sözcüklerden hangisi hecelerine doğru bir şekilde ayrılmıştır?
 - A) Kar-an-fil
 - B) Pa-pat-ya
 - C) Me-ne-kşe
- 5) Aşağıdaki meyvelerden hangisinin ismi üç hecelidir?
 - A) 
 - B) 
 - C) 

- 6)

re	te	ce	pen	ten
----	----	----	-----	-----

Yukarıdaki heceler kullanılarak hangi sözcük yazılamaz?

- A) tencere
- B) pencere
- C) testere

7) Aşağıdaki sözcüklerden hangisinin hece sayısı farklıdır?

- A) Helikopter
- B) Bisiklet
- C) Otomobil

8) ▲ Ahmet okula geldi. (7)

■ Sınıfta okuma yaptık. (8)

● Okulumu çok özledim. (8)

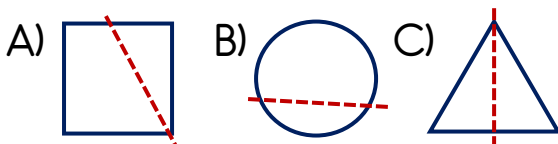
Yukarıdaki cümlelerden hangisinin veya hangilerinin hece sayısı doğru verilmiştir?

- A) Yalnız ▲
- B) ■ ve ●
- C) ▲ , ■ ve ●

9) Aşağıdaki varlıklardan hangisi tam ortadan iki eş parçaya ayrılabilir?




10) Aşağıdaki şekillerden hangisi tam ortadan iki eş parçaya ayrılmıştır?



11) Aşağıdaki harflerden hangisi simetrik değildir?



12) Aşağıdakilerden hangisi bir örüntü değildir?



13) 

Yukarıdaki örüntünün kuralı aşağıdakilerden hangisidir?

- A) Bir kelebek, bir arı
- B) İki kelebek, iki arı
- C) Dört kelebek, dört arı

14) 

Yukarıdaki örüntüde soru işareti ile belirtilen yerlere yazılması gereken rakamların toplamı kaçtır?

- A) 13
- B) 15
- C) 16

15) Kural: 3 çember, 1 kare, 2 üçgen

Yukarıda kuralı verilen örüntü aşağıdakilerden hangisidir?

- A) ●●●■▲▲●●●■▲▲
B) ○○○■▲▲○○○■▲▲
C) ○○○▲■▲○○○▲■▲

16) Aşağıdaki ifadelerden hangisi yanlıştır?

- A) Mevsime uygun giyinmeliyiz.
B) Yaz mevsiminde bizi terletmeyen kıyafetler giymeliyiz.
C) Kış mevsiminde ince kıyafetler giymeliyiz.

17) Melek'in giymiş olduğu kıyafete göre mevsim hangisi olabilir?



- A) Yaz B) Sonbahar C) Kış

18) Aşağıdaki eşleştirmelerden hangisi yanlıştır?

- A) İlkbahar → Gömlek
B) Yaz → Mont
C) Kış → Kazak

19)



Yukarıdaki araçlardan kaç tanesi kara yolu ulaşım aracıdır?

- A) 2 B) 4 C) 6

20)



Yaz tatilinde ailemle İstanbul'a gittik. Önce tramvay ile havaalanına, oradan uçak ile Sabiha Gökçen'e, oradan da otobüs ile İstanbul'a ulaştık.

Muhammed ve ailesi İstanbul'a gitmek için sırası ile hangi yolları araçlarını kullanmışlardır?

- A) Demir yolu-hava yolu-kara yolu
B) Kara yolu-hava yolu-kara yolu
C) Demir yolu-kara yolu-deniz yolu

Cevap Anahtarı

1-B 2-C 3-A 4-B 5-B 6-C 7-B 8-C 9-A 10-C 11-B 12-C 13-B 14-A 15-B 16-C
17-B 18-B 19-A 20-A