

Nasrettin Hoca pazara giderken çocuklar etrafını sarmışlar. Hepsi birer düdük ismarlamış, ama para veren olmamış.

Hoca çocukların tümüne olumlu cevap vermiş. Çocuklardan biri, elindeki parayı **Hoca'ya** uzatıp şunları söylemiş:

– Şu parayla bana bir düdük getirir misin?

Hoca akşama doğru pazardan dönmüş. Yolunu bekleyen çocuklar hemen **Nasrettin Hoca'nın** etrafını sararak düdüklerini istemişler.

Nasrettin Hoca, cebinden bir düdük çıkarıp kendisine para veren çocuğa uzatmış.

Ötekileri bağırmaya başlamışlar:
– Ya bizim düdükler nerede?

Nasrettin Hoca'nın cevabı kısa ve anlamlı olmuş:
– Parayı veren düdüğü çalar.

➤ İlk soruyu metne göre cevaplayınız.

1) Yukarıdaki metnin **ana fikri** aşağıdakilerden hangisidir?

- A) İnsanları asla dış görünüşlerine bakarak yargılamamalıyız.
- B) Zor durumda kalan insanlara yardım etmeliyiz.
- C) Bir şeye sahip olmak istiyorsak, onun karşılığını vermemiz gerekir.

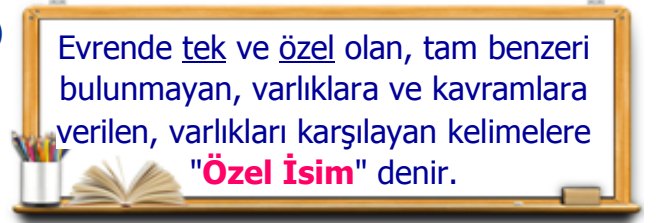
2)



Yukarıdaki kamyonetlerden, üstünde **zıt anlamlı kelimeler** yazanlar süt, üstünde **eş anlamlı kelimeler** yazanlar ise un taşımaktadır. Buna göre kaç adet kamyonet **un** taşımamaktadır?

- A) 5
- B) 4
- C) 3

3)



Yukarıdaki **tanıma** göre aşağıda verilen örneklerden hangisinin tümü **özel isimdir**?

- A) Hayvan Samsun Yeşil Mars
- B) Mehmet İngiltere Atatürk Öğrenci
- C) Ayşe Uludağ Türkçe Afrika

4) Aşağıdaki cümlelerden hangisinde kelimelerden tümü hecelerine, **doğru** ayrılmıştır?

- A) A-i-le-si biz-de kal-ma-sı-na i-zin ver-di.
- B) Do-ğal af-et-ler za-rar-lar ve-re-bi-lir.
- C) A-ğ-a-cı ku-rt in-sa-nı de-rt yer.

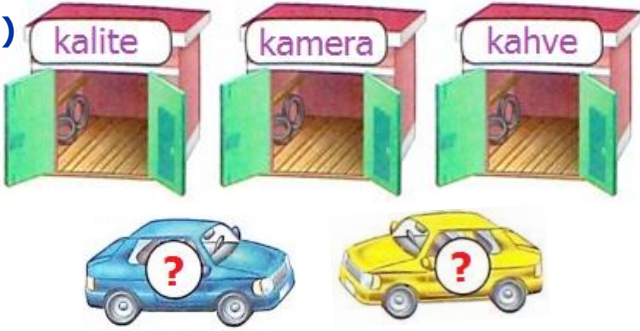
5)



Yukarıdaki çocuklardan hangisi, gösterdiği kelimeleri **doğru** yazmıştır?

- A) Ali B) Efe C) Oya

6)



Yukarıdaki arabalardan her biri bir garaja girecektir. Garajların üzerindeki kelimeler sözlük sırasına göre sıralandığında **1.** ve **3.** kelimelerin bulunduğu garajlara arabalar girecektir. Buna göre hangi kelimenin yazılı olduğu garaj **boş** kalır?

- A) kamera B) kalite C) kahve

7)

Hakan () İrem ve Ebru pikniğe gelmediler () Neden karar değiştirdiler bilmiyorum ()

Cümlelerde **parantez** içlerine sırasıyla hangi **noktalama** işaretleri gelmelidir?

- A) (.) (.) (?) B) (,) (.) (?)
C) (,) (.) (.)

8)

Yazılış ve okunuşları aynı, anlamları farklı olan sözcüklere **eş sesli sözcükler** denir

Aşağıdaki cümlelerden hangisinde **eş sesli** bir kelime yoktur?

- A) Dün gece sinemaya gittiniz mi?
B) Bu yaz köye gitmeyi düşünüyoruz.
C) Her işte bir hayır vardır.

9)

"Kiler" kelimesi çoğul değildir.	
"Sepet" kelimesi tekil değildir.	
"Para" çoğul bir kelimedir.	
"Arılar" kelimesi tekil değildir.	

Yukarıda bilgilerden doğru olana **D**, yanlış olana **Y** yazarsak nasıl bir görüntü oluşur?

A)	D	B)	D	C)	Y
	D		Y		Y
	Y		Y		D
	D		D		Y

10)

10 Kasım 1938'de vefat etti.	★
19 Mayıs 1919'da Samsun'a çıktı.	❖
1881 yılında Selanik'te doğdu.	■
23 Nisan 1920'de TBMM'yi açtı.	♥

Yukarıdaki olayları oluş sıralarına göre sıralarsak **2. sırada** hangi cümle olur?

- A) ♥ B) ★ C) ❖

8 birlik + 2 yüzük + 6 onluk	★
3 birlik + 5 yüzük	●
4 yüzük + 1 birlik + 7 onluk	■

Her biri bir **şekil** ile eşleştirilen **sayılardan** hangisi diğerlerinden daha **büyük**tür?

- A) ● B) ■ C) ★

12)

Yukarıdaki gemilerin sayıları ile iskeleler eşleştirilirse **çift sayılar iskelesine** kaç gemi yanaşır?

- A) 5 B) 4 C) 3

13)

Yukarıda anne ve baba çocuklarının yaşlarını belirtmişlerdir. Buna göre **Arda** ve **Oya'nın** yaşlarının **Romen** rakamları ile gösterilişi hangisidir?

	<u>Arda</u>	<u>Oya</u>
A)	XIV	V
B)	XIX	XIV
C)	IX	XV

14)

Satıcı yukarıdaki ürünlerin fiyatlarını **en yakın yüzüklerine** yuvarlayarak satmaya karar vermiştir. Buna göre satıcı kaç üründe eski fiyata göre zarar edecektir?

- A) 1 B) 2 C) 3

15) **6, 0, 8** ve **5** rakamlarıyla yazılabilecek, rakamları farklı, **üç** basamaklı, en **büyük** ve en **küçük** sayının farkı kaçtır?

- A) 333 B) 359 C) 809

16)

	H	5	8		4	7	R
	1	S	5		2	T	3
+	-----			+	-----		
	5	0	3		7	7	1

Yukarıda **verilmeyen** rakamların yerlerine **harfler** yazılmıştır. Bu **harflerden** oluşan üç basamaklı **HTS** sayısının en yakın onluğu kaçtır?

- A) 390 B) 380 C) 400

17) Tablo : Alınan Oy Sayısı

Ufuk	
İpek	
Halil	
Eda	

Yukarıda **sınıf başkanlığı** seçim sonuçları çetele tablosu olarak verilmiştir. Bu sonuçlar sıklık tablosu olarak düzenlenirse aşağıdaki tablolardan hangisi **doğru** olur?

A)

Kişi	Sayı
Halil	XIV
İpek	XII
Eda	IX
Ufuk	VI

B)

Kişi	Sayı
Eda	XII
İpek	XI
Halil	XV
Ufuk	XVI

C)

Kişi	Sayı
Ufuk	XV
Eda	VI
İpek	XII
Halil	IX

18)



₺479



₺299

Yukarıdaki aletlerin ikisini de almak için para biriktiren **Hazel**, toplam **559** lira para biriktirmiştir. Buna göre Hazel'in ne kadar daha paraya ihtiyacı vardır?

- A) ₺997 B) ₺778 C) ₺219

19)



Her gün bir önceki günün 3 katı kadar balon satan baloncu ilk gün **18** balon sattıysa **4. gün** kaç balon satmıştır?

- A) 486 B) 324 C) 162

20)



Bir çiftlikteki tavukların ayak sayısı **192**, ineklerin ayak sayısı **288'dir**. Tavuklardan **25** fazla da hindi vardır. Buna göre bu çiftlikte **toplam** kaç hayvan vardır?

- A) 317 B) 289 C) 235

21)

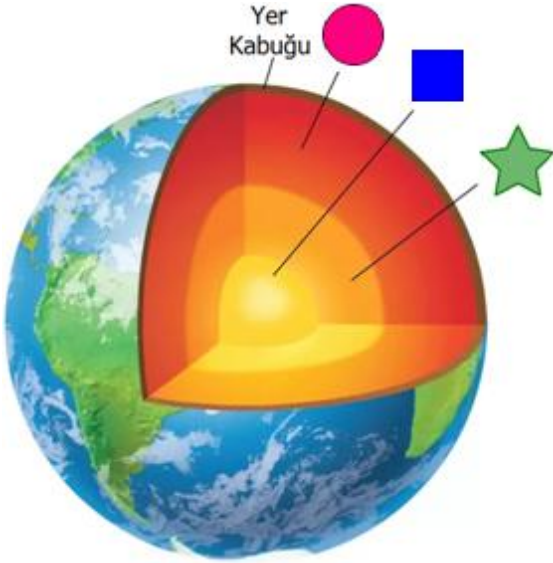


Dünya düz ve dikdörtgen biçimindedir. Gökyüzü Dünya'nın dört köşesinde dört sütun üzerinde durmaktadır. Dünya'nın sınırlarının ötesinde geniş ve başı sonu olmayan bir akarsu vardır.

Yukarıda Dünya'nın **şekli** ile ilgili görüş öne süren kişi hangi uygarlığı temsil etmektedir?

- A) Eski Hintliler
- B) Eski Mısırlılar
- C) Eski Yunan Düşünürler

22)



Yukarıda şekillerle eşleştirilen **katmanlar** aşağıdakilerden hangisidir?



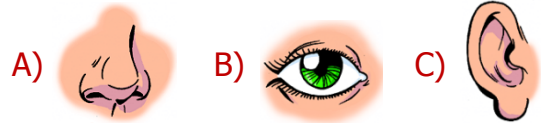
- A) İç Çekirdek – Dış Çekirdek – Manto
- B) Manto – Dış Çekirdek – İç Çekirdek
- C) Dış Çekirdek – Manto – İç Çekirdek

23)



Ders çalışan **Ege**, annesinin çığlık atması üzerine mutfağa koştu. **Annesi** yanlışlıkla parmağını kesmişti. **Ege** bu duruma çok üzüldü. **Annesi** küçük bir kesik olduğunu söyledi. Parmağına yara bandı sardılar.

Yukarıdaki olayda hangi **duyu organı** kullanılmamıştır?



24)

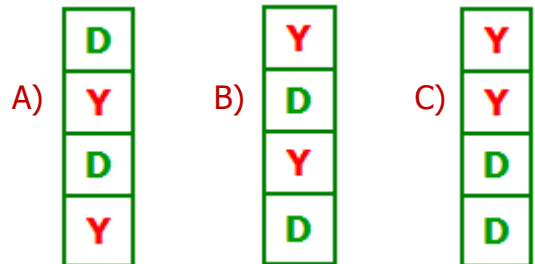
Uzun süre televizyon izlemek ya da bilgisayar kullanmak gözleri yormaz.

Kulaklıkla uzun süreli ve yüksek sesle müzik dinlemekten kaçınmamalıyız.

Burun sağlığımızı korumak için burnumuzu bol su ile düzenli olarak temizlemeliyiz.

Dişlerimizi fırçalarken dilimizi de temizlemeliyiz.

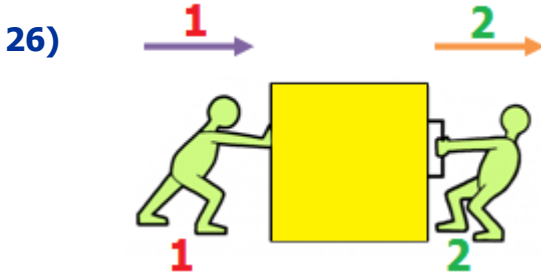
Yukarıdaki bilgilerden doğru olana **D**, yanlış olana **Y** yazarsak nasıl bir görüntü oluşur?



- 25) I. Dünya'nın kendi etrafında yaptığı hareket dönme hareketine örnektir.
 II. Asansör duracağı kata yaklaşırken hızlanma hareketi yapar.
 III. Kırmızı ışığı gören sürücü hızlanma hareketi yapmaz.
 IV. Yol boyunca ilerleyen otomobil virajda yön değiştirme hareketi yapar.

Hareket türleriyle alakalı yukarıdaki cümlelerden hangileri yanlış değildir?

- A) I - II - III B) I - III - IV
 C) II - III - IV



Yukarıdaki cisme, 2 kişi tarafından **oklarla** gösterilen yönde **kuvvet** uygulanmaktadır. Bu durumla ilgili aşağıdakilerden hangisi doğrudur?

- A) 1 numaralı kişi çekme kuvveti uyguluyor.
 B) 2 numaralı kişi itme kuvveti uygulamıyor.
 C) Cisim, okların tersi yönde hızlanır.

27) Hareket halindeki bazı varlıkları durdurmaya çalışmak çeşitli **tehlikelere** yol açabilir. Aşağıdaki **davranışlardan** hangisi tehlikeli değildir?

- A) Çalışan vantilatörün pervanesini elimizle durdurmaya çalışmak
 B) Salıncakta hızla sallanan bir kişiyi, önüne geçerek durdurmaya çalışmak
 C) Çok yüksekten aşağı atılan deniz topunu tutmaya çalışmak

28)



Pınar, arkasına sakladığı cisimle alakalı Kenan'a **3** adet **ipucu** vermiştir.

- I. Sert bir maddedir.
 II. Esnek değildir.
 III. Yüzeyi pürüzlüdür.

Buna göre Pınar'ın **sakladığı** cisim aşağıdakilerden hangisi olabilir?

- A) kiremit B) bulaşık süngeri
 C) metal kaşık

29)

SIVI	GAZ	KATI

Yukarıdaki tabloda **şekillerin** yerine aşağıdakilerden hangisi yazılabilir?



- A) ayran hava taş
 B) cam benzin su buharı
 C) oksijen tahta süt

30)



Aşağıdakilerden hangisi, **ışığın** günlük hayatta sağladığı **kolaylıklardan** değildir?

- A) Yuvası yer altında olan hayvanlar, yerin altında ışığı kullanırlar.
 B) Pilotların gece yolculuklarında pisti rahat görebilmesi için ışık kullanılır.
 C) Gece yolculuğu yapacak olan kişiler araçlarının farlarını açarlar.

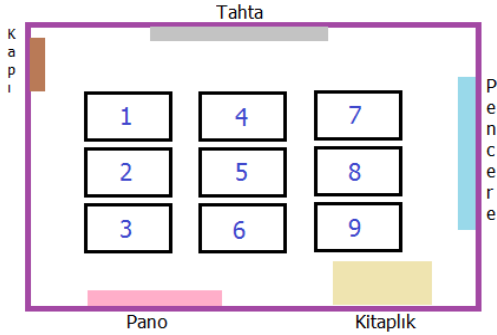
31)



Sibel, gözlük kullandığı için sınıf arkadaşı Jale ile dalga geçmektedir. Jale bu duruma çok üzülmemektedir. Buna göre Sibel ile ilgili aşağıdakilerden hangisini söyleyemeyiz?

- A) Farklılıklara karşı saygılı değildir.
- B) Karşıdaki insanın yerine kendini koymamaktadır.
- C) Arkadaşının iyiliği için onunla dalga geçmektedir.

32)



- **Aslı**, pencere kenarında baştan 3. sırada oturmaktadır.
- **Fatih**, kapı tarafındaki en arka sırada oturmaktadır.
- **Leyla**, Aslı'nın önündeki sırada oturuyor.

Krokiye ve yukarıdaki ipuçlarına göre öğrencilerin oturdukları sıralar hangileridir?

- | | Fatih | | Leyla | | Aslı |
|----|--------------|---|--------------|---|-------------|
| A) | 3 | - | 8 | - | 9 |
| B) | 1 | - | 5 | - | 7 |
| C) | 8 | - | 9 | - | 3 |

33)

Dayanışmayı azaltır.	İş birliğini geliştirir.
Özgüveni artırır.	Kötü alışkanlıktan uzak tutmaz.
Saygı ve sevgiyi artırır.	Duyarlılığı yok eder.

Tabloda verilenlerden kaç tanesi, okulda yapılan **sosyal ve kültürel** faaliyetlerin faydalarındandır?

- A) 4 B) 3 C) 2

34)



Mert utangaç bir öğrencidir. Öğretmenin sorduğu tüm soruların cevaplarını bilmesine rağmen cevap vermekten çekinmektedir.

Aşağıdaki ifadelerden hangisini **Mert'e** söylememiz doğru olmaz?

- A) Gerektiği zaman konuşmazsak karşımızdaki bizi yanlış anlayabilir.
- B) Utangaç ve çekingen insanlarla kimse arkadaşlık yapmak istemez.
- C) Duygu ve düşüncelerimizi ifade edersek kendimize güvenimiz artar.

35) Aşağıdaki **teknolojik ürünlerden** hangisi diğerlerinden daha eskidir?



Oyuncakları toplamak	Ütü yapmak	Düzenli olmak
Yemek yapmak	Ders çalışmak	Çatı tamiri yapmak

Yukarıdaki tabloda verilenlerden, **3. sınıf** öğrencisinin görev ve sorumlulukları olanları boyarsak nasıl bir görüntü oluşur?

- A)

 B)

- C)

Duştan önce suyu, ısınması için boşa akıtırım.	
Tabağıma yiyemeyeceğim kadar yemek koyarım.	
Alışverişe çıkmadan önce ihtiyaç listesi hazırlarım.	
Enerji tasarruflu ampuller kullanırım.	
Yazın evi ısıtmak için doğal gazı kullanırım.	

Yukarıdaki tabloda doğru davranışlara **D**, yanlış davranışlara **Y** yazarsak nasıl bir görüntü oluşur?

- A)

D
Y
D
Y
D

 B)

Y
D
Y
D
Y

 C)

Y
Y
D
D
Y

38) Aşağıdaki resimlerden hangisi **kişisel bakımla** ilgili değildir?



Patlıcan	Portakal	Pırasa	İncir
			
1	2	3	4

Yukarıdaki tablodaki sebze ve meyvelerden hangileri **yaz** mevsiminde yetişir.

- A) 1 ve 4 B) 3 ve 2 C) 2 ve 4

40)



Yukarıdaki **kişiyile** alakalı aşağıdaki ifadelerden hangisi yanlış değildir?

- A) Her besinden yeteri kadar ve uygun zamanda tüketmektedir.
- B) Yağ ve şeker oranı yüksek olan besinlerden uzak durmaktadır.
- C) Dengesiz ve düzensiz beslendiği için sağlık sorunları yaşayabilir.

CEVAP ANAHTARI

TÜRKÇE	MATEMATİK	FEN BİL.	HAYAT BİL.
1) C	11) A	21) B	31) C
2) B	12) C	22) C	32) A
3) C	13) B	23) A	33) B
4) A	14) B	24) C	34) B
5) A	15) B	25) B	35) C
6) B	16) A	26) B	36) A
7) C	17) C	27) C	37) C
8) A	18) C	28) A	38) B
9) B	19) A	29) B	39) A
10) C	20) B	30) A	40) C